



ក្រសួងអប់រំ យុវជន និងកីឡា
នាយកដ្ឋានបឋមសិក្សា

កម្រងទឹកដ្ឋការដ្ឋះ

គណិតវិទ្យា

ថ្នាក់ទី២

ឆ្នាំ២០២១






សាលាបឋមសិក្សា.....
 ឈ្មោះសិស្ស.....

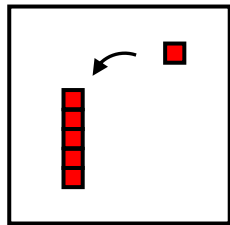
កិច្ចការផ្ទះ
គណិតវិទ្យា ថ្នាក់ទី២
មេរៀនទី១ “ចំនួនដល់ ១០០០”

១. ចូរគូសសញ្ញា ✓ ក្នុង ចម្លើយដែលត្រឹមត្រូវ (១ពិន្ទុ)



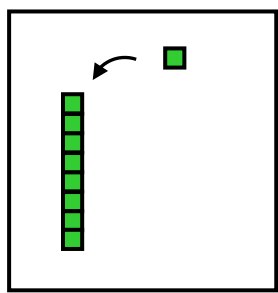
- ក. ១ ខ. ៥ គ. ៦ ឃ. ៧

២. ចូរគូសសញ្ញា ✓ ក្នុង នៃពាក្យអានខាងក្រោមដែលត្រឹមត្រូវ (១ពិន្ទុ)




- ក. មួយ ខ. ប្រាំ គ. ប្រាំមួយ ឃ. ប្រាំពីរ

៣. ចូរសរសេរចំនួនតាមរូបភាពខាងក្រោម (១ពិន្ទុ)



.....

៤. ចូរបំពេញចំនួនក្នុងរូបខាងក្រោម (២ពិន្ទុ)



៥. ចូររាប់បន្តយម្តង១០ រួចបំពេញចំនួនក្នុងប្រអប់ខាងក្រោម (២ពិន្ទុ)

១០០	៩០		៧០		៥០			២០	១០
-----	----	--	----	--	----	--	--	----	----

៦. ចូរសរសេរពាក្យអាននៃចំនួនខាងក្រោម (២ពិន្ទុ)

២	៦	៨
.....ពីរ.....

៧. ចូរគូសភ្ជាប់ចំនួនទៅនឹងពាក្យអាន (១ពិន្ទុ)

	ប្រាំ
៧	ប្រាំពីរ
	ប្រាំបី



សាលាបឋមសិក្សា.....
ឈ្មោះសិស្ស.....

កិច្ចការផ្ទះ
គណិតវិទ្យា ថ្នាក់ទី២
មេរៀនទី១ “ចំនួនដល់ ១០០០”

១. ចូរគូសសញ្ញា ក្នុង ពាក្យអានចំនួនខាងក្រោមដែលត្រឹមត្រូវ (១ពិន្ទុ)

៥០

ក. ប្រាំ ខ. សែសិប គ. ហាសិប ឃ. ហុកសិប

២. ចូរបំពេញចំនួនគត់ពី ១០ ទៅ ១០០ (២ពិន្ទុ)

១០,, ៣០,, ៥០, ៦០,,, ៩០, ១០០

៣. ចូរបំពេញពាក្យអានពីមួយរយ ដល់ដប់ នៅក្នុងប្រអប់ (៣ពិន្ទុ)

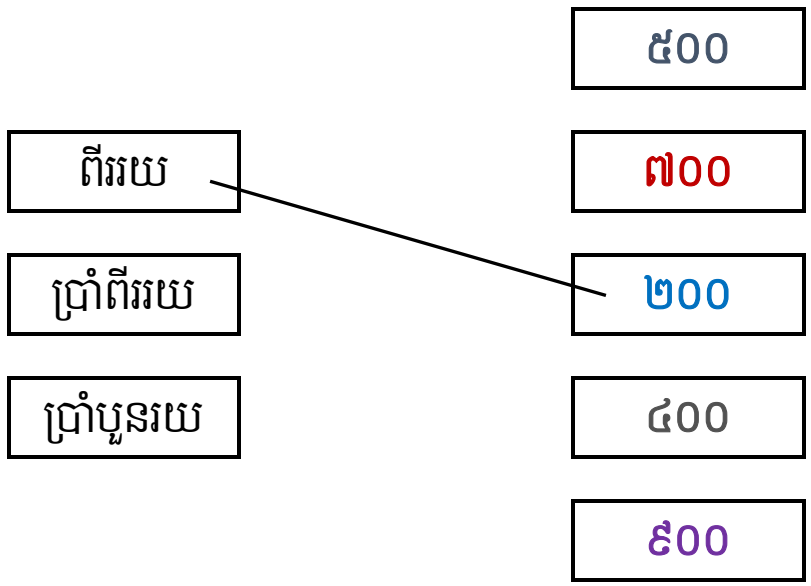
មួយរយ	កោសិប		ចិតសិប		ហាសិប	សែសិប		ម្ភៃ	ដប់
-------	-------	--	--------	--	-------	-------	--	------	-----

៤. ចូរសរសេរពាក្យអាននៃចំនួនខាងក្រោម (២ពិន្ទុ)

១០០ ៣០០ ៦០០

...មួយរយ...

៥. ចូរគូសភ្ជាប់ចំនួនទៅនឹងពាក្យអាន (២ពិន្ទុ)






សាលាបឋមសិក្សា.....
ឈ្មោះសិស្ស.....

កិច្ចការផ្ទះ
គណិតវិទ្យា ថ្នាក់ទី២
មេរៀនទី១ “ចំនួនដល់ ១០០០”

១. ចូរគូស ✓ ក្នុង តម្លៃលេខតាមបន្ទះចំនួនខាងក្រោម (១ពិន្ទុ)



- ក. ១០១ ខ. ១០២ គ. ១០៣ ឃ. ១០៤

២. ចូរគូស ✓ ក្នុង ពាក្យអានចំនួនខាងក្រោមដែលត្រឹមត្រូវ (១ពិន្ទុ)

១០១

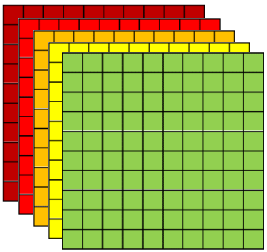
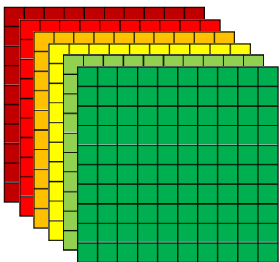
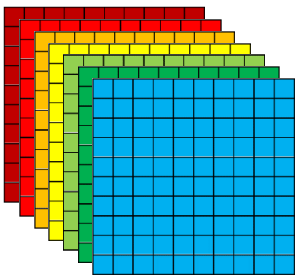
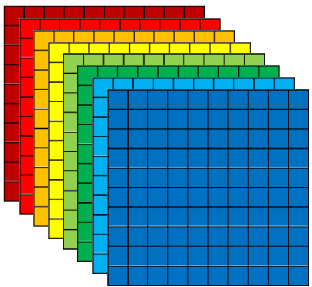
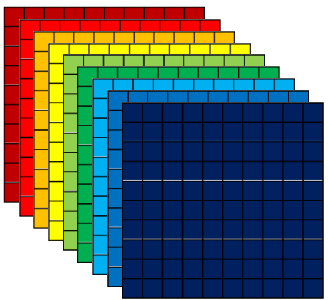
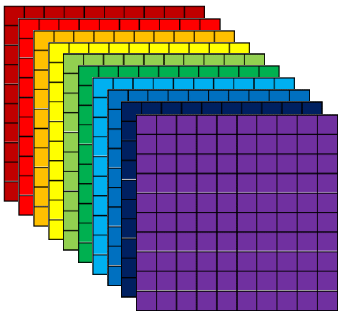
- ក. ដប់ ខ. ដប់មួយ គ. ដប់ និងមួយ ឃ. មួយរយមួយ

៣. ចូរគូស ✓ ក្នុង ពាក្យអានចំនួនខាងក្រោមដែលត្រឹមត្រូវ (១ពិន្ទុ)

មួយរយប្រាំពីរ

- ក. ១០២ ខ. ១០៥ គ. ១០៧ ឃ. ១០០ + ៧

៤. ចូរបំពេញចំនួន និងសរសេរជាពាក្យក្នុងតារាងខាងក្រោម (៧ពិន្ទុ)

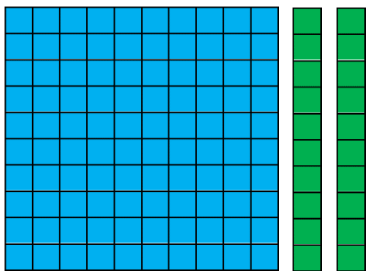
	<p>៥០០</p>	<p>ប្រាំរយ</p>
	<p>៦០០</p>	<p>.....</p>
	<p>.....</p>	<p>ប្រាំពីររយ</p>
	<p>.....</p>	<p>.....</p>
	<p>៩០០</p>	<p>.....</p>
	<p>.....</p>	<p>.....</p>



សាលាបឋមសិក្សា.....
 ឈ្មោះសិស្ស.....

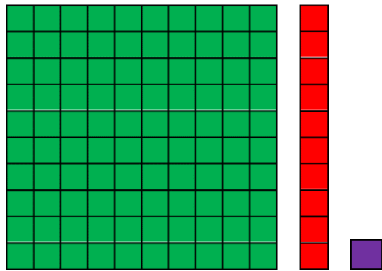
កិច្ចការផ្ទះ
គណិតវិទ្យា ថ្នាក់ទី២
មេរៀនទី១ "ចំនួនដល់ ១០០០"

១. ចូរគូស ✓ ក្នុង តម្លៃលេខតាមបន្ទះចំនួនខាងក្រោម (១ពិន្ទុ)



- ក. ១០២ ខ. ១១២ គ. ១២០ ឃ. ១២២

២. ចូរគូស ✓ ក្នុង ពាក្យអានចំនួនខាងក្រោមដែលត្រឹមត្រូវ (១ពិន្ទុ)



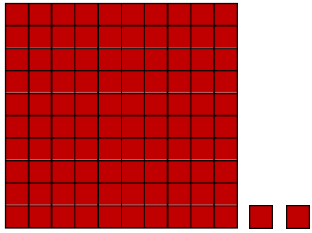
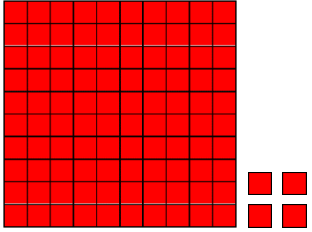
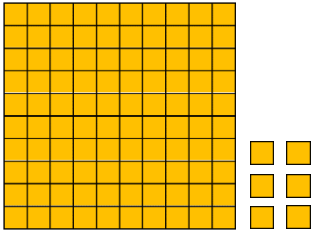
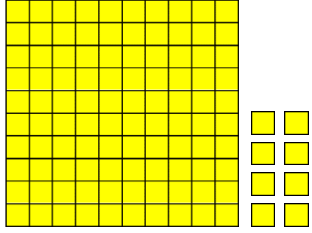
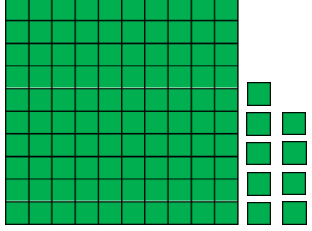

- ក. មួយរយ ខ. មួយរយមួយ គ. មួយរយដប់ ឃ. មួយរយដប់មួយ

៣. ចូរគូស ✓ ក្នុង ពាក្យអានចំនួនខាងក្រោមដែលត្រឹមត្រូវ (១ពិន្ទុ)

មួយរយដប់ប្រាំបី

- ក. ១០៨ ខ. ១១៨ គ. ១១៩ ឃ. ១២៣

៤. ចូរបំពេញចំនួន និងសរសេរជាពាក្យក្នុងតារាងខាងក្រោម (៧ពិន្ទុ)

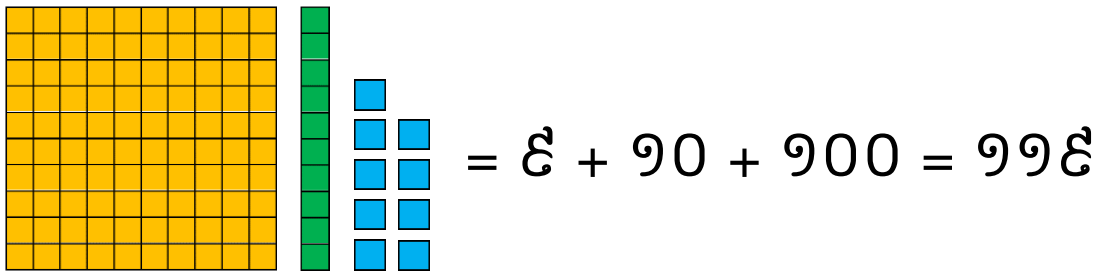
	<p>១០២</p>	<p>មួយរយពីរ</p>
	<p>១០៤</p>	<p>.....</p>
	<p>.....</p>	<p>មួយរយប្រាំមួយ</p>
	<p>.....</p>	<p>.....</p>
	<p>១០៩</p>	<p>.....</p>
	<p>.....</p>	<p>.....</p>



សាលាបឋមសិក្សា.....
ឈ្មោះសិស្ស.....

កិច្ចការផ្ទះ
គណិតវិទ្យា ថ្នាក់ទី២
មេរៀនទី១ "ចំនួនដល់ ១០០០"

១. តើតម្លៃលេខ ៩ ខាងក្រោមគឺជាតម្លៃលេខស្ថិតនៅ (១ពិន្ទុ)



ក. ខ្ទង់រយ

ខ. ខ្ទង់ដប់

គ. ខ្ទង់រាយ

២. តើតម្លៃលេខ ១០ ខាងក្រោមគឺជាតម្លៃលេខស្ថិតនៅ (១ពិន្ទុ)

$៧ + ១០ + ១០០ = ១១៧$

ក. ខ្ទង់រាយ

ខ. ខ្ទង់ដប់

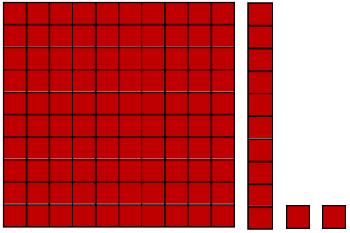
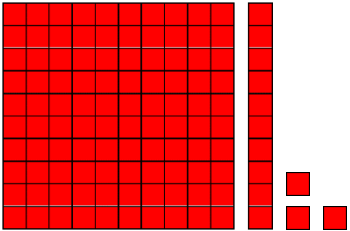
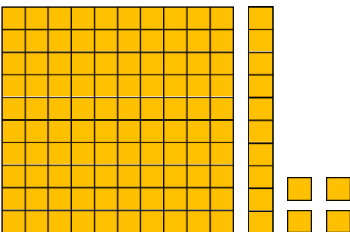
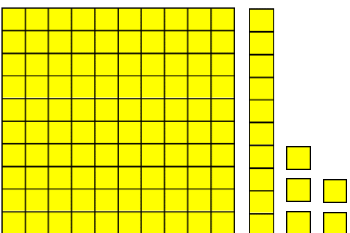
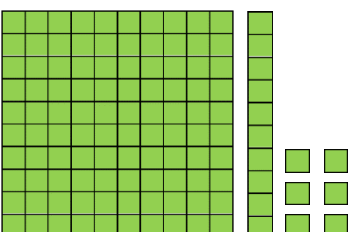


គ. ខ្ទង់រយ

៣. ចូរបំពេញចន្លោះខាងក្រោមឱ្យបានត្រឹមត្រូវ (១ពិន្ទុ)

មួយរយដប់ប្រាំបី

.....

៤. ចូរបំពេញចំនួន និងសរសេរជាពាក្យក្នុងតារាងខាងក្រោម (៧ពិន្ទុ)


	<p>១១២</p>	<p>មួយរយដប់ពីរ</p>
	<p>១១៣</p>	<p>.....</p>
	<p>.....</p>	<p>មួយរយដប់បួន</p>
	<p>.....</p>	<p>.....</p>
	<p>.....</p>	<p>.....</p>
	<p>.....</p>	<p>.....</p>
	<p>.....</p>	<p>.....</p>



សាលាបឋមសិក្សា.....
 ឈ្មោះសិស្ស.....

កិច្ចការផ្ទះ
គណិតវិទ្យា ថ្នាក់ទី២
មេរៀនទី១ "ចំនួនដល់ ១០០០"

១. ចូរគូសសញ្ញា ✓ ក្នុង ចម្លើយដែលត្រឹមត្រូវ (១ពិន្ទុ)



ក. 1

ខ. 2

គ. 3

ឃ. 4

២. ចូរសរសេរចំនួនខាងក្រោមទៅជាលេខសកល (៣ពិន្ទុ)

១

២

៣

៤

៥

៦

៧

៨

៩

.....1.....

.....

.....

.....

.....






.....

.....

.....

.....

៣. ចូរសរសេរជាលេខសកលតាមចំនួនខាងក្រោម (២ពិន្ទុ)

				
.....3.....

៤. ចូរសរសេរលេខសកលពីលេខអានខាងក្រោម (៤ពិន្ទុ)

ការអានលេខ	លេខសកល
មួយ	1
ពីរ
បី
បួន
ប្រាំ
ប្រាំមួយ
ប្រាំពីរ
ប្រាំបី
ប្រាំបួន



សាលាបឋមសិក្សា.....
 ឈ្មោះសិស្ស.....

កិច្ចការផ្ទះ
គណិតវិទ្យា ថ្នាក់ទី២
មេរៀនទី១ “ចំនួនជល់ ១០០០”

១. ចូរគូស ✓ ក្នុង ចម្លើយដែលត្រឹមត្រូវ (១ពិន្ទុ)

ចំនួន (3 7 11 15) ហៅថា

ក. ការអានលេខ

ខ. ចំនួនសេស

គ. ចំនួនគូ

ឃ. ខ្ទង់ដប់

២. ចូរគូស ✓ ក្នុង ចម្លើយដែលត្រឹមត្រូវ (១ពិន្ទុ)

ចំនួន (4 8 14 20) ហៅថា

ក. ការអានលេខ

ខ. ចំនួនសេស

គ. ខ្ទង់ដប់

ឃ. ចំនួនគូ

៣. ចូរគូសវង់ចំនួនសេស (១,៧៥ពិន្ទុ)

2 (3) 6 11 8 9 10 5 12 17 13 14

៤. ចូរគូសវង់ចំនួនគូ (១,៧៥ពិន្ទុ)

(2) 3 6 11 8 9 10 5 12 17 13 14

៥. ចូរជ្រើសរើសចំនួនខាងក្រោមទៅសរសេរក្នុងប្រអប់ចំនួនសេស ឬគូឱ្យបានត្រឹមត្រូវ (៤,៥ពិន្ទុ)
 (12 9 17 3 19 6 11 2 18 13 4 14 1 15 8 20 7 10 5 16)

ចំនួនសេស	ចំនួនគូ
9	12
.....
.....
.....
.....
.....
.....
.....
.....
.....
.....



សាលាបឋមសិក្សា.....
 ឈ្មោះសិស្ស.....

កិច្ចការផ្ទះ
គណិតវិទ្យា ថ្នាក់ទី២
មេរៀនទី១ “ចំនួនជល់ ១០០០”

១. ចូរគូស ក្នុង ចម្លើយដែលត្រឹមត្រូវ (២ពិន្ទុ)

- បង្កត់ 11 ត្រឹមខ្ទង់ដប់គឺ

- ក. 9 ខ. 10 គ. 11 ឃ. 20

- បង្កត់ 27 ត្រឹមខ្ទង់ដប់គឺ

- ក. 20 ខ. 26 គ. 28 ឃ. 30

២. ចូរបង្កត់ចំនួនខាងក្រោមត្រឹមខ្ទង់ដប់ (២ពិន្ទុ)

- ក. 21 បង្កត់ទៅ 20
 ខ. 13 បង្កត់ទៅ
 គ. 16 បង្កត់ទៅ
 ឃ. 25 បង្កត់ទៅ
 ង. 28 បង្កត់ទៅ

៣. ចូរបង្កត់ចំនួនខាងក្រោមត្រឹមខ្ទង់ដប់ (៦ពិន្ទុ)

ចំនួនផ្លែម្នាស់ដែលពូជលលក់បានក្នុង ៦ ថ្ងៃ



ថ្ងៃចន្ទ	12 ផ្លែ
ថ្ងៃអង្គារ	19 ផ្លែ
ថ្ងៃពុធ	11 ផ្លែ
ថ្ងៃព្រហស្បតិ៍	15 ផ្លែ
ថ្ងៃសុក្រ	24 ផ្លែ
ថ្ងៃសៅរ៍	26 ផ្លែ

បង្កត់ចំនួនផ្លែម្នាស់ដែលពូជលលក់បានត្រឹមខ្ទង់ដប់


- ថ្ងៃចន្ទលក់បានប្រហែល ផ្លែ
- ថ្ងៃអង្គារលក់បានប្រហែល ផ្លែ
- ថ្ងៃពុធលក់បានប្រហែល ផ្លែ
- ថ្ងៃព្រហស្បតិ៍លក់បានប្រហែល ផ្លែ
- ថ្ងៃសុក្រលក់បានប្រហែល ផ្លែ
- ថ្ងៃសៅរ៍លក់បានប្រហែល ផ្លែ




សាលាបឋមសិក្សា.....
 ឈ្មោះសិស្ស.....

កិច្ចការផ្ទះ
គណិតវិទ្យា ថ្នាក់ទី២
មេរៀនទី២ “ការប្រៀបធៀបចំនួន”

១. ចូរគូស ✓ ក្នុង ចម្លើយដែលត្រឹមត្រូវ (១ពិន្ទុ)



13 12




ក. =


ខ. <

គ. >

២. ចូរគូស ✓ ក្នុង ចម្លើយដែលត្រឹមត្រូវ (១ពិន្ទុ)



225 235



ក. =

ខ. <

គ. >

៣. ចូរបំពេញសញ្ញា < > = ក្នុង (៣ពិន្ទុ)

ក. 14 17

ខ. 30 80

គ. 89 89

ឃ. 710 170

ង. 210 201

ច. 212 221

៤. ចូរបំពេញសញ្ញា < > = ក្នុងចន្លោះ (៣ពិន្ទុ)

ក. 21 11

ខ. 27 27

គ. 57 67

ឃ. 71 17

ង. 324 234

ច. 678 687

៥. ចូរគូស ✓ ក្នុង ចម្លើយ ត្រូវ ឬ ខុស (២ពិន្ទុ)

ក. 32 < 33 ត្រូវ ខុស

ខ. 35 > 35 ត្រូវ ខុស

គ. 779 = 797 ត្រូវ ខុស

ឃ. 879 < 897 ត្រូវ ខុស

៤. ចូររៀបលំដាប់ចំនួនពីតូចទៅធំ (២ពិន្ទុ)

13	11	69	56	78	19	68	26
.....

៥. ចូររៀបលំដាប់ចំនួនពីធំមកតូច (២ពិន្ទុ)

45	29	36	49	87	90	50	61
.....



សាលាបឋមសិក្សា.....
 ឈ្មោះសិស្ស.....

កិច្ចការផ្ទះ
គណិតវិទ្យា ថ្នាក់ទី២
មេរៀនទី២ “ការប្រៀបធៀបចំនួន”

១. ចូរគូស ✓ ក្នុង ឱ្យបានត្រឹមត្រូវ (១ពិន្ទុ)

160 170 190

ក. 100 ខ. 130 គ. 160 ឃ. 180

២. ចូរគូស ✓ ក្នុង ឱ្យបានត្រឹមត្រូវ (១ពិន្ទុ)

950 850 800

ក. 700 ខ. 750 គ. 900 ឃ. 905

៣. ចូររៀបលំដាប់ចំនួនពីតូចទៅធំ (២ពិន្ទុ)

562 376 665 272 493 117 137 886

.....

៤. ចូររៀបលំដាប់ចំនួនពីធំមកតូច (២ពិន្ទុ)

565 739 119 245 949 678 890 376

.....

៥. ចូរបំពេញលំដាប់ទីក្នុងប្រអប់ខាងក្រោម (២ពិន្ទុ)



ទី11



ទី12



.....



ទី14



.....



.....



ទី17



.....

៦. ចូរបំពេញលំដាប់ទីក្នុងប្រអប់ខាងក្រោម (២ពិន្ទុ)



.....



ទី43



.....



ទី45



.....



.....



ទី48



.....



សាលាបឋមសិក្សា.....
 ឈ្មោះសិស្ស.....

កិច្ចការផ្ទះ
គណិតវិទ្យា ថ្នាក់ទី២
មេរៀនទី២ “ការប្រៀបធៀបចំនួន”
ដល់មេរៀនទី៣ “វិធីបូកចំនួនមានលេខ 2 ខ្ទង់”

១. ចូរគូស ✓ ក្នុង ចម្លើយនៃលំដាប់ខាងក្រោម (១ពិន្ទុ)

$$14 + 4 = \square$$

ក. 10

ខ. 14

គ. 18

ឃ. 28

២. ចូរគូស ✓ ក្នុង ចម្លើយនៃលំដាប់ខាងក្រោម (១ពិន្ទុ)

$$91 + 6 = \square$$

ក. 69

ខ. 96

គ. 97

ឃ. 916

៣. ចូរធ្វើប្រមាណវិធីបូកខាងក្រោម (៥ពិន្ទុ)

$$\begin{array}{r} 24 \\ + 2 \\ \hline \end{array}$$

$$\begin{array}{r} 13 \\ + 4 \\ \hline \end{array}$$

$$\begin{array}{r} 35 \\ + 3 \\ \hline \end{array}$$

$$\begin{array}{r} 93 \\ + 5 \\ \hline \end{array}$$

$$\begin{array}{r} 71 \\ + 8 \\ \hline \end{array}$$

$$\begin{array}{r} 48 \\ + 1 \\ \hline \end{array}$$


$$\begin{array}{r} 50 \\ + 9 \\ \hline \end{array}$$



$$\begin{array}{r} 81 \\ + 7 \\ \hline \end{array}$$

$$\begin{array}{r} 62 \\ + 6 \\ \hline \end{array}$$

$$\begin{array}{r} 70 \\ + 8 \\ \hline \end{array}$$

៤. ចូរពិនិត្យលំដាប់រថយន្តក្នុងរូបភាព និងឆ្លើយសំណួរខាងក្រោម (៣ពិន្ទុ)



- ក. តើរថយន្ត  នៅលំដាប់ទីប៉ុន្មាន? រថយន្តលេខ 33 នៅលំដាប់ទី **92**.....
- ខ. តើរថយន្ត  នៅលំដាប់ទីប៉ុន្មាន? រថយន្តលេខ 6 នៅលំដាប់ទី
- គ. តើរថយន្តលេខប៉ុន្មាននៅលំដាប់ទី 93? រថយន្តលេខ..... នៅលំដាប់ទី 93
- ឃ. តើរថយន្តលេខប៉ុន្មាននៅលំដាប់ទី 98? រថយន្តលេខ..... នៅលំដាប់ទី 98



សាលាបឋមសិក្សា.....
 ឈ្មោះសិស្ស.....

កិច្ចការផ្ទះ
គណិតវិទ្យា ថ្នាក់ទី២
មេរៀនទី៣ “វិធីបូកចំនួនមានលេខ ២ ខ្ទង់”

១. ចូរគូស ✓ ក្នុង ចម្លើយនៃផលបូកខាងក្រោម (០,៥ពិន្ទុ)

$$39 + 30 = \square$$

ក. 30

ខ. 33

គ. 39

ឃ. 69

២. ចូរគូស ✓ ក្នុង ចម្លើយនៃផលបូកខាងក្រោម (០,៥ពិន្ទុ)

$$63 + 36 = \square$$

ក. 66

ខ. 69

គ. 96

ឃ. 99

៣. ចូរធ្វើប្រមាណវិធីបូកខាងក្រោម (៥ពិន្ទុ)

$\begin{array}{r} 52 \\ + 12 \\ \hline \end{array}$	$\begin{array}{r} 76 \\ + 10 \\ \hline \end{array}$	$\begin{array}{r} 51 \\ + 24 \\ \hline \end{array}$	$\begin{array}{r} 35 \\ + 34 \\ \hline \end{array}$	$\begin{array}{r} 72 \\ + 25 \\ \hline \end{array}$
---	---	---	---	---

$\begin{array}{r} 53 \\ + 42 \\ \hline \end{array}$	$\begin{array}{r} 32 \\ + 27 \\ \hline \end{array}$	$\begin{array}{r} 56 \\ + 33 \\ \hline \end{array}$	$\begin{array}{r} 47 \\ + 21 \\ \hline \end{array}$	$\begin{array}{r} 64 \\ + 13 \\ \hline \end{array}$
---	---	---	---	---

៤. ចូររកផលបូកខាងក្រោម (៣ពិន្ទុ)

ក. $57 + 30 = \dots\dots\dots$

ខ. $33 + 25 = \dots\dots\dots$

គ. $33 + 25 = \dots\dots\dots$

ឃ. $52 + 37 = \dots\dots\dots$

ង. $47 + 22 = \dots\dots\dots$

ច. $63 + 26 = \dots\dots\dots$

៥. រថយន្តមួយចាក់សាំងលើកទីមួយ 41 ល និងលើកទីពីរចាក់សាំង 8 ល ទៀត។ តើរថយន្តចាក់សាំងទាំងពីរលើកមានចំនួនប៉ុន្មានលីត្រ? (១ពិន្ទុ)

រថយន្តចាក់សាំងទាំងពីរលើកមានចំនួន + = ល



សាលាបឋមសិក្សា.....
 ឈ្មោះសិស្ស.....

កិច្ចការផ្ទះ
គណិតវិទ្យា ថ្នាក់ទី២
មេរៀនទី៣ “វិធីបូកចំនួនមានលេខ 2 ខ្ទង់”

១. ចូរគូស ✓ ក្នុង ចម្លើយនៃផលបូកខាងក្រោម (០,៥ពិន្ទុ)

$$65 + 7 = \square$$

ក. 12

ខ. 62

គ. 72

ឃ. 77

២. ចូរគូស ✓ ក្នុង ចម្លើយនៃផលបូកខាងក្រោម (០,៥ពិន្ទុ)

$$86 + 5 = \square$$

ក. 11

ខ. 91

គ. 95

ឃ. 69

៣. ចូរធ្វើប្រមាណវិធីបូកខាងក្រោម (៥ពិន្ទុ)

$$\begin{array}{r} 36 \\ + 6 \\ \hline \end{array}$$

$$\begin{array}{r} 26 \\ + 8 \\ \hline \end{array}$$

$$\begin{array}{r} 61 \\ + 9 \\ \hline \end{array}$$

$$\begin{array}{r} 73 \\ + 9 \\ \hline \end{array}$$

$$\begin{array}{r} 86 \\ + 7 \\ \hline \end{array}$$

$$\begin{array}{r} 39 \\ + 2 \\ \hline \end{array}$$

$$\begin{array}{r} 79 \\ + 8 \\ \hline \end{array}$$

$$\begin{array}{r} 88 \\ + 3 \\ \hline \end{array}$$

$$\begin{array}{r} 55 \\ + 7 \\ \hline \end{array}$$

$$\begin{array}{r} 99 \\ + 3 \\ \hline \end{array}$$

៤. ចូរបំពេញផលបូកខាងក្រោម (៣ពិន្ទុ)

ក. $17 + 8 = \dots\dots\dots$

ខ. $23 + 7 = \dots\dots\dots$

គ. $36 + 7 = \dots\dots\dots$

ឃ. $42 + 9 = \dots\dots\dots$

ង. $64 + 9 = \dots\dots\dots$

ច. $23 + 6 + 5 = \dots\dots\dots$

៥. ចូរផ្គូផ្គងល្បះលេខទៅនឹងផលបូក(១ពិន្ទុ)

$36 + 8 =$	83
$78 + 5 =$	73
$94 + 7 =$	44
	101



សាលាបឋមសិក្សា.....
 ឈ្មោះសិស្ស.....

កិច្ចការផ្ទះ
គណិតវិទ្យា ថ្នាក់ទី២
មេរៀនទី៣ "វិធីបូកចំនួនមានលេខ 2 ខ្ទង់"

១. ចូរគូស ✓ ក្នុង ចម្លើយនៃផលបូកខាងក្រោម (០,៥ពិន្ទុ)

$$65 + 29 = \square$$

ក. 67

ខ. 74

គ. 84

ឃ. 94

២. ចូរគូស ✓ ក្នុង ចម្លើយនៃផលបូកខាងក្រោម (០,៥ពិន្ទុ)

$$59 + 31 = \square$$

ក. 60

ខ. 80

គ. 89

ឃ. 90

៣. ចូរធ្វើប្រមាណវិធីបូកខាងក្រោម (៥ពិន្ទុ)

$\begin{array}{r} 38 \\ + 23 \\ \hline \end{array}$	$\begin{array}{r} 52 \\ + 29 \\ \hline \end{array}$	$\begin{array}{r} 49 \\ + 33 \\ \hline \end{array}$	$\begin{array}{r} 38 \\ + 34 \\ \hline \end{array}$	$\begin{array}{r} 86 \\ + 14 \\ \hline \end{array}$
---	---	---	---	---

$\begin{array}{r} 69 \\ + 54 \\ \hline \end{array}$	$\begin{array}{r} 88 \\ + 16 \\ \hline \end{array}$	$\begin{array}{r} 83 \\ + 57 \\ \hline \end{array}$	$\begin{array}{r} 75 \\ + 26 \\ \hline \end{array}$	$\begin{array}{r} 57 \\ + 48 \\ \hline \end{array}$
---	---	---	---	---

៤. ចូរបំពេញផលបូកខាងក្រោម (៣ពិន្ទុ)

ក. $33 + 29 = \dots\dots\dots$

ខ. $39 + 28 = \dots\dots\dots$

គ. $43 + 27 = \dots\dots\dots$

ឃ. $54 + 37 = \dots\dots\dots$

ង. $47 + 26 = \dots\dots\dots$

ច. $78 + 18 = \dots\dots\dots$

៥. ហាងមួយលក់ស្បែកជើងថ្ងៃទីមួយអស់ 78 គូ។ ថ្ងៃទីពីរលក់អស់ 49 គូ។ តើហាងលក់ស្បែកជើងទាំងពីរថ្ងៃអស់ចំនួនប៉ុន្មានគូ? (១ពិន្ទុ)

+ = គូ



សាលាបឋមសិក្សា.....
 ឈ្មោះសិស្ស.....

កិច្ចការផ្ទះ
គណិតវិទ្យា ថ្នាក់ទី២
មេរៀនទី៤ “ការដកចំនួនមានលេខ 2 ខ្ទង់”

១. ចូរគូស ក្នុង ចម្លើយនៃផលដកខាងក្រោម (១ពិន្ទុ)

$10 - 3 = \square$

ក. 3

ខ. 7

គ. 10

ឃ. 13

២. ចូរធ្វើប្រមាណវិធីដកខាងក្រោម (៥ពិន្ទុ)

$\begin{array}{r} 13 \\ - 1 \\ \hline \end{array}$	$\begin{array}{r} 34 \\ - 3 \\ \hline \end{array}$	$\begin{array}{r} 56 \\ - 5 \\ \hline \end{array}$	$\begin{array}{r} 48 \\ - 3 \\ \hline \end{array}$	$\begin{array}{r} 37 \\ - 2 \\ \hline \end{array}$
--	--	--	--	--

$\begin{array}{r} 67 \\ - 3 \\ \hline \end{array}$	$\begin{array}{r} 59 \\ - 9 \\ \hline \end{array}$	$\begin{array}{r} 77 \\ - 5 \\ \hline \end{array}$	$\begin{array}{r} 84 \\ - 4 \\ \hline \end{array}$	$\begin{array}{r} 99 \\ - 6 \\ \hline \end{array}$
--	--	--	--	--

៣. ចូររកផលដកខាងក្រោម (៣ពិន្ទុ)

ក. $84 - 1 = \dots\dots\dots$

ខ. $56 - 5 = \dots\dots\dots$

គ. $59 - 4 = \dots\dots\dots$

ឃ. $87 - 5 = \dots\dots\dots$

ង. $47 - 7 = \dots\dots\dots$

ច. $98 - 3 = \dots\dots\dots$

៤. មីងបូមានមាន 18 ក្បាល គាត់លក់អស់ 6 ក្បាល។ តើគាត់នៅសល់មានប៉ុន្មានក្បាល?
(១ពិន្ទុ)

មីងបូនៅសល់មានចំនួន ក្បាល។



សាលាបឋមសិក្សា.....
 ឈ្មោះសិស្ស.....

កិច្ចការផ្ទះ
គណិតវិទ្យា ថ្នាក់ទី២
មេរៀនទី៤ “ការដកចំនួនមានលេខ 2 ខ្ទង់”

១. ចូរគូស ក្នុង ចម្លើយនៃផលដកខាងក្រោម (១ពិន្ទុ)

$25 - 13 = \square$

ក. 10

ខ. 12

គ. 13

ឃ. 38

២. ចូរធ្វើប្រមាណវិធីដកខាងក្រោម (៥ពិន្ទុ)

$\begin{array}{r} 23 \\ - 11 \\ \hline \end{array}$	$\begin{array}{r} 35 \\ - 13 \\ \hline \end{array}$	$\begin{array}{r} 27 \\ - 10 \\ \hline \end{array}$	$\begin{array}{r} 50 \\ - 30 \\ \hline \end{array}$	$\begin{array}{r} 65 \\ - 32 \\ \hline \end{array}$
---	---	---	---	---

$\begin{array}{r} 36 \\ - 33 \\ \hline \end{array}$	$\begin{array}{r} 57 \\ - 45 \\ \hline \end{array}$	$\begin{array}{r} 68 \\ - 17 \\ \hline \end{array}$	$\begin{array}{r} 89 \\ - 44 \\ \hline \end{array}$	$\begin{array}{r} 91 \\ - 60 \\ \hline \end{array}$
---	---	---	---	---

៣. ចូររកផលដកខាងក្រោម (៣ពិន្ទុ)

ក. $53 - 21 = \dots\dots$

ខ. $47 - 27 = \dots\dots$

គ. $88 - 26 = \dots\dots$

ឃ. $86 - 32 = \dots\dots$

ង. $55 - 24 = \dots\dots$

ច. $79 - 16 = \dots\dots$

៤. អ្នកគ្រូកែវមានខ្មៅដៃចំនួន 67 ដើម។ អ្នកគ្រូយកទៅចែកសិស្សអស់ 34 ដើម។ តើអ្នកគ្រូកែវនៅសល់ខ្មៅដៃចំនួនប៉ុន្មានដើម? (១ពិន្ទុ)

អ្នកគ្រូកែវនៅសល់ខ្មៅដៃចំនួន ដើម។



សាលាបឋមសិក្សា.....
 ឈ្មោះសិស្ស.....

កិច្ចការផ្ទះ
គណិតវិទ្យា ថ្នាក់ទី២
មេរៀនទី៤ “ការដកចំនួនមានលេខ 2 ខ្ទង់”

១. ចូរគូស ក្នុង ចម្លើយនៃផលដកខាងក្រោម (១ពិន្ទុ)

$24 - 8 = \square$

ក. 14

ខ. 16

គ. 24

ឃ. 26

២. ចូរធ្វើប្រមាណវិធីដកខាងក្រោម (៥ពិន្ទុ)

$$\begin{array}{r} 13 \\ - 4 \\ \hline \end{array}$$

$$\begin{array}{r} 43 \\ - 6 \\ \hline \end{array}$$

$$\begin{array}{r} 20 \\ - 7 \\ \hline \end{array}$$

$$\begin{array}{r} 58 \\ - 9 \\ \hline \end{array}$$

$$\begin{array}{r} 65 \\ - 6 \\ \hline \end{array}$$

$$\begin{array}{r} 55 \\ - 8 \\ \hline \end{array}$$

$$\begin{array}{r} 82 \\ - 7 \\ \hline \end{array}$$

$$\begin{array}{r} 71 \\ - 5 \\ \hline \end{array}$$

$$\begin{array}{r} 40 \\ - 3 \\ \hline \end{array}$$

$$\begin{array}{r} 96 \\ - 7 \\ \hline \end{array}$$

៣. ចូររកផលដកខាងក្រោម (៣ពិន្ទុ)

ក. $23 - 4 = \dots\dots\dots$

ខ. $30 - 7 = \dots\dots\dots$

គ. $48 - 9 = \dots\dots\dots$

ឃ. $55 - 8 = \dots\dots\dots$

ង. $64 - 6 = \dots\dots\dots$

ច. $71 - 3 = \dots\dots\dots$

៤. ថយន្តក្រុងមួយដឹកអ្នកដំណើរ 45 នាក់។ មកដល់ចំណតមួយអ្នកដំណើរបានចុះពីថយន្ត
ចំនួន 7 នាក់។ តើអ្នកដំណើរក្នុងថយន្តនៅសល់ចំនួនប៉ុន្មាននាក់? (១ពិន្ទុ)

អ្នកដំណើរក្នុងថយន្តនៅសល់ចំនួន នាក់



សាលាបឋមសិក្សា.....
 ឈ្មោះសិស្ស.....

កិច្ចការផ្ទះ
គណិតវិទ្យា ថ្នាក់ទី២
មេរៀនទី៤ “ការដកចំនួនមានលេខ 2 ខ្ទង់”

១. ចូរគូស ក្នុង ចម្លើយនៃផលដកខាងក្រោម (១ពិន្ទុ)

$23 - 16 = \square$

ក. 3

ខ. 6

គ. 7

ឃ. 17

២. ចូរធ្វើប្រមាណវិធីដកខាងក្រោម (៥ពិន្ទុ)

$\begin{array}{r} 32 \\ - 17 \\ \hline \end{array}$	$\begin{array}{r} 27 \\ - 18 \\ \hline \end{array}$	$\begin{array}{r} 43 \\ - 29 \\ \hline \end{array}$	$\begin{array}{r} 50 \\ - 15 \\ \hline \end{array}$	$\begin{array}{r} 65 \\ - 46 \\ \hline \end{array}$
---	---	---	---	---

$\begin{array}{r} 64 \\ - 26 \\ \hline \end{array}$	$\begin{array}{r} 87 \\ - 28 \\ \hline \end{array}$	$\begin{array}{r} 60 \\ - 42 \\ \hline \end{array}$	$\begin{array}{r} 76 \\ - 18 \\ \hline \end{array}$	$\begin{array}{r} 93 \\ - 35 \\ \hline \end{array}$
---	---	---	---	---

៣. ចូររកផលដកខាងក្រោម (៣ពិន្ទុ)

ក. $33 - 24 = \dots\dots\dots$

ខ. $45 - 28 = \dots\dots\dots$

គ. $80 - 46 = \dots\dots\dots$

ឃ. $68 - 59 = \dots\dots\dots$

ង. $71 - 57 = \dots\dots\dots$

ច. $52 - 37 = \dots\dots\dots$

៤. ពូសំមានផ្លែដូងទាំងអស់ 75 ផ្លែ។ គាត់លក់អស់ដូងចំនួន 39 ផ្លែ។ តើពូសំនៅសល់ផ្លែដូងចំនួន
ប៉ុន្មានផ្លែ? (១ពិន្ទុ)

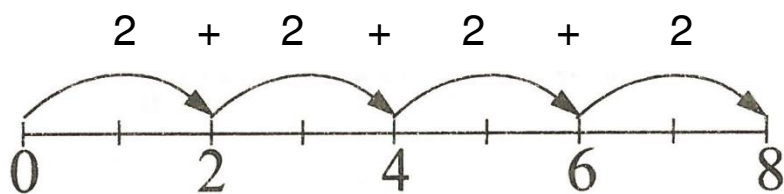
ពូសំនៅសល់ផ្លែដូងចំនួន ផ្លែ



សាលាបឋមសិក្សា.....
 ឈ្មោះសិស្ស.....

កិច្ចការផ្ទះ
គណិតវិទ្យា ថ្នាក់ទី២
មេរៀនទី៥ “វិធីគុណ”

១. ចូរគូស ✓ ក្នុង ចម្លើយនៃការរាប់បន្ថែមខាងក្រោម (១ពិន្ទុ)



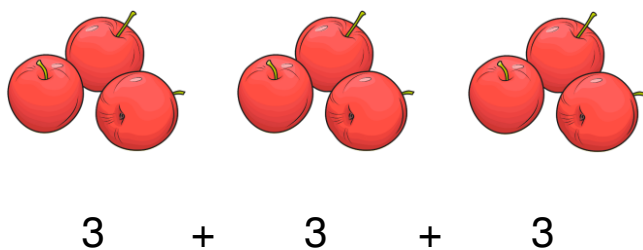
ក. 2

ខ. 4

គ. 6

ឃ. 8

២. ចូរគូស ✓ ក្នុង ចម្លើយនៃការរាប់បន្ថែមខាងក្រោម (១ពិន្ទុ)



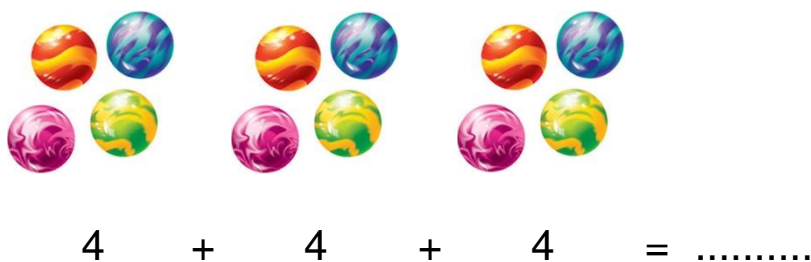
ក. 6

ខ. 9


គ. 12

ឃ. 333

៣. ចូររាប់បន្ថែមម្តង 4 រួចបំពេញចន្លោះ (១ពិន្ទុ)



៤. ចូររាប់បន្ថែមម្តង 3 រួចបំពេញក្នុងប្រអប់ (៤ពិន្ទុ)



៥. ចូររាប់បន្ថែមម្តង 4 ដើម្បីបំពេញចន្លោះ: (៣ពិន្ទុ)



$$4 + 4 + 4 + 4 + 4$$

ក. ការរាប់បន្ថែមម្តង 4 ចំនួន 2 ដង

$$4 + \dots 4 \dots = \dots 8 \dots$$

ខ. ការរាប់បន្ថែមម្តង 4 ចំនួន 3 ដង

$$4 + \dots + \dots = \dots$$

គ. ការរាប់បន្ថែមម្តង 4 ចំនួន 4 ដង

$$4 + \dots + \dots + \dots = \dots$$

ឃ. ការរាប់បន្ថែមម្តង 4 ចំនួន 5 ដង

$$4 + \dots + \dots + \dots + \dots = \dots$$



សាលាបឋមសិក្សា.....
 ឈ្មោះសិស្ស.....

កិច្ចការផ្ទះ
គណិតវិទ្យា ថ្នាក់ទី២
មេរៀនទី៥ "វិធីគុណ"

១. ចូរគូស ✓ ក្នុង ចម្លើយនៃការរាប់បន្ថែមខាងក្រោម (១ពិន្ទុ)




- ក. 5 ខ. 10 គ. 15 ឃ. 555

២. ចូរគូស ✓ ក្នុង ចម្លើយនៃការរាប់បន្ថែមឱ្យបានត្រឹមត្រូវ (១ពិន្ទុ)



- ក. 10 ខ. 15 គ. 25 ឃ. 55

៣. ចូររាប់បន្ថែមម្តង 5 រួចបំពេញចន្លោះ: (៤ពិន្ទុ)



៤. ចូររាប់បន្ថែមម្តង 5 ដើម្បីបំពេញចន្លោះខាងក្រោម (៤ពិន្ទុ)

- | | | |
|-----------------------------------|-------------|----------|
| ក. ការរាប់បន្ថែមម្តង 5 ចំនួន 2 ដង | 5 + ...5... | = ..10.. |
| ខ. ការរាប់បន្ថែមម្តង 5 ចំនួន 4 ដង | 5 + | = |
| គ. ការរាប់បន្ថែមម្តង 5 ចំនួន 6 ដង | 5 + | = |
| ឃ. ការរាប់បន្ថែមម្តង 5 ចំនួន 7 ដង | 5 + | = |
| ង. ការរាប់បន្ថែមម្តង 5 ចំនួន 8 ដង | 5 + | = |



សាលាបឋមសិក្សា.....
 ឈ្មោះសិស្ស.....

កិច្ចការផ្ទះ
គណិតវិទ្យា ថ្នាក់ទី២
មេរៀនទី៥ “វិធីគុណ”

១. ចូរគូស ក្នុង ចម្លើយនៃការប្តូរពីវិធីបូកទៅវិធីគុណ (១ពិន្ទុ)

$$2 + 2 + 2 =$$

ក. 2×2

ខ. 2×3

គ. $2 \times 2 \times 2$

ឃ. 2×4

២. ចូរគូស ក្នុង ចម្លើយនៃការប្តូរពីវិធីបូកទៅវិធីគុណ (១ពិន្ទុ)

$$4 + 4 + 4 + 4 =$$

ក. 4×2

ខ. 2×4

គ. 4×3

ឃ. 4×4

៣. ចូរបំពេញចន្លោះនៃការប្តូរពីវិធីបូកទៅវិធីគុណ (២ពិន្ទុ)

ក. $2 + 2 + 2 + 2 = ..2. \times .4..$

ខ. $4 + 4 + 4 = \times$

គ. $3.. + + + + = 3 \times 5$

ឃ. $4 + 4 + 4 + 4 = \times$

ង. $.....+.....+.....+.....+.....+ = 5 \times 6$

៤. ចូរបំពេញតម្លៃដើម្បីឱ្យផលបូក និងផលគុណស្មើគ្នា (៦ពិន្ទុ)

ក. $3 + 3 = 3 \times 2 = 6$

ខ. $..... + + = \times = 15$

គ. $..... + + + = \times = 16$

ឃ. $..... + + + = 20 = \times$



សាលាបឋមសិក្សា.....
 ឈ្មោះសិស្ស.....

កិច្ចការផ្ទះ
គណិតវិទ្យា ថ្នាក់ទី២
មេរៀនទី៥ "វិធីគុណ"

១. ចូរគូស ✓ ក្នុង ចម្លើយនៃផលគុណខាងក្រោម (១ពិន្ទុ)

$$3 \times 7 =$$

ក. 7

ខ. 10

គ. 21

ឃ. 37

២. ចូរគូស ✓ ក្នុង ចម្លើយនៃផលគុណខាងក្រោម (១ពិន្ទុ)

$$5 \times 8 =$$

ក. 13

ខ. 40

គ. 58

ឃ. 85

៣. ចូរគណនាផលគុណ និងបំពេញចន្លោះខាងក្រោម (៨ពិន្ទុ)

ក. $3 \times 2 = \dots\dots$

ខ. $3 \times 5 = \dots\dots$

គ. $3 \times 8 = \dots\dots$

ឃ. $\dots\dots \times \dots\dots = 12$

ង. $4 \times 2 = \dots\dots$

ច. $4 \times 6 = \dots\dots$

ឆ. $\dots\dots \times \dots\dots = 32$

ជ. $5 \times 4 = \dots\dots$

ឈ. $5 \times 7 = \dots\dots$

ញ. $\dots\dots \times \dots\dots = 45$

ត. $4 \times \dots\dots = 20$

ថ. $\dots\dots \times 6 = 18$

ទ. $\dots\dots \times 6 = 24$

ឈ. $4 \times 9 = \dots\dots$

ប. $\dots\dots \times \dots\dots = 30$

ង. $\dots\dots \times \dots\dots = 25$



សាលាបឋមសិក្សា.....
 ឈ្មោះសិស្ស.....

កិច្ចការផ្ទះ
គណិតវិទ្យា ថ្នាក់ទី២
មេរៀនទី៥ "វិធីគុណ"

១. ចូរគូស ✓ ក្នុង ចម្លើយនៃផលគុណខាងក្រោម (១ពិន្ទុ)

$3 \times 1 =$

- ក. 0 ខ. 3 គ. 4 ឃ. 31

២. ចូរគូស ✓ ក្នុង ចម្លើយនៃផលគុណខាងក្រោម (១ពិន្ទុ)

$5 \times 0 =$

- ក. 0 ខ. 5 គ. 05 ឃ. 50

៣. ចូរបំពេញចន្លោះនៃផលគុណខាងក្រោម (៥ពិន្ទុ)

- | | |
|--|--|
| ក. $2 \times 1 = \dots\dots$ | ខ. $4 \times 1 = \dots\dots$ |
| គ. $2 \times 0 = \dots\dots$ | ឃ. $5 \times 1 = \dots\dots$ |
| ង. $1 \times 4 = \dots\dots$ | ច. $3 \times \dots\dots = 0$ |
| ឆ. $\dots\dots \times 1 = \dots 3 \dots$ | ជ. $\dots\dots \times 5 = \dots 5 \dots$ |
| ឈ. $5 \times \dots\dots = \dots 0 \dots$ | ញ. $\dots\dots \times 4 = \dots 0 \dots$ |

៤. ចូរប្រៀបធៀបផលគុណដោយប្រើសញ្ញា $< > =$ (៣ពិន្ទុ)

- | | | |
|-----------------|-----------------------------------|--------------|
| ក. 2×1 | <input type="text" value="<"/> | 3×1 |
| ខ. 1×2 | <input type="text"/> | 3×0 |
| គ. 5×0 | <input type="text"/> | 4×1 |
| ឃ. 0×3 | <input type="text"/> | 4×0 |



សាលាបឋមសិក្សា.....
 ឈ្មោះសិស្ស.....

កិច្ចការផ្ទះ
គណិតវិទ្យា ថ្នាក់ទី២
មេរៀនទី៥ “វិធីគុណ”

១. ចូរគូស ✓ ក្នុង ចម្លើយលក្ខណៈត្រឡប់នៃវិធីគុណ (១ពិន្ទុ)

$$3 \times 2 = \square \times \square$$

- ក. $3 + 2$ ខ. $2 + 3$ គ. 2×3 ឃ. $3 + 3$

២. ចូរគូស ✓ ក្នុង ចម្លើយលក្ខណៈត្រឡប់នៃវិធីគុណ (១ពិន្ទុ)

$$5 \times 4 = \square \times \square$$

- ក. $5 + 5$ ខ. $5 + 4$ គ. $4 + 5$ ឃ. 4×5

៣. ចូរបំពេញចន្លោះ (៨ពិន្ទុ)

- ក. $2 \times 1 = \dots \times \dots$
 ខ. $2 \times 3 = \dots \times \dots$
 គ. $2 \times 5 = \dots \times \dots$
 ឃ. $\dots \times \dots = 2 \times 3$
 ង. $3 \times 7 = \dots \times \dots$
 ច. $\dots \times \dots = 4 \times 4$
 ឆ. $4 \times 9 = \dots \times \dots$
 ជ. $\dots \times \dots = 7 \times 5$
 ឈ. $5 \times \dots = \dots \times 5$



សាលាបឋមសិក្សា.....
 ឈ្មោះសិស្ស.....

កិច្ចការផ្ទះ
គណិតវិទ្យា ថ្នាក់ទី២
មេរៀនទី៥ "វិធីគុណ"

១. ចូរគូស ក្នុង ចម្លើយនៃផលគុណខាងក្រោម (១ពិន្ទុ)

$$10 \times 2 =$$

- ក. 12 ខ. 12 គ. 20 ឃ. 22

២. ចូរគូស ក្នុង ចម្លើយនៃផលគុណខាងក្រោម (១ពិន្ទុ)

$$12 \times 4 =$$

- ក. 12 ខ. 16 គ. 42 ឃ. 48

៣. ចូរធ្វើប្រមាណវិធីគុណខាងក្រោម (៥ពិន្ទុ)

$\begin{array}{r} 10 \\ \times 1 \\ \hline \end{array}$	$\begin{array}{r} 11 \\ \times 2 \\ \hline \end{array}$	$\begin{array}{r} 13 \\ \times 2 \\ \hline \end{array}$	$\begin{array}{r} 14 \\ \times 1 \\ \hline \end{array}$	$\begin{array}{r} 14 \\ \times 2 \\ \hline \end{array}$
$\begin{array}{r} 19 \\ \times 1 \\ \hline \end{array}$	$\begin{array}{r} 20 \\ \times 1 \\ \hline \end{array}$	$\begin{array}{r} 12 \\ \times 4 \\ \hline \end{array}$	$\begin{array}{r} 31 \\ \times 3 \\ \hline \end{array}$	$\begin{array}{r} 22 \\ \times 4 \\ \hline \end{array}$

៤. ចូរគណនាផលគុណខាងក្រោម (៣ពិន្ទុ)

ក. $11 \times 3 = \dots\dots\dots$

ខ. $30 \times 2 = \dots\dots\dots$

គ. $70 \times 1 = \dots\dots\dots$

ឃ. $11 \times 5 = \dots\dots\dots$

ង. $23 \times 3 = \dots\dots\dots$


ច. $88 \times 1 = \dots\dots\dots$



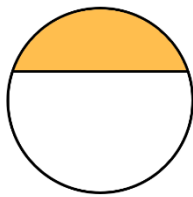
សាលាបឋមសិក្សា.....
 ឈ្មោះសិស្ស.....

កិច្ចការផ្ទះ
គណិតវិទ្យា ថ្នាក់ទី២
មេរៀនទី៦ “ប្រភាគ”


១. ចូររង់លើអក្សរដែលមានចំណែកមួយភាគពីរ (១ពិន្ទុ)



ក



ខ

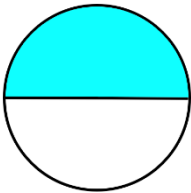


គ




ឃ

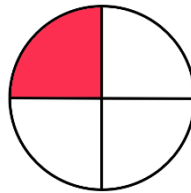
២. ចូររង់លើអក្សរដែលមានចំណែកមួយភាគបី (១ពិន្ទុ)




ក



ខ



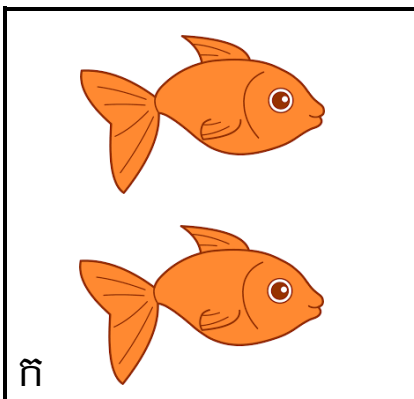


គ




ឃ



៣. ចូររង់ក្រុមរូបភាពខាងក្រោមជាចំណែកមួយភាគពីរ (៣ពិន្ទុ)



៤. ចូររង់លើក្រុមរូបភាពខាងក្រោមជាចំណែកមួយភាគបី (២ពិន្ទុ)



៥. ចូររង់លើក្រុមរូបភាពខាងក្រោមជាចំណែកមួយភាគបួន (២ពិន្ទុ)






សាលាបឋមសិក្សា.....
ឈ្មោះសិស្ស.....

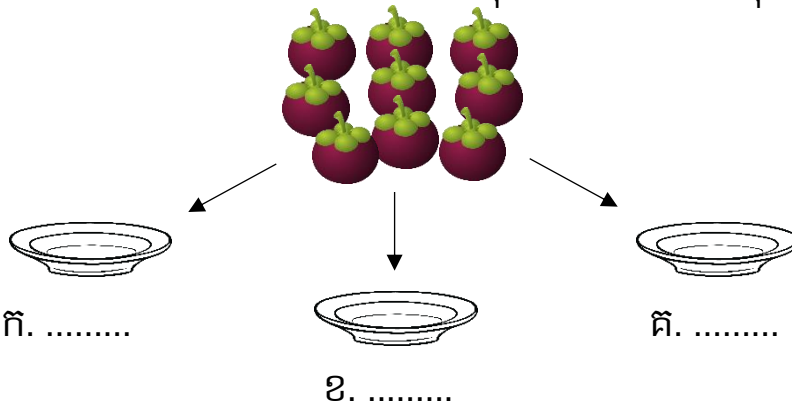
កិច្ចការផ្ទះ
គណិតវិទ្យា ថ្នាក់ទី២
មេរៀនទី៧ "វិធីចែក"

១. ចូរគូស ✓ ក្នុង ចម្លើយនៃការចែកស្ករចំនួន ៨ គ្រាប់ជាពីរចំណែកស្មើគ្នា (១ពិន្ទុ)



ក. 2 ខ. 4 គ. 6 ឃ. 8

២. មង្គុតចំនួន ៩ ផ្លែ ត្រូវរៀបដាក់បានចំនួនបី តើក្នុងមួយបានមានមង្គុតប៉ុន្មាន? (២ពិន្ទុ)




៣. ឃ្លីចំនួន 15 គ្រាប់ចែកឱ្យក្មេង 5 នាក់ស្មើៗគ្នា (២ពិន្ទុ)



ក្មេងម្នាក់ៗទទួលបានឃ្លីចំនួន គ្រាប់។

៤. ថាវីមានស្វាយចំនួន 20 ផ្លែ នាងច្រកចូលក្នុងមួយផង 4 ផ្លែ។ តើថាវីត្រូវប្រើថង់ចំនួនប៉ុន្មានទើបដាក់ស្វាយអស់? (២ពិន្ទុ)

ថាវីត្រូវប្រើថង់ចំនួន



៥. កង់មួយជិះបានសិស្ស 2 នាក់។ តើសិស្ស 12 នាក់ត្រូវការកង់ចំនួនប៉ុន្មាន? (៣ពិន្ទុ)

យើងត្រូវការកង់ចំនួន





សាលាបឋមសិក្សា.....

ឈ្មោះសិស្ស.....


កិច្ចការផ្ទះ
គណិតវិទ្យា ថ្នាក់ទី២
មេរៀនទី៧ "វិធីចែក"

១. អ្នកគ្រូមានខ្មៅដៃចំនួន 12 ដើម គាត់ចែកឱ្យសិស្ស 4 នាក់ (១ពិន្ទុ)



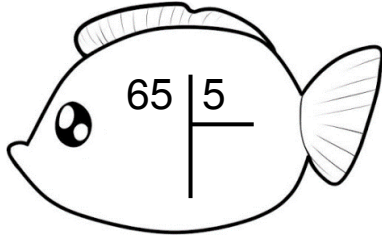
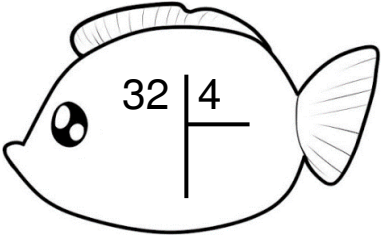
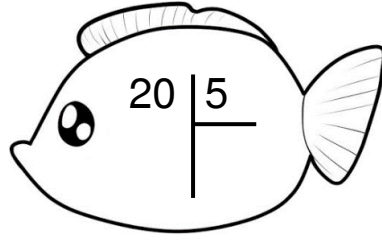
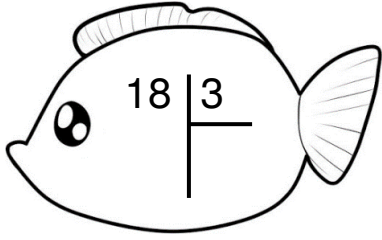
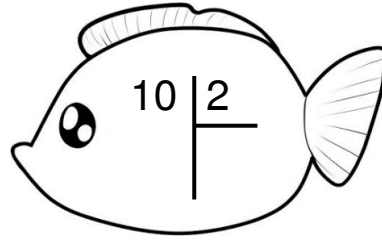
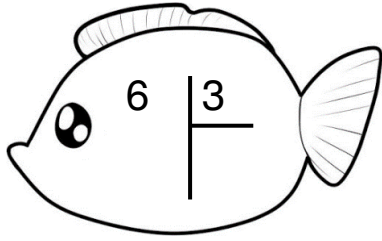
សិស្សម្នាក់ៗទទួលបានខ្មៅដៃ ដើម

២. បូជាដាក់ចំណីឱ្យកូនមាន់ចំនួន 12 ក្បាល។ កូនមាន់ 3 ក្បាលស៊ីចំណីអស់មួយបាន (១ពិន្ទុ)



កូនមាន់ 12 ក្បាលស៊ីចំណីអស់ បាន

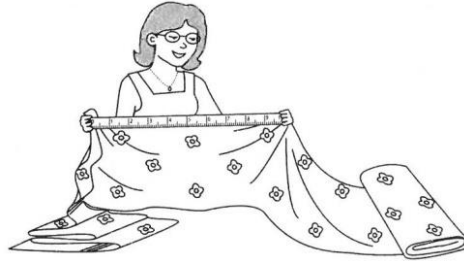
៣. ចូរធ្វើប្រមាណវិធីចែក (៣ពិន្ទុ)



៤. ចូរគណនាផលចែក (៥ពិន្ទុ)

- ក. $9 \div 3 = \square$
- ខ. $12 \div 4 = \square$
- គ. $36 \div 3 = \square$
- ឃ. $48 \div 2 = \square$
- ង. $95 \div 5 = \square$

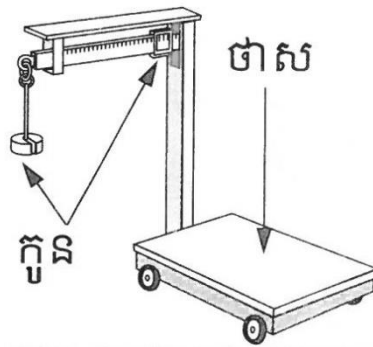
៤. តើជាងកាត់ដេរប្រើម៉ែត្រអ្វីដើម្បីវាស់ក្រណាត់? (១ពិន្ទុ)



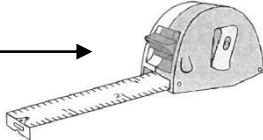
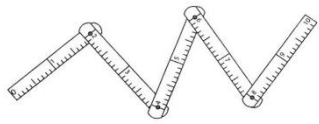

- ក. ម៉ែត្របត់ ខ. ម៉ែត្ររុំ គ. ម៉ែត្របន្ទាត់ ឃ. ម៉ែត្រសំពត់

៥. ចូរប្រាប់ឈ្មោះជញ្ជីងខាងក្រោម (១ពិន្ទុ)

- ក. ជញ្ជីងស្វ័យប្រវត្តិ
 ខ. ជញ្ជីងថាស
 គ. ជញ្ជីងបូលកូន
 ឃ. ជញ្ជីងប៉ុង



៦. ចូរគូសភ្ជាប់ឈ្មោះម៉ែត្រទៅនឹងរូបភាព (១ពិន្ទុ)


ម៉ែត្ររុំ	→ 
ម៉ែត្រសំពត់	
ម៉ែត្របន្ទាត់	
ម៉ែត្របត់	

៧. តើរបៀបវាស់មួយណាដែលត្រឹមត្រូវ? (១ពិន្ទុ)

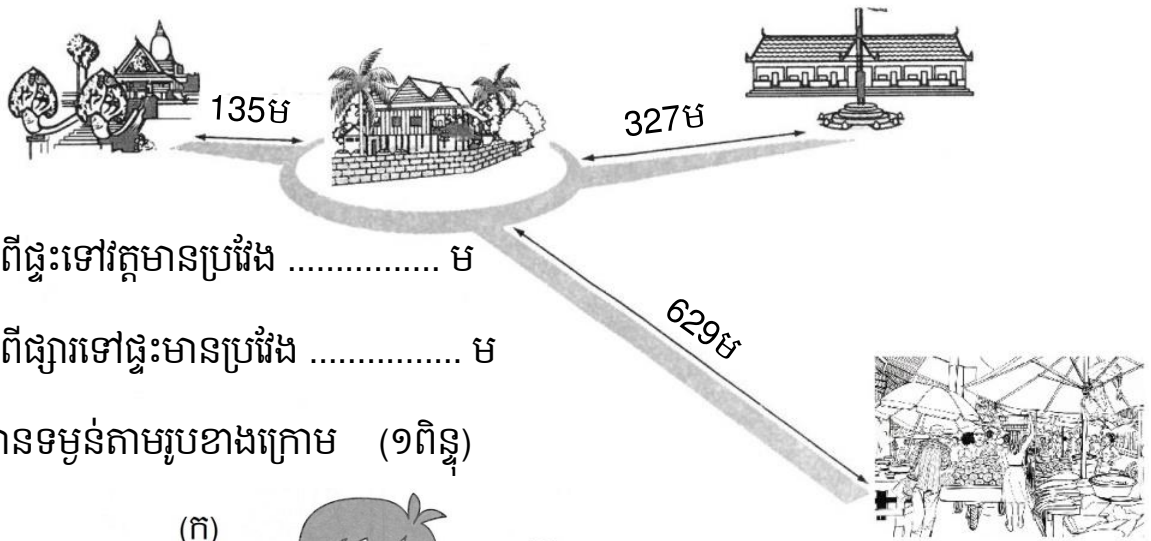
ក.



ខ.



៨. ចូរបំពេញចំនួនក្នុងចន្លោះតាមរូបខាងក្រោម (១ពិន្ទុ)



ក. ផ្លូវពីផ្ទះទៅវត្តមានប្រវែង ម

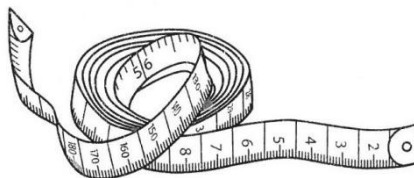
ខ. ផ្លូវពីផ្សារទៅផ្ទះមានប្រវែង ម

៩. ចូរប៉ាន់ស្មានទម្ងន់តាមរូបខាងក្រោម (១ពិន្ទុ)



ក. (ខ)ស្រាលជាង(ក) ខ. (ក)ស្រាលជាង(ខ) គ. (ក)ស្មើគ្នា(ខ)

១០. ចូរសរសេរឈ្មោះម៉ែត្រខាងក្រោម (១ពិន្ទុ)



.....

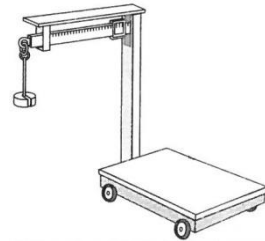
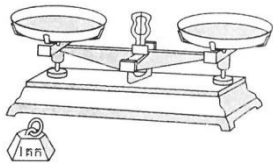


សាលាបឋមសិក្សា.....
 ឈ្មោះសិស្ស.....

កិច្ចការផ្ទះ
គណិតវិទ្យា ថ្នាក់ទី២
មេរៀនទី៩ "ទម្ងន់"

១. ចូរសរសេរឈ្មោះជញ្ជីងតាមរូបភាពខាងក្រោម (១ពិន្ទុ)
 (ក) ជញ្ជីងបូលកូន (ខ) ជញ្ជីងថាស (គ) ជញ្ជីងប៉ុង

(ឃ) ជញ្ជីងស្វ័យប្រវត្តិ



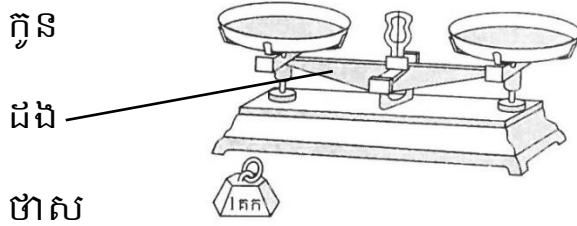
(ខ)

.....

.....

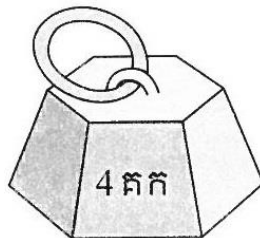
.....

២. ចូរគូសភ្ជាប់ផ្នែកនីមួយៗនៃជញ្ជីង (១ពិន្ទុ)



៣. តើគឺឡូក្រាមជាខ្នាតអ្វី? (១ពិន្ទុ)

- ក. ប្រវែង
- ខ. ទម្ងន់
- គ. ចំណុះ




៤. តើគឺឡូក្រាមសរសេរកាត់ជាអក្សរអ្វី? (១ពិន្ទុ)

- ក. ក ខ. កគ គ. គក ឃ. កត

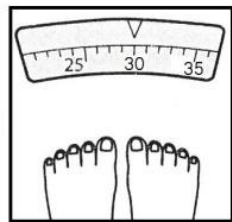
៥. ដើម្បីផ្ទៀងទម្ងន់វត្ថុដោយប្រើជញ្ជីងបូលកូនឱ្យបានត្រឹមត្រូវគឺ (១ពិន្ទុ)

- ក. ដងជញ្ជីងបាស់ឡើង
 ខ. ដងជញ្ជីងស្រុតចុះ
 គ. ដងជញ្ជីងត្រង់ស្មើ




៦. តើកុមារីមានទម្ងន់ប៉ុន្មានគឺឡូក្រាម (១ពិន្ទុ)

- ក. 25
 ខ. 30
 គ. 35




៧. តើវត្ថុមួយណាមានទម្ងន់ 3 គក (១ពិន្ទុ)




- ក. ទុរេន ខ. ម្រះ គ. ត្រី

៨. តើឆ្នាំងដាំបាយអគ្គិសនីខាងក្រោមមានទម្ងន់ប៉ុន្មានគីឡូក្រាម? (១ពិន្ទុ)



- ក. 1គីក ខ. 2គីក គ. 3គីក ឃ. 4គីក

៩. តើកុមារមួយណាមានទម្ងន់ធ្ងន់ជាងគេ? (១ពិន្ទុ)



- ក. កុមារ(ក) ខ. កុមារ(ខ) គ. កុមារ(គ) ឃ. កុមារ(ឃ)

១០. បុប្ផាមានទម្ងន់ 22 គីក ចំប៉ាមានទម្ងន់ 13 គីក។ (១ពិន្ទុ)

តើបុប្ផា និងចំប៉ាមានទម្ងន់រួមគ្នាប៉ុន្មានគីឡូក្រាម?

- ក. 9គីក
ខ. 15គីក
គ. 25គីក
ឃ. 35គីក





សាលាបឋមសិក្សា.....
 ឈ្មោះសិស្ស.....

កិច្ចការផ្ទះ
គណិតវិទ្យា ថ្នាក់ទី២

មេរៀនទី៩ “ទម្ងន់” ដល់មេរៀនទី១០ “ចំណុះ”

១. មុនពេលថ្លឹងទម្ងន់វត្ថុ តើទ្រនិចជញ្ជីងចង្អុលលេខប៉ុន្មាន? (១ពិន្ទុ)



- ក. លេខ 3 ខ. លេខ 2 គ. លេខ 1 ឃ. លេខ 0

២. ដើម្បីដឹងទម្ងន់វត្ថុ តើយើងត្រូវធ្វើដូចម្តេច? (១ពិន្ទុ)

- ក. វាស់ ខ. វាល់ គ. ថ្លឹង ឃ. ថ្លឹងដោយដៃ

៣. ខ្នាតសម្រាប់វាស់ចំណុះគឺ (១ពិន្ទុ)




- ក. គីឡូក្រាម ខ. លីត្រ គ. ម៉ែត្រ ឃ. ព្យាម

៤. លីត្រជាខ្នាតចំណុះដែលមានអក្សរកាត់ (១ពិន្ទុ)

- ក. គក ខ. ម គ. គម ឃ. ល

៥. តើកុមារមួយណាមានទម្ងន់ធ្ងន់ជាងគេ? (១ពិន្ទុ)



- ក. (ក) ខ. (ខ) គ. (គ) ឃ. (ឃ)

៦. ធុងទឹកមួយមានចំណុះ 10 លីត្រ និងកាទឹកចំណុះ 2 លីត្រ។ (១ពិន្ទុ)

តើគេត្រូវប្រើកាដូសទឹកប៉ុន្មានដងទើបពេញធុង?



- ក. 2 ដង ខ. 4 ដង គ. 5 ដង ឃ. 10 ដង

៧. តើតុលា និងធារីមួយណាមានទម្ងន់ស្រាលជាង? (១ពិន្ទុ)



៨. គេប្រើកែវក្រិតចំណុះ 2 លីត្រដូសទឹកចាក់បំពេញធុងចំនួន 6 ដងទើបពេញធុង។ តើធុងទឹកមានចំណុះប៉ុន្មានលីត្រ? (១ពិន្ទុ)



6ដង



- ក. 6 ល ខ. 10 ល គ. 12 ល ឃ. 16 ល

៩. ដារ៉ាថ្លឹងស្រូវ និងសណ្តែក។ ស្រូវមានទម្ងន់ 67 គក និងសណ្តែកមានទម្ងន់ 28 គក។ តើទម្ងន់សរុបនៃស្រូវ និងសណ្តែកមានទម្ងន់ប៉ុន្មាន? (១ពិន្ទុ)

- ក. 28 គក ខ. 67 គក គ. 85 គក ឃ. 95 គក

១០. សុខផ្ទេរទឹកពីបីដុំទៅចាក់បំពេញធុងទឹកមានចំណុះ 5 លីត្រចំនួន 4 ធុងរហូតអស់ទឹក។ តើបីដុំមានចំណុះប៉ុន្មានលីត្រ? (១ពិន្ទុ)



- ក. 4 ល ខ. 5 ល គ. 20 ល ឃ. 25 ល



សាលាបឋមសិក្សា.....
 ឈ្មោះសិស្ស.....

កិច្ចការផ្ទះ
គណិតវិទ្យា ថ្នាក់ទី២
មេរៀនទី១០ “ចំណុះ”

១. ចូរប្រៀបធៀបចំណុះតាមរូបភាពខាងក្រោម (១ពិន្ទុ)
 (ក) (ខ)



ក. (ក) តិចជាង(ខ) ខ. (ក) ច្រើនជាង(ខ) គ. (ក) ស្មើ(ខ)

២. ចូរប្រៀបធៀបចំណុះតាមរូបភាពខាងក្រោម (១ពិន្ទុ)



ក. (ក) តិចជាង(ខ) ខ. (ក) ច្រើនជាង(ខ) គ. (ក) ស្មើ(ខ)

៣. ចូរប្រៀបធៀបចំណុះតាមរូបភាពខាងក្រោម (១ពិន្ទុ)



ក. (ក) ច្រើនជាង (ខ) ខ. (ក) តិចជាង (ខ) គ. (ក) ស្មើ (ខ)

៤. តើធុងណាមានចំណុះច្រើនជាងគេ? (១ពិន្ទុ)



ក. (ក) ខ. (ខ) គ. (គ) ឃ. (ឃ)

៥. ចូរគូសវង់លើអក្សរនៃវត្ថុដែលមានចំណុះតិចជាងគេ (១ពិន្ទុ)



ក ខ គ ឃ

៦. តើវត្ថុខាងក្រោមមានចំណុះទាំងអស់ប៉ុន្មានលីត្រ? (១ពិន្ទុ)



ក. 2 ល ខ. 10 ល គ. 32 ល ឃ. 42 ល

៧. ធុងទីមួយមានចំណុះ 5 លីត្រ ធុងទីពីរមានចំណុះ 30 លីត្រ។ (១ពិន្ទុ)

តើធុងទាំងពីរមានចំណុះទាំងអស់ប៉ុន្មានលីត្រ?

ក. 5 ល ខ. 25 ល គ. 30 ល ឃ. 35 ល

៨. តើរូបណាខ្លះមានចំណុះស្មើគ្នា? (១ពិន្ទុ)




ក ខ គ ឃ ង

៩. មីងសយលក់ទឹកភ្លៀងថ្ងៃទីមួយបាន ៣៣ លីត្រ ថ្ងៃទីពីរបាន ៣៩ លីត្រ។ តើគាត់លក់ទឹកភ្លៀងទាំងពីរថ្ងៃបានប៉ុន្មានលីត្រ? (១ពិន្ទុ)



គាត់លក់ទឹកភ្លៀងទាំងពីរថ្ងៃបាន.....

១០. ប៊ីដុងមួយមានសាំង ២០ លីត្រ។ គេចាក់សាំងពីប៊ីដុងទៅម៉ូតូអស់ ៣ លីត្រ។ តើសាំងក្នុងប៊ីដុងនៅសល់ប៉ុន្មានលីត្រ? (១ពិន្ទុ)



ក. ៣ ល

ខ. ១៧ ល

គ. ២០ ល

ឃ. ២៣ ល


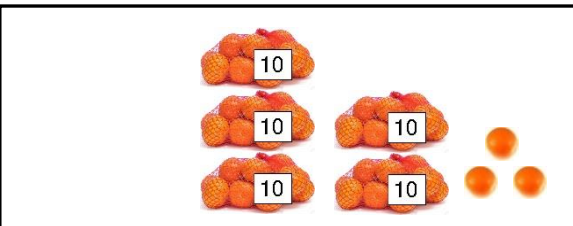


សាលាបឋមសិក្សា.....
 ឈ្មោះសិស្ស.....


កិច្ចការផ្ទះ
គណិតវិទ្យា ថ្នាក់ទី២

មេរៀនទី១១ "វិធីបូកចំនួនមានលេខ 3 ខ្ទង់"

១. ចូរសរសេរចំនួន និងធ្វើប្រមាណវិធីបូក (១ពិន្ទុ)

	$\begin{array}{r} \dots\dots\dots \\ + \\ 53 \\ \hline \dots\dots\dots \end{array}$
	

២. ចូរធ្វើប្រមាណវិធីបូក (២ពិន្ទុ)

	$\begin{array}{r} 3 \ 5 \ 2 \\ + \\ \hline 3 \ 9 \ 8 \end{array}$	$\begin{array}{r} 2 \ 2 \ 6 \\ + \\ \hline \end{array}$	$\begin{array}{r} 3 \ 5 \ 6 \\ + \\ \hline 1 \ 2 \ 0 \end{array}$	$\begin{array}{r} 3 \ 0 \ 8 \\ + \\ \hline 7 \ 7 \end{array}$	$\begin{array}{r} 5 \ 3 \ 6 \\ + \\ \hline 7 \ 9 \end{array}$
---	---	---	---	---	---

៣. ចូរគូសសញ្ញា \checkmark ក្នុង \square នៃផលបូកខាងក្រោម (១ពិន្ទុ)

$352 + 46 = \square$

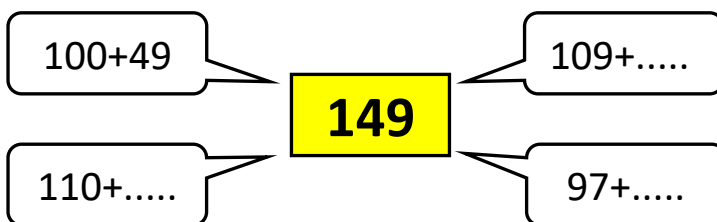
ក. \square 389

ខ. \square 398

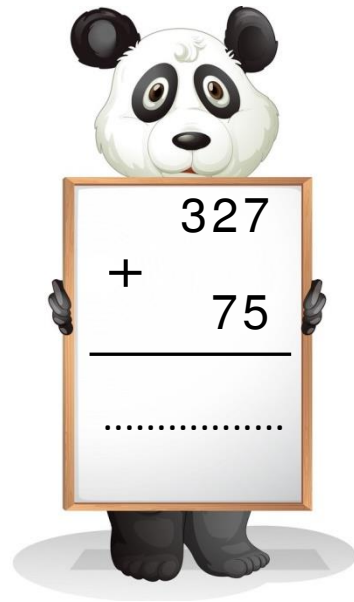
គ. \square 432

ឃ. \square 352


៤. ចូរបំពេញចំនួនក្នុង \square ដើម្បីបានផលបូកស្មើនឹង 149 (១.៥ពិន្ទុ)



៥. ចូរធ្វើប្រមាណវិធីបូកឱ្យបានត្រឹមត្រូវ (១.៥ពិន្ទុ)



៦. ចូរគូសវង់លើផលបូកខាងក្រោមឱ្យបានត្រឹមត្រូវ (១ពិន្ទុ)



៧. ចូរគូសភ្ជាប់ផលបូកខាងក្រោមឱ្យបានត្រឹម (២ពិន្ទុ)

364+23	689
349+340	764
738+26	387
364+271	501
417+84	635



សាលាបឋមសិក្សា.....
 ឈ្មោះសិស្ស.....

កិច្ចការផ្ទះ
គណិតវិទ្យា ថ្នាក់ទី២

មេរៀនទី១១ “វិធីបូកចំនួនមានលេខ 3 ខ្ទង់”

១. ចូរធ្វើប្រមាណវិធីបូកខាងក្រោម (១ពិន្ទុ)

$$\begin{array}{r} 226 \\ + 148 \\ \hline \end{array}$$

$$\begin{array}{r} 438 \\ + 363 \\ \hline \end{array}$$

.....

.....

២. ចូរធ្វើប្រមាណវិធីដកខាងក្រោម (១ពិន្ទុ)

$$\begin{array}{r} 171 \\ - 35 \\ \hline \end{array}$$

$$\begin{array}{r} 869 \\ - 43 \\ \hline \end{array}$$

.....

.....

៣. ចូរគូសសញ្ញា ក្នុង នៃប្រមាណវិធីដែលត្រឹមត្រូវ (១ពិន្ទុ)

<input type="checkbox"/> $\begin{array}{r} 487 \\ + 357 \\ \hline 744 \end{array}$	<input type="checkbox"/> $\begin{array}{r} 487 \\ + 357 \\ \hline 844 \end{array}$	<input type="checkbox"/> $\begin{array}{r} 487 \\ + 357 \\ \hline 834 \end{array}$
---	---	---

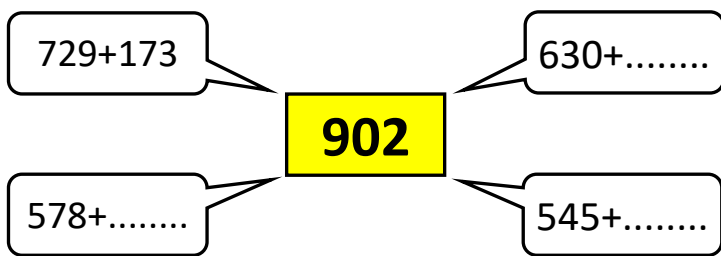
៤. ចូរគូសសញ្ញា ក្នុង នៃប្រមាណវិធីដែលត្រឹមត្រូវ (១ពិន្ទុ)

<input type="checkbox"/> $\begin{array}{r} 697 \\ - 46 \\ \hline 631 \end{array}$	<input type="checkbox"/> $\begin{array}{r} 697 \\ - 46 \\ \hline 641 \end{array}$	<input type="checkbox"/> $\begin{array}{r} 697 \\ - 46 \\ \hline 651 \end{array}$
--	--	--

៥. ចូរបំពេញផលដកខាងក្រោមឱ្យបានត្រឹមត្រូវ (១ពិន្ទុ)

$589 - 56 = \dots\dots\dots$

៦. ចូរបំពេញចំនួនក្នុង ដើម្បីបានផលបូកស្មើនឹង 902 (១.៥ពិន្ទុ)



៧. មីងមុំបេះស្វាយថ្ងៃទីមួយបាន 288 ផ្លែ ថ្ងៃទីពីរបាន 179 ផ្លែ។ (១,៥ពិន្ទុ)

តើមីងមុំបេះស្វាយទាំងពីរថ្ងៃបានប៉ុន្មានផ្លែ?

មីងមុំបេះផ្លែស្វាយទាំងពីរថ្ងៃបាន

$589 + \dots\dots\dots = \dots\dots\dots$

៨. ពូសំមានពងទា 187 ។ គាត់លក់អស់ 53។ (២ពិន្ទុ)

តើពូសំនៅសល់ពងទាទាំងអស់ប៉ុន្មាន?

- ពូសំមានពងទា
- ពូសំលក់ពងទាអស់
- ពូសំនៅសល់ពងទា



សាលាបឋមសិក្សា.....
 ឈ្មោះសិស្ស.....

កិច្ចការផ្ទះ
គណិតវិទ្យា ថ្នាក់ទី២

មេរៀនទី១២ “វិធីដកចំនួនមានលេខ 3ខ្ទង់និង 2ខ្ទង់”

១. ចូរគូសសញ្ញា ✓ ក្នុង □ នៃផលដកខាងក្រោម (០,៥ពិន្ទុ)

542 - 322 =

- ក. □ 864 ខ. □ 520 គ. □ 242 ឃ. □ 220

២. ចូរគូសសញ្ញា ✓ ក្នុង □ នៃផលដកខាងក្រោម (០,៥ពិន្ទុ)

382 - 13 =

- ក. □ 352 ខ. □ 369 គ. □ 379 ឃ. □ 395

៣. ចូរគូសសញ្ញា ✓ ក្នុង □ នៃផលដកខាងក្រោម (០,៥ពិន្ទុ)

926 - 658 =

- ក. □ 262 ខ. □ 268 គ. □ 278 ឃ. □ 368

៤. ចូរបំពេញផលដកខាងក្រោម (១ពិន្ទុ)

ក. 463 - 71 = ខ. 685 - 94 =

៥. ចូរធ្វើប្រមាណវិធីដកខាងក្រោម (២ពិន្ទុ)

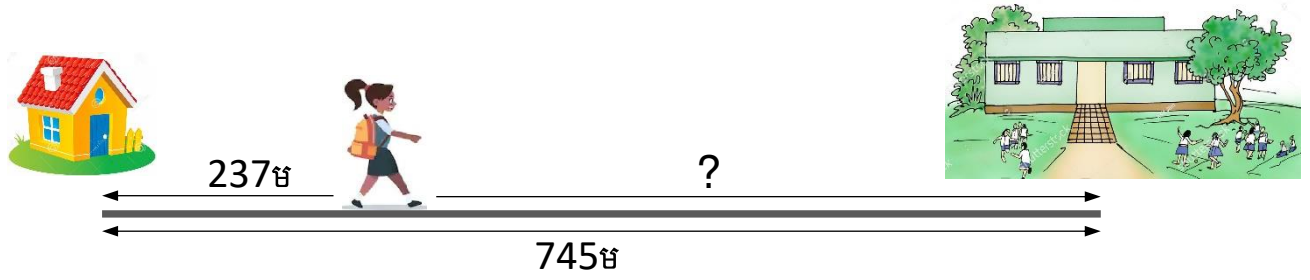
$$\begin{array}{r} 943 \\ - 51 \\ \hline \end{array}$$

$$\begin{array}{r} 875 \\ - 368 \\ \hline \end{array}$$

$$\begin{array}{r} 763 \\ - 398 \\ \hline \end{array}$$

$$\begin{array}{r} 836 \\ - 567 \\ \hline \end{array}$$

៦. ពីផ្ទះទៅសាលាមានចម្ងាយ 745 ម។ នីតាដើរបាន 237 ម។ (២ពិន្ទុ)



នីតាត្រូវដើរបន្ត ម ទៀត

៧. ចូរគូសភ្ជាប់ផលដកខាងក្រោមឱ្យបានត្រឹមត្រូវ (២ពិន្ទុ)

642-210	750
979-229	368
451-83	432
231-102	563
920-357	129

៨. មីងកែវកាច់ពោតបាន 954 ផ្លែ។ គាត់ឱ្យពោតទៅបញ្ញា 265 ផ្លែ។ (១,៥ពិន្ទុ)
តើមីងកែវនៅសល់ពោតទាំងអស់ប៉ុន្មានផ្លែ?

មីងកែវនៅសល់ពោតទាំងអស់

$$\boxed{} - \boxed{} = \boxed{} \text{ ផ្លែ}$$



កិច្ចការផ្ទះ

សាលាបឋមសិក្សា.....
ឈ្មោះសិស្ស.....

**គណិតវិទ្យា ថ្នាក់ទី២
មេរៀនទី១៣ “រូបិយវត្ថុ”**

១. ចូរគូសវង់លើអក្សរនៃក្រដាសប្រាក់ 500 រៀល (១ពិន្ទុ)



ក

ខ

គ

ឃ

២. ចូរគូសវង់លើអក្សរនៃក្រដាសប្រាក់ 200 រៀល (១ពិន្ទុ)



ក

ខ

គ

ឃ

៣. ចូរគូសសញ្ញា ✓ ក្នុង □ នៃក្រដាសប្រាក់ខាងក្រោម (១ពិន្ទុ)



ក. □ 100 រៀល

ខ. □ 200 រៀល

គ. □ 500 រៀល

ឃ. □ 1 000 រៀល

៤. ចូរគូសសញ្ញា ✓ ក្នុង □ នៃចំនួនប្រាក់សរុបខាងក្រោម (១ពិន្ទុ)



ក. □ 200 រៀល

ខ. □ 500 រៀល

គ. □ 700 រៀល

ឃ. □ 800 រៀល

៥. ចូរគូសភ្ជាប់ចំនួនទៅនឹងរូបក្រដាសប្រាក់ខាងក្រោម (២ពិន្ទុ)

500 រៀល



300 រៀល



600 រៀល



800 រៀល



900 រៀល



៦. ចូរប្តូរចំនួនប្រាក់តាមរូបខាងក្រោម (១ពិន្ទុ)

ប្រភេទក្រដាសប្រាក់	ប្រភេទក្រដាសប្រាក់		
	១០០៛	២០០៛	៥០០៛
			
			

៧. ចូរបំពេញចំនួនក្រដាសប្រាក់ក្នុងតារាង (៣ពិន្ទុ)

ចំនួនប្រាក់	ក្រដាសប្រាក់ដែលប្តូរ		
	100 រៀល	200 រៀល	500 រៀល
600 រៀល1.....	1.....
1000 រៀល
800 រៀល
900 រៀល



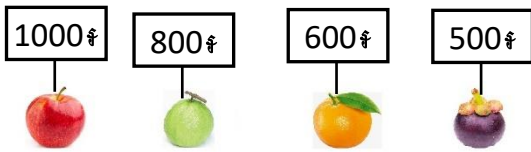
សាលាបឋមសិក្សា.....
 ឈ្មោះសិស្ស.....

កិច្ចការផ្ទះ

គណិតវិទ្យា ថ្នាក់ទី២

មេរៀនទី១៣ "រូបិយវត្ថុ" និងមេរៀនទី១៤ "ធរណីមាត្រ"

១. តើតុលាអាចទិញអ្វីបាន? (១ពិន្ទុ)




ក. ប៉ោម

ខ. ត្របែក

គ. ក្រូច

ឃ. មង្គុត

២. ចូរគូសរង្វង់លើអក្សរនៃរាងការ៉េ (១ពិន្ទុ)




ក

ខ

គ

ឃ

៣. ចូរគូសរង្វង់លើអក្សរនៃរាងត្រីកោណ (១ពិន្ទុ)



ក

ខ

គ

ឃ

៤. ចូរសរសេរឈ្មោះរាងធរណីមាត្រខាងក្រោម (២ពិន្ទុ)



.....

.....









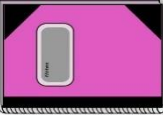

៥. ចូរសរសេរឈ្មោះរូបខាងក្រោម (១ពិន្ទុ)



.....


.....

៦. ចូរគូសភ្ជាប់វត្ថុទៅរាងធរណីមាត្រ (២ពិន្ទុ)

៧. នារីទិញក្រូច ១ផ្លែ និងល្កុង១ផ្លែ។ តើដាក់ត្រូវអាប់លុយឱ្យនារីចំនួនប៉ុន្មានរៀល? (២ពិន្ទុ)

ដាក់ត្រូវអាប់លុយ

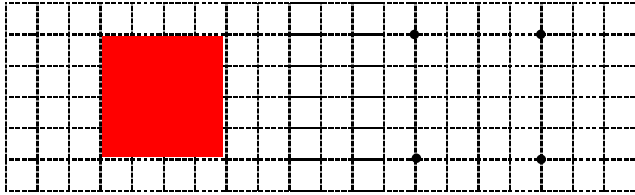




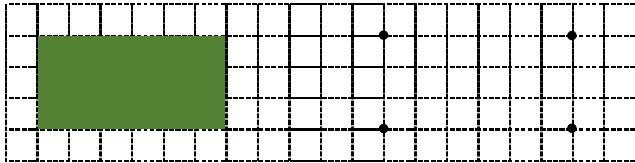
សាលាបឋមសិក្សា.....
 ឈ្មោះសិស្ស.....

កិច្ចការផ្ទះ
គណិតវិទ្យា ថ្នាក់ទី២
មេរៀនទី១៤ "ធរណីមាត្រ"


១. ចូរគូសអង្កត់ភ្ជាប់ចំណុចបង្កើតឱ្យបានរូបការព (១ពិន្ទុ)




២. ចូរគូសអង្កត់ភ្ជាប់ចំណុចបង្កើតឱ្យបានរូបចតុកោណកែង (១ពិន្ទុ)




៣. ចូរគូសអង្កត់ភ្ជាប់ចំណុចបង្កើតឱ្យបានរូបត្រីកោណ (១ពិន្ទុ)



៤. ចូរគូសវង់លើអក្សរនៃរូបដែលមានទំហំក្រឡាការ៉េធំជាង? (១ពិន្ទុ)




ក

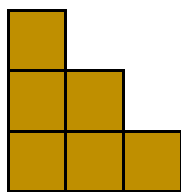


ខ

៥. ចូរគូសវង់លើអក្សរនៃរូបដែលមានទំហំក្រឡាការ៉េតូចជាង? (១ពិន្ទុ)

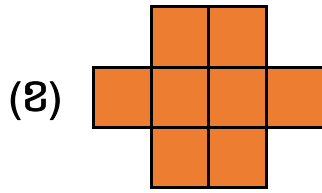
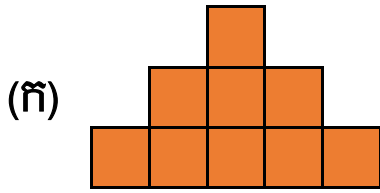


ក



ខ

៦. ចូរប្រៀបធៀបចំនួនក្រឡាការ៉ូខាងក្រោមដោយប្រើពាក្យ តូចជាង ធំជាង ស្មើគ្នា (១ពិន្ទុ)



រូប (ក).....រូប (ខ)

៧. ចូរគូស ✓ ក្នុង □ នៃរូបខាងក្រោមឱ្យបានត្រឹមត្រូវ (១ពិន្ទុ)





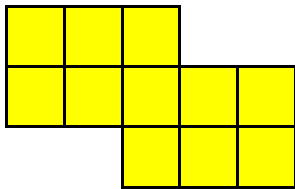
ក. □ ការេ

ខ. □ ស៊ីឡាំង

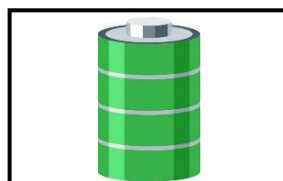
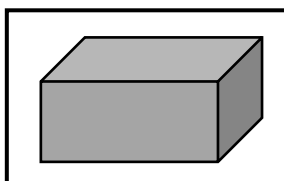
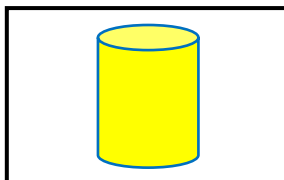

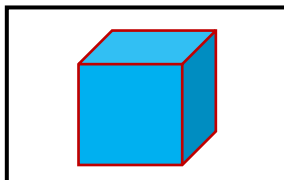
គ. □ គូប

ឃ. □ ប្រលេពីប៉ែតកែង

៨. ចូរសរសេរចំនួនក្រឡាការ៉ូនៃរូបខាងក្រោម (១.៥ពិន្ទុ)



៩. ចូរគូសភ្ជាប់រូបធរណីមាត្រទៅនឹងវត្ថុខាងក្រោម (១.៥ពិន្ទុ)





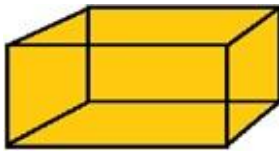
សាលាបឋមសិក្សា.....
 ឈ្មោះសិស្ស.....

កិច្ចការផ្ទះ
គណិតវិទ្យា ថ្នាក់ទី២
មេរៀនទី១៤ “ធរណីមាត្រ”

១. ចូរជ្រើសរើសពាក្យ (ប្រលេពីប៉ែតកែង ស៊ីឡាំង គូប) ទៅបំពេញឱ្យត្រូវតាមរូបភាព (១ពិន្ទុ)



.....

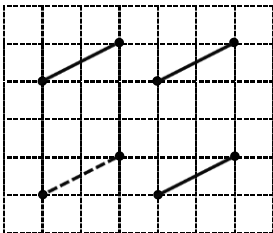


.....

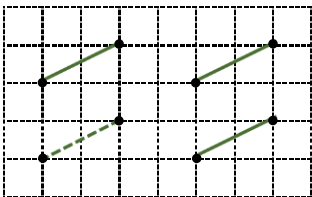


.....

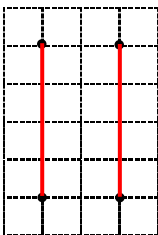
២. ចូរគូសភ្ជាប់ចំណុចដើម្បីបានរូបគូប (១ពិន្ទុ)




៣. ចូរគូសភ្ជាប់ចំណុចដើម្បីបានរូបប្រលេពីប៉ែតកែង (១ពិន្ទុ)




៤. ចូរគូសភ្ជាប់ចំណុចដើម្បីបានរូបស៊ីឡាំង (១ពិន្ទុ)




៥. ចូរគូររូបគូបឱ្យបានត្រឹមត្រូវ (២ពិន្ទុ)



៦. ចូរគូររូបប្រលេពីប៉ែតកែងឱ្យបានត្រឹមត្រូវ (២ពិន្ទុ)



៧. ចូរគូររូបស៊ីឡាំងឱ្យបានត្រឹមត្រូវ (២ពិន្ទុ)





សាលាបឋមសិក្សា.....
ឈ្មោះសិស្ស.....

កិច្ចការផ្ទះ

គណិតវិទ្យា ថ្នាក់ទី២

មេរៀនទី១៤ “ធរណីមាត្រ” និងមេរៀនទី១៥ “ពេលវេលា”

១. ចូរសរសេរឈ្មោះទ្រនិចនាឡិកា (១ពិន្ទុ)

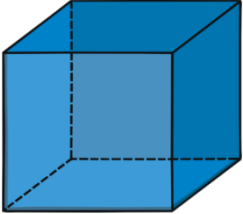


ទ្រនិចម៉ោង

ទ្រនិច.....

ទ្រនិច.....

២. ចូរគូសភ្ជាប់រូបធរណីមាត្រទៅនឹងវត្ថុដែលមានរាងដូចគ្នា (៣ពិន្ទុ)

៣. ចូរបំពេញតារាងខាងក្រោម (៤ពិន្ទុ)

រូប	ចំនួនមុខ	ឈ្មោះរាងនៃមុខនីមួយៗ
	<p>-----</p>	<p>-----</p> <p>-----</p> <p>-----</p>
	<p>-----</p>	<p>-----</p> <p>-----</p> <p>-----</p>
	<p>-----</p>	<p>-----</p> <p>-----</p> <p>-----</p>

៤. ចូរសរសេរម៉ោងតាមរូបខាងក្រោម (១ពិន្ទុ)



.....ម៉ោងប្រាំពីរ.....




.....



.....

៥. ចូរគូសទ្រនិចនាឡិកាតាមម៉ោងខាងក្រោម (១ពិន្ទុ)

		
<p>ម៉ោង 7:00</p>	<p>ម៉ោង 10:00</p>	<p>ម៉ោង 4:00</p>



សាលាបឋមសិក្សា.....
 ឈ្មោះសិស្ស.....

កិច្ចការផ្ទះ
គណិតវិទ្យា ថ្នាក់ទី២
មេរៀនទី១៥ “ពេលវេលា”

១. ចូរគូស ✓ ក្នុង □ ចម្លើយនៃនាឡិកាខាងក្រោម (១ពិន្ទុ)



ក. ម៉ោង 10:30 ខ. ម៉ោង 11:00 គ. ម៉ោង 11:30 ឃ. ម៉ោង 12:30

២. ចូរសរសេរម៉ោងតាមនាឡិកាខាងក្រោមឱ្យបានត្រឹមត្រូវ (២ពិន្ទុ)



ម៉ោង.....



ម៉ោង.....



ម៉ោង.....



ម៉ោង.....

៣. ចូរសរសេរម៉ោងតាមរូបខាងក្រោម (២ពិន្ទុ)



សោភាធ្វើកិច្ចការភាសាខ្មែរ
 នៅម៉ោង.....នាទីយប់។



លីណាជិះកង់ទៅសាលារៀន
 នៅម៉ោង.....នាទីព្រឹក។

៤. ចូរគូសភ្ជាប់ពេលវេលាទៅនឹងព្រឹត្តិការណ៍ (៣ពិន្ទុ)

ព្រឹត្តិការណ៍	ពេលវេលា	ព្រឹត្តិការណ៍
	គ្រួសារខ្ញុំញ៉ាំបាយ នៅម៉ោង 6:30 ព្រឹក	
	ខ្ញុំធ្វើលំហាត់គណិតវិទ្យា នៅម៉ោង 7:00 យប់	
	ខ្ញុំភ្ញាក់ពីគេង នៅម៉ោង 6:00 ព្រឹក	
	ខ្ញុំលេងកីឡា នៅម៉ោង 2:00 រសៀល	
	ខ្ញុំចូលរៀន នៅម៉ោង 7:00 ព្រឹក	
	ខ្ញុំចូលគេង នៅម៉ោង 9:00 យប់	

៥. ធានិតត្រូវចេញដំណើរទៅខេត្តបាត់ដំបង នៅម៉ោង 7:00 ព្រឹក។ ពេលវេលាចេញដំណើរជាក់ស្តែង យឺត ២ម៉ោង ព្រោះឡានខូច។

តើធានិតចេញដំណើរនៅម៉ោងប៉ុន្មាន? (១ពិន្ទុ)

ធានិតចេញដំណើរនៅម៉ោង.....ព្រឹក។



៦. ស្រីពេជ្រចំណាយពេល 2 ម៉ោង ធ្វើកិច្ចការផ្ទះជារៀងរាល់ថ្ងៃ។ នាងធ្វើកិច្ចការ 6 ថ្ងៃ ក្នុងមួយសប្តាហ៍។ តើស្រីពេជ្រធ្វើកិច្ចការផ្ទះប៉ុន្មានម៉ោង ក្នុងមួយសប្តាហ៍? (១ពិន្ទុ)

ស្រីពេជ្រធ្វើកិច្ចការផ្ទះ.....ម៉ោង ក្នុងមួយសប្តាហ៍។





សាលាបឋមសិក្សា.....
 ឈ្មោះសិស្ស.....

កិច្ចការផ្ទះ
គណិតវិទ្យា ថ្នាក់ទី២
មេរៀនទី១៥ “ពេលវេលា”

១. ចូរសរសេរឈ្មោះថ្ងៃក្នុងសប្តាហ៍តាមលំដាប់ (២ពិន្ទុ)

អាទិត្យ				ព្រហស្បតិ៍		
---------	--	--	--	------------	--	--

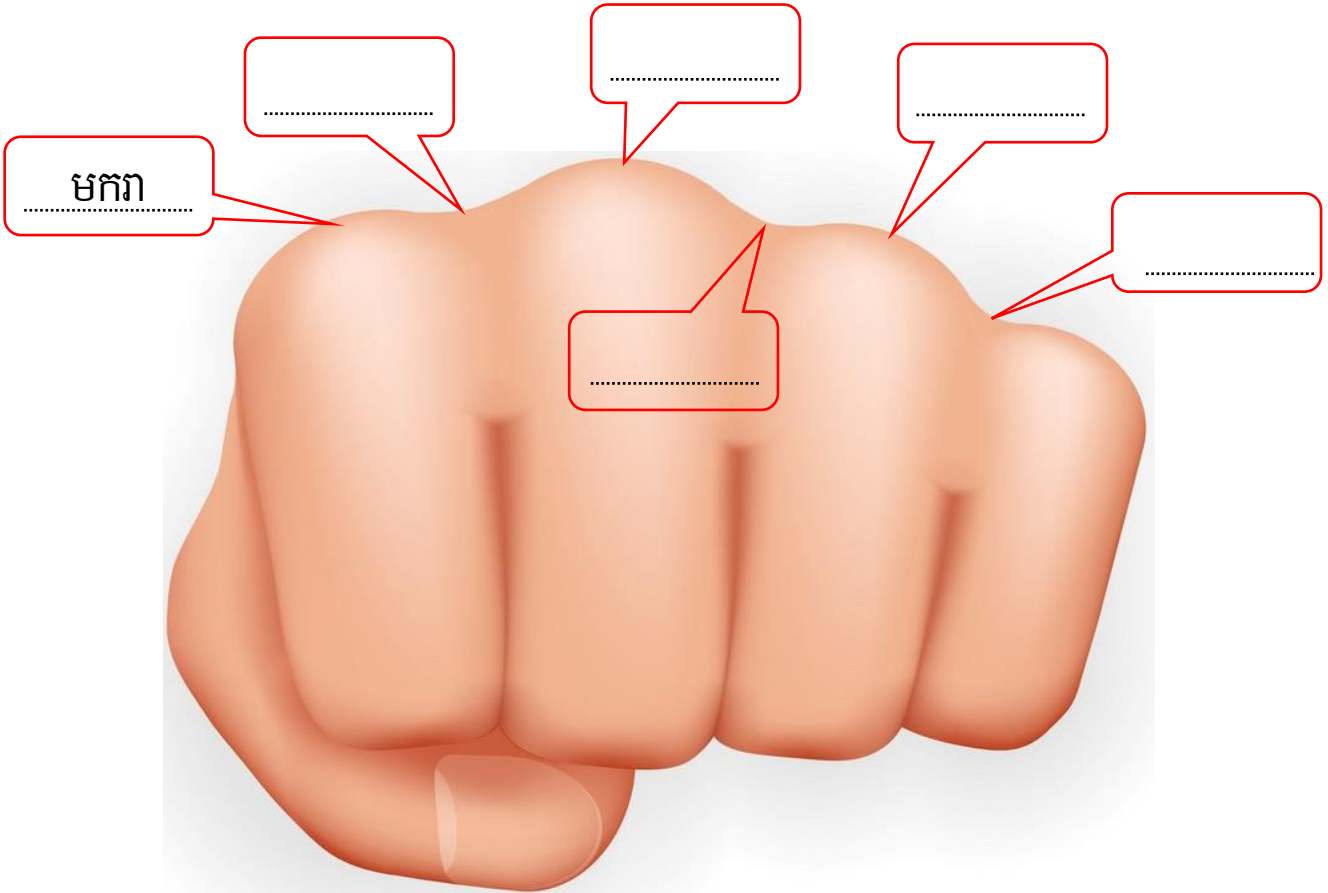
២. ចូរបំពេញឈ្មោះខែក្នុងឆ្នាំតាមលំដាប់ (៣ពិន្ទុ)

មករា		មីនា	
ឧសភា	មិថុនា		សីហា
	តុលា		

៣. ចូរគូសភ្ជាប់ឈ្មោះខែ ទៅនឹងចំនួនថ្ងៃនៃខែនីមួយៗ (២.៥ពិន្ទុ)

ខែ	មាន 30 ឬ 31 ថ្ងៃ	ខែ
តុលា	<div style="border: 1px solid black; border-radius: 50%; width: 40px; height: 40px; display: flex; align-items: center; justify-content: center; margin: 5px;">30</div> <div style="border: 1px solid black; border-radius: 50%; width: 40px; height: 40px; display: flex; align-items: center; justify-content: center; margin: 5px;">31</div>	មិថុនា
មេសា		ធ្នូ
សីហា		វិច្ឆិកា

៤. ចូរសរសេរឈ្មោះខែក្នុងប្រអប់ខាងក្រោម (២.៥ពិន្ទុ)
(មករា មីនា មិថុនា មេសា កញ្ញា ឧសភា)





សាលាបឋមសិក្សា.....
 ឈ្មោះសិស្ស.....

កិច្ចការផ្លូវ៖
គណិតវិទ្យា ថ្នាក់ទី២
មេរៀនទី១៥ “ពេលវេលា”

១. តើក្នុងមួយឆ្នាំមានចំនួនប៉ុន្មានខែ? (១ពិន្ទុ)

ក. 7ខែ ខ. 11ខែ គ. 12ខែ ឃ. 21ខែ

២. ចូរពិនិត្យមើលប្រតិទិន និងឆ្លើយសំណួរខាងក្រោម (៦ពិន្ទុ)

កក្កដា 2020						
អាទិ	ចន្ទ	អង្គ	ពុធ	ព្រហ	សុក្រ	សៅរ៍
28 ៨ កើត	29 ៩ កើត	30 ១០ កើត	1 ១១ កើត	2 ១២ កើត	3 ១៣ កើត	4 ១៤ កើត ថ្ងៃកោរ
5 ១៥ កើត ពេញចូណ៍មី	6 ១ ឆាច	7 ២ ឆាច	8 ៣ ឆាច	9 ៤ ឆាច	10 ៥ ឆាច	11 ៦ ឆាច
12 ៧ ឆាច	13 ៨ ឆាច	14 ៩ ឆាច	15 ១០ ឆាច	16 ១១ ឆាច	17 ១២ ឆាច	18 ១៣ ឆាច
19 ១៤ ឆាច ថ្ងៃកោរ	20 ១៥ ឆាច	21 ១ កើត	22 ២ កើត	23 ៣ កើត	24 ៤ កើត	25 ៥ កើត
26 ៦ កើត	27 ៧ កើត	28 ៨ កើត	29 ៩ កើត	30 ១០ កើត	31 ១១ កើត	1 ១២ កើត

- តើរូបខាងលើជាប្រតិទិននៃខែអ្វី? ប្រតិទិនខែ.....
- តើក្នុងខែខាងលើមានចំនួនប៉ុន្មានថ្ងៃ? មាន.....ថ្ងៃ
- តើថ្ងៃទី1 នៃខែខាងលើជាថ្ងៃអ្វី? ជាថ្ងៃ.....
- តើខែក្នុងរូបភាពខាងលើមានចំនួនប៉ុន្មានសប្តាហ៍? មាន.....សប្តាហ៍
- តើថ្ងៃចន្ទត្រូវនឹងថ្ងៃទីប៉ុន្មានខ្លះ? ថ្ងៃចន្ទមានថ្ងៃទី និង.....
- តើថ្ងៃទី29 នៃខែខាងលើគឺថ្ងៃអ្វី? ជាថ្ងៃ.....

៣. បូណាកើតនៅថ្ងៃទី៥ ខែមករា ឆ្នាំ២០១៥។ វិសាលកើតនៅថ្ងៃទី១៥ ខែមករា ឆ្នាំ២០១៥។ តើនរណាកើតមុន? មានអាយុបងចំនួនប៉ុន្មានថ្ងៃ? (១,៥ពិន្ទុ)

មករា 2015						
បុស្ស-មាយ						
អាទិត្យ	ចន្ទ	អង្គ	ពុធ	ព្រហស្ប	សុក្រ	សៅរ៍
28 ៨ កើត	29 ៩ កើត	30 ១០ កើត	31 ១១ កើត	1 ១២ កើត	2 ១៣ កើត	3 ១៤ កើត ថ្ងៃកោរ
4 ១៥ កើត ពេញបូណ៌	5 ១ រោច	6 ២ រោច	7 ៣ រោច	8 ៤ រោច	9 ៥ រោច	10 ៦ រោច
11 ៧ រោច	12 ៨ រោច	13 ៩ រោច	14 ១០ រោច	15 ១១ រោច	16 ១២ រោច	17 ១៣ រោច
18 ១៤ រោច ថ្ងៃកោរ	19 ១៥ រោច	20 ១ កើត	21 ២ កើត	22 ៣ កើត	23 ៤ កើត	24 ៥ កើត
25 ៦ កើត	26 ៧ កើត	27 ៨ កើត	28 ៩ កើត	29 ១០ កើត	30 ១១ កើត	31 ១២ កើត

អ្នកដែលកើតមុនគឺ..... និងមានអាយុបងចំនួន.....ថ្ងៃ។

៤. ចន្ទី និងចន្ទា មកធ្វើការនៅរាជធានីភ្នំពេញជាមួយគ្នា។ ចន្ទាបានប្តូរទៅធ្វើការងារនៅខេត្តសៀមរាប នាខែឧសភា។ ចន្ទីក៏ទៅធ្វើការជាមួយចន្ទានៅខេត្តសៀមរាប នាខែកក្កដា។ តើនរណាទៅដល់ខេត្តសៀមរាបមុន? ទៅមុនប៉ុន្មានខែ? (១,៥ពិន្ទុ)

អ្នកទៅដល់ខេត្តសៀមរាបមុនគឺ..... ហើយទៅដល់មុន.....ខែ។



សាលាបឋមសិក្សា.....
 ឈ្មោះសិស្ស.....

កិច្ចការផ្ទះ
គណិតវិទ្យា ថ្នាក់ទី២
មេរៀនទី១៦ “ទិន្នន័យ”

១. តើសិស្សអាយុ 7ឆ្នាំ មានចំនួនប៉ុន្មាននាក់? (០,៥ពិន្ទុ)

អាយុ (ឆ្នាំ)	ចំនួនសិស្ស
10	3
9	3
8	7
7	8

ក. 3 នាក់ ខ. 7 នាក់ គ. 8 នាក់ ឃ. 10 នាក់


២. ចូរមើលតារាងនៃការហូបផ្លែឈើរបស់សិស្ស រួចឆ្លើយសំណួរខាងក្រោម (៣ពិន្ទុ)

ផ្លែឈើ	ចំនួនសិស្សចូលចិត្ត (នាក់)									
ក្រូច										
ពុទ្រា										
មង្គុត										


- តើផ្លែអ្វីដែលសិស្សចូលចិត្តតិចជាងគេ? មានចំនួនប៉ុន្មាននាក់?
 ផ្លែ..... មានចំនួន.....នាក់
- តើផ្លែអ្វីដែលសិស្ស 7 នាក់ចូលចិត្តហូប? ផ្លែ.....
- តើផ្លែអ្វីដែលសិស្សចូលចិត្តហូបច្រើនជាងគេ? មានចំនួនប៉ុន្មាននាក់?
 ផ្លែ..... មានចំនួន.....នាក់
- តើសិស្សចូលចិត្តផ្លែពុទ្រា មានចំនួនច្រើនជាងសិស្សចូលចិត្តផ្លែក្រូចប៉ុន្មាននាក់?
 មានចំនួន.....នាក់


















៣. ចាន់ណា មានឃ្លី 4គ្រាប់ តុលា មានឃ្លី 9គ្រាប់ ណារី មានឃ្លី 5គ្រាប់ និងធារីមានឃ្លី 7គ្រាប់។ (១,៥ពិន្ទុ)

ចូរដាត់ពណ៌ក្នុង តាងចំនួនឃ្លីដែលពួកគេមាន

ឈ្មោះ	ចំនួន 							
ចាន់ណា								
តុលា								
ណារី								
ធារី								

៤. ចូរពិនិត្យមើលចំនួនផ្លែស្វាយដែលមីងនីលក់ក្នុងរយៈពេល 4ថ្ងៃ (៥ពិន្ទុ)

រូបភាព  មានចំនួនស្វាយ 10 ផ្លែ។

ថ្ងៃ	ចំនួនផ្លែស្វាយ					
ចន្ទ						
អង្គារ						
ពុធ						
ព្រហស្បតិ៍						









- តើថ្ងៃណាមីងនីលក់ស្វាយបានច្រើនជាងគេ? លក់បានចំនួនប៉ុន្មានផ្លែ?
មីងនីលក់ស្វាយបានច្រើនជាងគេនៅថ្ងៃ គាត់លក់បានចំនួន ផ្លែ។
- តើថ្ងៃណាគាត់លក់ស្វាយបានតិចជាងគេ? លក់បានចំនួនប៉ុន្មានផ្លែ?
គាត់លក់បានតិចជាងគេនៅថ្ងៃ គាត់លក់បានចំនួន ផ្លែ។
- តើមីងនីលក់ស្វាយទាំង 4ថ្ងៃ បានចំនួនប៉ុន្មានផ្លែ?
គាត់លក់ស្វាយទាំង 4ថ្ងៃ បានចំនួន ផ្លែ។





សាលាបឋមសិក្សា.....
 ឈ្មោះសិស្ស.....

កិច្ចការផ្លូវ៖
គណិតវិទ្យា ថ្នាក់ទី២
មេរៀនទី១៦ “ទិន្នន័យ”

១. ចំនួនផ្លែក្រូចច្នុង និងផ្លែដូងដែលមីងផលលក់ក្នុងរយៈពេល៣ថ្ងៃ (៥ពិន្ទុ)

ថ្ងៃ	ចំនួន 	ចំនួន 
ចន្ទ		
អង្គារ		
ពុធ		

រូប  តាងឱ្យក្រូច1០ផ្លែ និងរូប  តាងឱ្យដូង1០ផ្លែ

ក. តើថ្ងៃចន្ទ មីងផលលក់ក្រូចច្នុងបានចំនួនប៉ុន្មានផ្លែ? មីងផលលក់ក្រូចច្នុងបានចំនួន.....ផ្លែ។

ខ. តើថ្ងៃអង្គារ មីងផលលក់ក្រូចច្នុង និងដូងបានចំនួនប៉ុន្មានផ្លែ?

ថ្ងៃអង្គារមីងផលលក់ក្រូចច្នុង និងដូងសរុបបានចំនួន.....ផ្លែ។







គ. តើថ្ងៃពុធដែលមីងផលលក់ក្រូចច្នុង និងដូងបានចំនួនស្មើគ្នា? សរុបទាំងអស់បានចំនួនប៉ុន្មានផ្លែ?



មីងផលលក់ក្រូចច្នុង និងដូងបានចំនួនស្មើគ្នានៅថ្ងៃ..... សរុបទាំងអស់បានចំនួន.....ផ្លែ។

ឃ. តើមីងផលលក់ក្រូចច្នុងនៅថ្ងៃចន្ទ និងលក់ដូងនៅថ្ងៃពុធសរុបទាំងអស់បានចំនួនប៉ុន្មានផ្លែ?

មីងផលលក់ក្រូចច្នុងនៅថ្ងៃចន្ទ និងលក់ដូងនៅថ្ងៃពុធសរុបទាំងអស់បានចំនួន.....ផ្លែ។

២. ចំនួនកង់ និងម៉ូតូដែលពូហោងលក់ក្នុងរយៈពេល២ខែ (៥ពិន្ទុ)

ខែ	ចំនួន 	ចំនួន 
តុលា		
វិច្ឆិកា		

រូប  តាងកង់១០គ្រឿង និងរូប  តាងឱ្យម៉ូតូ១០គ្រឿង

ក. តើក្រាបនេះបង្ហាញពីអ្វី?

.....។

ខ. តើខែតុលា ពូហោងលក់ម៉ូតូបានចំនួនប៉ុន្មានគ្រឿង?

ខែតុលាពូហោងលក់ម៉ូតូបានចំនួន.....គ្រឿង។

គ. តើខែវិច្ឆិកាពូហោងលក់កង់ និងម៉ូតូសរុបទាំងអស់បានចំនួនប៉ុន្មានគ្រឿង?

ខែវិច្ឆិកាពូហោងលក់កង់ និងម៉ូតូសរុបទាំងអស់បានចំនួន.....គ្រឿង។

ឃ. តើរយៈពេល២ខែពូហោងលក់កង់ និងម៉ូតូសរុបទាំងអស់បានចំនួនប៉ុន្មានគ្រឿង?

រយៈពេល២ខែពូហោងលក់កង់ និងម៉ូតូសរុបទាំងអស់បានចំនួន.....គ្រឿង។





សាលាបឋមសិក្សា.....
 ឈ្មោះសិស្ស.....

កិច្ចការផ្ទះ
គណិតវិទ្យា ថ្នាក់ទី២
មេរៀនទី១៦ “ទិន្នន័យ”

១. ចូរសង់ក្រាប និងបកស្រាយទិន្នន័យនៃការលក់ផ្លែឈើ (៦ពិន្ទុ)

ផ្លែឈើ	ចំនួន
ប៉ោម	30
ក្រូច	40

រូប  តាងឱ្យផ្លែប៉ោម 10ផ្លែ រូប  តាងឱ្យផ្លែក្រូច 10ផ្លែ

ក. សង់ក្រាប


ផ្លែឈើ	ចំនួន
ប៉ោម	
ក្រូច	


ខ. បកស្រាយក្រាប


- ផ្លែប៉ោមមានចំនួន.....ផ្លែ។
- ផ្លែក្រូចមានចំនួន.....ផ្លែ។
- ផ្លែប៉ោម និងក្រូចមានចំនួន.....ផ្លែ។
- ផ្លែប៉ោមតិចជាងផ្លែក្រូចចំនួន.....ផ្លែ។

២. ចូរសង់ក្រាបចំនួនសត្វក្នុងតារាងខាងក្រោម (៤ពិន្ទុ)

សត្វ	ចំនួន
ឆ្កែ	40
ឆ្កា	20
មាន់	60

រូប  តាងឱ្យសត្វឆ្កែ 10ក្បាល

រូប  តាងឱ្យសត្វឆ្កា 10ក្បាល

រូប  តាងឱ្យសត្វមាន់ 10ក្បាល

សង់ក្រាប

សត្វ	ចំនួន
ឆ្កែ	
ឆ្កា	
មាន់	



សាលាបឋមសិក្សា.....
 ឈ្មោះសិស្ស.....

កិច្ចការផ្លូវ៖
គណិតវិទ្យា ថ្នាក់ទី២
មេរៀនទី១៦ “ទិន្នន័យ”

១. ចូរបកស្រាយទិន្នន័យនៃការលក់បន្លែខាងក្រោម (៤ពិន្ទុ)

បន្លែ	ចំនួន
ល្ពៅ	
ប៉េងប៉ោះ	
ត្រសក់	

រូប តាងឱ្យល្ពៅ 10ផ្លែ

រូប តាងឱ្យប៉េងប៉ោះ 10ផ្លែ


រូប តាងឱ្យត្រសក់ 10ផ្លែ

ក្រាបនេះបង្ហាញថា


- ចំនួនប៉េងប៉ោះលក់បាន.....ផ្លែ។
- ចំនួនល្ពៅ និងត្រសក់លក់បាន.....ផ្លែ។
- ចំនួនប៉េងប៉ោះលក់បានតិចជាងល្ពៅ.....ផ្លែ។
- ចំនួនត្រសក់លក់បានច្រើនជាងល្ពៅ.....ផ្លែ។

២. ចូរសង់ក្រាប និងបកស្រាយទិន្នន័យនៃការលក់សម្បកកង់ សម្បកកង់ម៉ូតូ សម្បកកង់ឡានរបស់ ក្រុមហ៊ុនមួយ (៦ពិន្ទុ)

សម្បក	មករា	កុម្មុៈ
កង់	30	20
កង់ម៉ូតូ	20	40
កង់ឡាន	30	30

រូប  តាងឱ្យសម្បកកង់ 10

រូប  តាងឱ្យសម្បកកង់ម៉ូតូ 10

រូប  តាងឱ្យសម្បកកង់ឡាន 10

ក. សង់ក្រាប

សម្បក	មករា	កុម្មុៈ
កង់		
កង់ម៉ូតូ		
កង់ឡាន		

ខ. បកស្រាយក្រាប


- ខែមករា ក្រុមហ៊ុនលក់សម្បកកង់បានចំនួន..... និងខែកុម្មុៈបានចំនួន.....។
- ខែមករា និងកុម្មុៈ ក្រុមហ៊ុនលក់សម្បកកង់ម៉ូតូទាំងអស់បានចំនួន.....។
- រយៈពេល2ខែ ក្រុមហ៊ុនលក់សម្បកកង់ សម្បកកង់ម៉ូតូ សម្បកកង់ឡានទាំងអស់បាន ចំនួន.....។
- ខែកុម្មុៈ ក្រុមហ៊ុនលក់សម្បកកង់ឡានច្រើនជាងសម្បកកង់ចំនួន.....។




សាលាបឋមសិក្សា.....
 ឈ្មោះសិស្ស.....

កិច្ចការផ្ទះ
គណិតវិទ្យា ថ្នាក់ទី២
មេរៀនទី១៧ “លំនាំគំរូ”

១. តាមរយៈរូបខាងក្រោម ចូរប្តូរៗគូសវង់លើអក្សរនៃលំនាំគំរូ (១.២៥ពិន្ទុ)



២. ចូរគូររូបក្នុងចន្លោះនៃលំនាំគំរូខាងក្រោម (៨.៧៥ពិន្ទុ)







សាលាបឋមសិក្សា.....
 ឈ្មោះសិស្ស.....

កិច្ចការផ្ទះ
គណិតវិទ្យា ថ្នាក់ទី២
មេរៀនទី១៧ "លំនាំគំរូ"

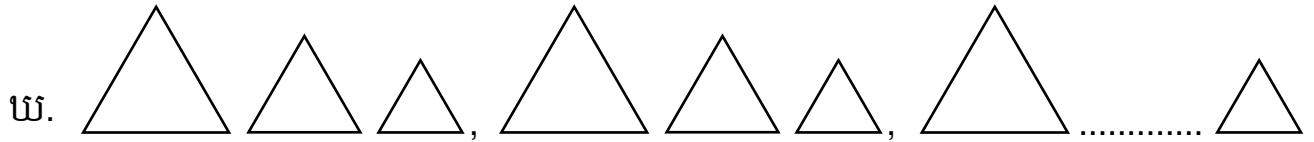
១. ចូររង់លើអក្សរនៃលំនាំគំរូតាមទំហំខាងក្រោម (១ពិន្ទុ)



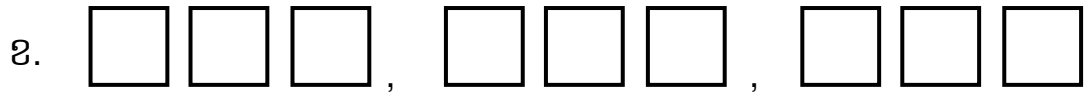
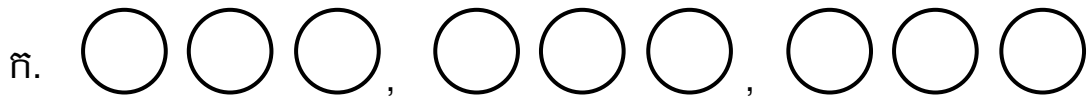
២. ចូរគូស ក្នុង លំនាំគំរូតាមទំហំឱ្យបានត្រឹមត្រូវ (១ពិន្ទុ)



៤. ចូរគូររូបបំពេញចន្លោះបង្កើតជាលំនាំគំរូតាមទំហំខាងក្រោម (២ពិន្ទុ)



៣. ចូរដាត់ពណ៌បង្កើតជាលំនាំគំរូតាមពណ៌ខាងក្រោម (៦ពិន្ទុ)






សាលាបឋមសិក្សា.....
 ឈ្មោះសិស្ស.....

កិច្ចការផ្ទះ
គណិតវិទ្យា ថ្នាក់ទី២
មេរៀនទី១៧ “លំនាំគំរូ”

១. ចូររង់លើអក្សរនៃលំនាំគំរូតាមចំនួន (១ពិន្ទុ)



២. ចូរជ្រើសរើសចម្លើយណាមួយ (លំនាំគំរូតាមរូប លំនាំគំរូតាមទំហំ លំនាំគំរូតាមចំនួន) ទៅបំពេញ
 ចន្លោះឱ្យបានត្រឹមត្រូវតាមលំនាំគំរូខាងក្រោម (១ពិន្ទុ)



លំនាំគំរូ.....។

៣. ចូរបំពេញចំនួនក្នុងចន្លោះនៃលំនាំគំរូខាងក្រោម (២ពិន្ទុ)

ក.

.....6.....18.....

៤. ចូរបំពេញចំនួនក្នុងចន្លោះនៃលំនាំគំរូខាងក្រោម (៦ពិន្ទុ)

ក. 6 7 8 , 6 7 8 , 68, 7 8

ខ. 1 + 1 = 2 , 1 + 2 = 3 , 1 + = 4 , + = 5

គ. 2 + 3 = 5 , 4 + 3 = 7 , + 3 = 9 , + 3 =

បញ្ជីសន្លឹកកិច្ចការគណិតវិទ្យា ថ្នាក់ទី២

ល.រ	ខ្លឹមសារកិច្ចការផ្ទះ	ចំនួន កិច្ចការ
សរុបរួម		៥១
ធម្មាសទី១		២៩
1	មេរៀនទី១ ចំនួនដល់ ១០០០ "ការអាន និងសរសេរចំនួនដល់ ១០០០" (ការរាប់បន្ថែមម្តង១ដល់១០និងប្រាសមកវិញ)	
2	មេរៀនទី១ ចំនួនដល់ ១០០០ "ការអាន និងសរសេរចំនួនដល់ ១០០០" (ការអាន និងសរសេរចំនួនគត់ជាពាក្យពី១ដល់១០)	1
3	មេរៀនទី១ ចំនួនដល់ ១០០០ "ការអាន និងសរសេរចំនួនដល់ ១០០០" (ការរាប់បន្ថែមម្តង១០ដល់១០០ និងប្រាសមកវិញ)	
4	មេរៀនទី១ ចំនួនដល់ ១០០០ "ការអាន និងសរសេរចំនួនដល់ ១០០០" (ការអាន និងសរសេរចំនួនគត់ជាពាក្យពី១០ដល់១០០)	
5	មេរៀនទី១ ចំនួនដល់ ១០០០ "ការអាន និងសរសេរចំនួនដល់ ១០០០" (ការរាប់បន្ថែមម្តង១០០ដល់១០០០ និងប្រាសមកវិញ)	1
6	មេរៀនទី១ ចំនួនដល់ ១០០០ "ការអាន និងសរសេរចំនួនដល់ ១០០០" (ការអាន និងសរសេរចំនួនគត់ជាពាក្យពី១០០ដល់១០០០)	
7	មេរៀនទី១ ចំនួនដល់ ១០០០ "លំហាត់អនុវត្ត"	
8	មេរៀនទី១ ចំនួនដល់ ១០០០ "ចំនួនពី ១០១ ដល់ ១០៥"	1
9	មេរៀនទី១ ចំនួនដល់ ១០០០ "ចំនួនពី ១០៦ ដល់ ១១០"	
10	មេរៀនទី១ ចំនួនដល់ ១០០០ "ចំនួនពី១០១ ដល់១១០" (លំហាត់)	
11	មេរៀនទី១ ចំនួនដល់ ១០០០ "ចំនួនពី ១១០ ដល់ ១១៥"	1
12	មេរៀនទី១ ចំនួនដល់ ១០០០ "ចំនួនពី ១១៦ ដល់ ១២០"	
13	មេរៀនទី១ ចំនួនដល់ ១០០០ "ចំនួនពី ១១០ ដល់ ១២០"(លំហាត់)	
14	មេរៀនទី១ ចំនួនដល់ ១០០០ "ខ្ទង់រយ ខ្ទង់ដប់ ខ្ទង់រយ"	1
15	មេរៀនទី១ ចំនួនដល់ ១០០០ "តម្លៃលេខតាមខ្ទង់"	
16	មេរៀនទី១ ចំនួនដល់ ១០០០ "តម្លៃលេខតាមខ្ទង់"(លំហាត់)	
17	មេរៀនទី១ ចំនួនដល់ ១០០០ "អាន និងសរសេរចំនួនពី ១ ដល់៥ជាលេខសកល"	1
18	មេរៀនទី១ ចំនួនដល់ ១០០០ "អាន និងសរសេរចំនួនពី ៦ ដល់៩ជាលេខសកល"	

19	មេរៀនទី១ ចំនួនដល់ ១០០០ "អាននិងសរសេរចំនួនពី១ដល់៩ ជាលេខសកល"(លំហាត់)	
20	មេរៀនទី១ ចំនួនដល់ ១០០០ "ចំនួនគត់សេស និងចំនួនគត់គូពី១ ដល់២០"	1
21	មេរៀនទី១ ចំនួនដល់ ១០០០ "ចំនួនគត់សេស និងចំនួនគត់គូធំជាង២០"	
22	មេរៀនទី១ ចំនួនដល់ ១០០០ "បង្កត់ចំនួនត្រឹមខ្ទង់ដប់នៃចំនួនពី១១ ដល់១៩"	
23	មេរៀនទី១ ចំនួនដល់ ១០០០ "បង្កត់ចំនួនត្រឹមខ្ទង់ដប់នៃចំនួនពី២១ ដល់២៩"	1
24	មេរៀនទី១ ចំនួនដល់ ១០០០ "ការបង្កត់ចំនួនត្រឹមខ្ទង់ដប់"(លំហាត់)	
25	មេរៀនទី២ ការប្រៀបធៀបចំនួន "ប្រៀបធៀបចំនួនមានលេខ២ខ្ទង់ដោយប្រើសញ្ញា > < ="	
26	មេរៀនទី២ ការប្រៀបធៀបចំនួន "មើលតម្លៃលេខតាមខ្ទង់ដើម្បីកំណត់ចំនួនដែលធំជាង"	1
27	មេរៀនទី២ ការប្រៀបធៀបចំនួន "ប្រៀបធៀបចំនួនមានលេខ៣ខ្ទង់ដោយប្រើសញ្ញា > < ="	
28	មេរៀនទី២ ការប្រៀបធៀបចំនួន "ប្រៀបធៀបចំនួនដោយប្រើសញ្ញា > < = (លំហាត់)"	
29	មេរៀនទី២ ការប្រៀបធៀបចំនួន "រៀបលំដាប់ចំនួនមានលេខ២ខ្ទង់ពីតូចទៅធំ និងពីធំទៅតូច"	1
30	មេរៀនទី២ ការប្រៀបធៀបចំនួន "រៀបលំដាប់ចំនួនមានលេខ២ខ្ទង់ពីតូចទៅធំ និងពីធំទៅតូចមេរៀនទី២ ការប្រៀបធៀបចំនួន" (លំហាត់)	
31	មេរៀនទី២ ការប្រៀបធៀបចំនួន "រៀបលំដាប់ចំនួនមានលេខ៣ខ្ទង់ពីតូចទៅធំ និងពីធំទៅតូច"	
32	មេរៀនទី២ ការប្រៀបធៀបចំនួន "រៀបលំដាប់ចំនួនមានលេខ៣ខ្ទង់ពីតូចទៅធំ និងពីធំទៅតូច" (លំហាត់)	1
33	មេរៀនទី២ ការប្រៀបធៀបចំនួន "លំដាប់ទី១០ ដល់៥០"	
34	មេរៀនទី២ ការប្រៀបធៀបចំនួន "លំដាប់ទី ៥០ ដល់១០០"	
35	មេរៀនទី៣ វិធីបូកចំនួនមានលេខ២ខ្ទង់ "ការបូកចំនួនមានលេខ២ខ្ទង់នឹង១ខ្ទង់ដោយគ្មានត្រាទុក"	1
36	មេរៀនទី៣ វិធីបូកចំនួនមានលេខ២ខ្ទង់ "ការបូកចំនួនមានលេខ២ខ្ទង់នឹង១ខ្ទង់ដោយគ្មានត្រាទុក"(លំហាត់)	
37	មេរៀនទី៣ វិធីបូកចំនួនមានលេខ២ខ្ទង់ "ចំណោទ"	
38	មេរៀនទី៣ វិធីបូកចំនួនមានលេខ២ខ្ទង់ "ការបូកចំនួនមានលេខ២ខ្ទង់នឹង២ខ្ទង់ដោយគ្មានត្រាទុក"	1
39	មេរៀនទី៣ វិធីបូកចំនួនមានលេខ២ខ្ទង់ "ការបូកចំនួនមានលេខ២ខ្ទង់នឹង២ខ្ទង់ដោយគ្មានត្រាទុក" (លំហាត់)	

62	មេរៀនទី៥ វិធីគុណ "ការរាប់បន្ថែមម្តង ៥"	
63	មេរៀនទី៥ វិធីគុណ "លំហាត់សាឡើងវិញ"	
64	មេរៀនទី៥ វិធីគុណ "ការបូកនិងការគុណ"	
65	មេរៀនទី៥ វិធីគុណ "ការបូកនិងការគុណ"(លំហាត់)	1
66	មេរៀនទី៥ វិធីគុណ "ចំណោទ"	
67	មេរៀនទី៥ វិធីគុណ "ការគុណនឹង២"	
68	មេរៀនទី៥ វិធីគុណ "ការគុណនឹង៣"	1
69	មេរៀនទី៥ វិធីគុណ "ការគុណនឹង៤"	
70	មេរៀនទី៥ វិធីគុណ "ការគុណនឹង៥"	
71	មេរៀនទី៥ វិធីគុណ "ការគុណនឹង១"	1
72	មេរៀនទី៥ វិធីគុណ "ការគុណនឹង០"	
73	មេរៀនទី៥ វិធីគុណ "លក្ខណៈត្រឡប់នៃវិធីគុណ"	
74	មេរៀនទី៥ វិធីគុណ "លំហាត់អនុវត្ត"	1
75	មេរៀនទី៥ វិធីគុណ "ចំណោទ"	
76	មេរៀនទី៥ វិធីគុណ "ការគុណចំនួន១០នឹងលេខមួយខ្ទង់"	1
77	មេរៀនទី៥ វិធីគុណ "ការគុណចំនួនមានលេខពីរខ្ទង់នឹងមួយខ្ទង់ដោយគ្មានត្រាទុក"	
78	មេរៀនទី៦ ប្រភាគ "កន្លះ ឬមួយភាគពីរ"	
79	មេរៀនទី៦ ប្រភាគ "មួយភាគបី"	1
80	មេរៀនទី៦ ប្រភាគ "មួយភាគបួន"	
81	មេរៀនទី៧ វិធីចែក "ការរំលែកវត្ថុជាចំណែកស្មើគ្នា"	
82	មេរៀនទី៧ វិធីចែក "ការរៀបវត្ថុជាក្រុម"	1
83	មេរៀនទី៧ វិធីចែក "ការដកចំនួនដដែលៗនិងការរាប់បន្ថយ"	
84	មេរៀនទី៧ វិធីចែក "វិធីចែកគ្មានសំណល់"	1
85	មេរៀនទី៧ វិធីចែក "ការធ្វើប្រមាណវិធីចែក"	
ធមាសទី២		២២
1	មេរៀនទី៨ ប្រវែង "រៀនសាឡើងវិញ ប្រដាប់វាស់ប្រវែង" (លំហាត់)	
2	មេរៀនទី៨ ប្រវែង "រៀនសាឡើងវិញ ការវាស់ប្រវែងជាម៉ែត្រ" (ចំណោទ)	1
3	មេរៀនទី៩ ទង់ "ប្រាប់ពីទម្ងន់វត្ថុដោយប្រើពាក្យ ធ្ងន់ជាង ស្រាលជាង ស្មើ"	

4	មេរៀនទី៩ ទង្កន់ "ប្រាប់ឈ្មោះនៃប្រភេទជញ្ជីង"	
5	មេរៀនទី៩ ទង្កន់ "គឺឡូក្រាម"	1
6	មេរៀនទី៩ ទង្កន់ "ការឆ្លើងដោយប្រើខ្នាតគឺឡូក្រាម"	
7	មេរៀនទី៩ ទង្កន់ "ប្លឺងនិងប្រៀបធៀបទម្ងន់វត្ថុ"	
8	មេរៀនទី១០ ចំណុះ "លីត្រ"	1
9	មេរៀនទី១០ ចំណុះ "ការវាស់ចំណុះជាលីត្រ"	
10	មេរៀនទី១០ ចំណុះ "ប្រៀបធៀបចំណុះជាលីត្រ"	
11	មេរៀនទី១០ ចំណុះ "ការធ្វើប្រមាណវិធីបូកចំណុះដោយប្រើខ្នាតលីត្រ"	1
12	មេរៀនទី១០ ចំណុះ "ការធ្វើប្រមាណវិធីដកចំណុះដោយប្រើខ្នាតលីត្រ"	
13	មេរៀនទី១១ វិធីបូកចំនួនមានលេខ៣ខ្ទង់ "ការបូកចំនួនមានលេខ ៣ខ្ទង់នឹង ២ខ្ទង់គ្មានត្រាទុក"	
14	មេរៀនទី១១ វិធីបូកចំនួនមានលេខ៣ខ្ទង់ "ការបូកចំនួនមានលេខ ៣ខ្ទង់នឹង ៣ខ្ទង់គ្មានត្រាទុក"	1
15	មេរៀនទី១១ វិធីបូកចំនួនមានលេខ៣ខ្ទង់ "ចំណោទ"	
16	មេរៀនទី១១ វិធីបូកចំនួនមានលេខ៣ខ្ទង់ "ការបូកចំនួនមានលេខ ៣ខ្ទង់នឹង ២ខ្ទង់មានត្រាទុក"	
17	មេរៀនទី១១ វិធីបូកចំនួនមានលេខ៣ខ្ទង់ "ការបូកចំនួនមានលេខ ៣ខ្ទង់នឹង ៣ខ្ទង់មានត្រាទុក"	1
18	មេរៀនទី១១ វិធីបូកចំនួនមានលេខ៣ខ្ទង់ "ចំណោទ"	
19	មេរៀនទី១២ វិធីដកចំនួនមានលេខ៣ខ្ទង់នឹង២ខ្ទង់ "ការដកចំនួនមានលេខ ៣ខ្ទង់នឹង២ខ្ទង់ដោយគ្មានខ្ចី"	
20	មេរៀនទី១២ វិធីដកចំនួនមានលេខ៣ខ្ទង់នឹង២ខ្ទង់ "ការដកចំនួនមានលេខ ៣ខ្ទង់នឹង៣ខ្ទង់ដោយគ្មានខ្ចី"	
21	មេរៀនទី១២ វិធីដកចំនួនមានលេខ៣ខ្ទង់នឹង២ខ្ទង់ "ចំណោទ"	
22	មេរៀនទី១២ វិធីដកចំនួនមានលេខ៣ខ្ទង់នឹង២ខ្ទង់ "ការដកចំនួនមានលេខ ៣ខ្ទង់នឹង២ខ្ទង់ដោយមានខ្ចី"	1
23	មេរៀនទី១២ វិធីដកចំនួនមានលេខ៣ខ្ទង់នឹង២ខ្ទង់ "ការដកចំនួនមានលេខ ៣ខ្ទង់នឹង៣ខ្ទង់ដោយមានខ្ចី"	
24	មេរៀនទី១២ វិធីដកចំនួនមានលេខ៣ខ្ទង់នឹង២ខ្ទង់ "ចំណោទ"	
25	មេរៀនទី១៣ រូបិយវត្ថុ "ក្រដាសប្រាក់រៀល"	1

26	មេរៀនទី១៣ រូបិយវត្ថុ "ការប្តូរក្រដាសប្រាស់"	
27	មេរៀនទី១៣ រូបិយវត្ថុ "ការទិញ លក់ និងការអាប់"	
28	មេរៀនទី១៣ រូបិយវត្ថុ "ចំណោទ"	
29	មេរៀនទី១៤ ធរណីមាត្រ "រូបធរណីមាត្រដែលមានវិមាត្រពីរ"	1
30	មេរៀនទី១៤ ធរណីមាត្រ "អង្កត់ បន្ទាត់"	
31	មេរៀនទី១៤ ធរណីមាត្រ "គូររូបធរណីមាត្រមានវិមាត្រពីរ"	
32	មេរៀនទី១៤ ធរណីមាត្រ "ប្រៀបធៀបទំហំរូបធរណីមាត្រ"	1
33	មេរៀនទី១៤ ធរណីមាត្រ "រូបធរណីមាត្រមានវិមាត្របី"	
34	មេរៀនទី១៤ ធរណីមាត្រ "ការគូររូបធរណីមាត្រមានវិមាត្របី(គូប)"	
35	មេរៀនទី១៤ ធរណីមាត្រ "ការគូររូបធរណីមាត្រមានវិមាត្របី(ប្រលេពីប៉ែតកែង)"	1
36	មេរៀនទី១៤ ធរណីមាត្រ "គូររូបធរណីមាត្រមានវិមាត្របី(ស៊ីឡាំង)"	
37	មេរៀនទី១៤ ធរណីមាត្រ "ការតាងរូបវត្ថុដែលមានវិមាត្របីងាយៗ"	
38	មេរៀនទី១៤ ធរណីមាត្រ "មុខនៃរូបធរណីមាត្រមានវិមាត្របី"	1
39	មេរៀនទី១៥ ពេលវេលា "ការអានម៉ោងដោយប្រើនាឡិកា"	
40	មេរៀនទី១៥ ពេលវេលា "ការអានម៉ោងកន្លះ"	
41	មេរៀនទី១៥ ពេលវេលា "ប្រាប់ពេលវេលាតាមព្រឹត្តិការណ៍"	1
42	មេរៀនទី១៥ ពេលវេលា "ប្រើម៉ោងក្នុងជីវភាពប្រចាំថ្ងៃ"	
43	មេរៀនទី១៥ ពេលវេលា "រឿងកថាមួយសប្តាហ៍"	
44	មេរៀនទី១៥ ពេលវេលា "រឿងកថាមួយឆ្នាំ"	1
45	មេរៀនទី១៥ ពេលវេលា "ការរាប់ចំនួនថ្ងៃ និងខែនីមួយៗដោយប្រើកណ្តាប់ដៃ"	
46	មេរៀនទី១៥ ពេលវេលា "ការប្រើប្រាស់ប្រតិទិន"	
47	មេរៀនទី១៥ ពេលវេលា "ចំណោទ"	1
48	មេរៀនទី១៥ ពេលវេលា "ចំណោទ"	
49	មេរៀនទី១៦ ទិន្នន័យ "ការប្រមូលទិន្នន័យពីប្រភពមួយ"	
50	មេរៀនទី១៦ ទិន្នន័យ "ការសង់ក្រាប និងបកស្រាយទិន្នន័យ"	1
51	មេរៀនទី១៦ ទិន្នន័យ "ទិន្នន័យជាក្រាបរូបភាព"	
52	មេរៀនទី១៦ ទិន្នន័យ "ការប្រមូលទិន្នន័យពីប្រភពពីរ"	
53	មេរៀនទី១៦ ទិន្នន័យ "ការប្រមូលទិន្នន័យពីប្រភពពីរ" (លំហាត់)	1

54	មេរៀនទី១៦ ទិន្នន័យ "ការសង់ក្រាប និងបកស្រាយទិន្នន័យពីភពច្រើន"	
55	មេរៀនទី១៦ ទិន្នន័យ "ការសង់ក្រាប និងបកស្រាយ ទិន្នន័យពីភពច្រើន" (លំហាត់)	1
56	មេរៀនទី១៦ ទិន្នន័យ "ទិន្នន័យជាក្រាបរូបភាព"	
57	មេរៀនទី១៦ ទិន្នន័យ "ទិន្នន័យជាក្រាបរូបភាព" (លំហាត់)	
58	មេរៀនទី១៦ ទិន្នន័យ "ការសង់ក្រាបនិងបកស្រាយក្រាបរូបភាពដែលប្រើទិន្នន័យច្រើន"	1
59	មេរៀនទី១៦ ទិន្នន័យ "ការសង់ក្រាបនិងបកស្រាយក្រាបរូបភាពដែលប្រើទិន្នន័យ ច្រើន" (លំហាត់)	
60	មេរៀនទី១៧ លំនាំគំរូ "ប្រាប់អំពីលំនាំគំរូដោយប្រើរូប និងវត្ថុពិត"	
61	មេរៀនទី១៧ លំនាំគំរូ "លំនាំគំរូតាមរូប"	1
62	មេរៀនទី១៧ លំនាំគំរូ "លំនាំគំរូតាមរូប" (លំហាត់)	
63	មេរៀនទី១៧ លំនាំគំរូ "លំនាំគំរូតាមទំហំ"	
64	មេរៀនទី១៧ លំនាំគំរូ "លំនាំគំរូតាមទំហំ" (លំហាត់)	1
65	មេរៀនទី១៧ លំនាំគំរូ "លំនាំគំរូតាមពណ៌"	
66	មេរៀនទី១៧ លំនាំគំរូ "លំនាំគំរូតាមពណ៌" (លំហាត់)	
67	មេរៀនទី១៧ លំនាំគំរូ "លំនាំគំរូតាមចំនួន"	1
68	មេរៀនទី១៧ លំនាំគំរូ "លំនាំគំរូតាមចំនួន" (លំហាត់)	
69	មេរៀនទី១៧ លំនាំគំរូ "ការបំពេញ និងបង្កើតលំនាំគំរូតាមចំនួន"	