



ក្រសួងអប់រំ យុវជន និងកីឡា
នាយកដ្ឋានបឋមសិក្សា

កម្រងទឹកដូកាវដ្ឋៈ

គណិតវិទ្យា


ថ្នាក់ទី១

ឆ្នាំ២០២១




សម្ភាសន៍


៤. ចូររង់លើអក្សរនៃរូបដែលតូចជាងគេ (២ពិន្ទុ)



៥. ចូរគូស ក្នុង នៃរូបដែលតិចជាងគេ (២ពិន្ទុ)



ក.



ខ.



គ.

៦. ចូរគូស ក្នុង នៃរូបដែលច្រើនជាងគេ (២ពិន្ទុ)



ក.



ខ.



គ.



សាលាបឋមសិក្សា.....

ឈ្មោះសិស្ស.....

កិច្ចការផ្ទះ

គណិតវិទ្យា ថ្នាក់ទី១

មេរៀនទី១ "ទំហំ" និងមេរៀនទី២ "ទីតាំង"

១. ចូររង់លើអក្សរនៃរូបដែលមានផ្ទៃប៉ោម (១ពិន្ទុ)




ក



ខ

២. ចូររង់លើអក្សរនៃរូបដែលគ្មានស្ករគ្រាប់ (១ពិន្ទុ)



ក



ខ

៣. ចូររង់លើអក្សរនៃរូបដែលនៅក្នុង (២ពិន្ទុ)



ក



ខ



គ

៤. ចូរគូស ✓ ក្នុង នៃរូបដែលនៅក្រៅ (២ពិន្ទុ)



ក.



ខ.



គ.


៥. ចូរគូស ✓ ក្នុង នៃរូបដែលមានចំនួនតិចជាងគេ (២ពិន្ទុ)



ក.




ខ.




គ.


៦. ចូរគូស ✓ ក្នុង នៃរូបដែលធំជាងគេ (២ពិន្ទុ)



ក.



ខ.




គ.



សាលាបឋមសិក្សា.....
ឈ្មោះសិស្ស.....

កិច្ចការផ្ទះ
គណិតវិទ្យា ថ្នាក់ទី១
មេរៀនទី២ “ទីតាំង”


១. ចូររង់លើអក្សរនៃរូបដែលនៅខាងស្តាំ (២ពិន្ទុ)



២. ចូររង់លើអក្សរនៃរូបដែលនៅខាងឆ្វេង (២ពិន្ទុ)



៣. ចូររង់លើអក្សរនៃរូបដែលនៅកណ្តាល (២ពិន្ទុ)





សាលាបឋមសិក្សា.....
ឈ្មោះសិស្ស.....

កិច្ចការផ្ទះ
គណិតវិទ្យា ថ្នាក់ទី១
មេរៀនទី៣ "ចំនួន ១ ដល់ ៥"

១. ចូររង់លេខតាងចំនួននៃរូបខាងក្រោម (២ពិន្ទុ)

ក.



១ ២ ៣


ខ.



១ ២ ៣

២. ចូររង់លើរូបតាមចំនួនដែលគេចង់បាន (២ពិន្ទុ)

ក. ចំនួន១




ខ. ចំនួន២



៣. ចូរផ្គូផ្គងចំនួនទៅនឹងលេខ (២ពិន្ទុ)



១



២

៤. ចូរសរសេរលេខតាងចំនួនខាងក្រោម (២ពិន្ទុ)

ក.



ខ.




.....


.....

៥. ចូរសរសេរលេខតាងចំនួនខាងក្រោម (២ពិន្ទុ)

ក.



ខ.



.....

.....




សាលាបឋមសិក្សា.....
 ឈ្មោះសិស្ស.....

កិច្ចការផ្ទះ
គណិតវិទ្យា ថ្នាក់ទី១
មេរៀនទី៣ "ចំនួន ១ ដល់ ៥"


១. ចូររង់លេខតាងចំនួនខាងក្រោម (២ពិន្ទុ)

ក.



១ ៣ ៤


ខ.



២ ៣ ៤

២. ចូររង់លើរូបតាមចំនួនដែលគេចង់បាន (២ពិន្ទុ)


ក.ចំនួន៣



ខ.ចំនួន៤



៣. ចូរផ្គូផ្គងចំនួនទៅនឹងលេខ (២ពិន្ទុ)



៣



៤

រៀបចំដោយ៖ នាយកដ្ឋានបឋមសិក្សា


៤. ចូរសរសេរលេខតាងចំនួនខាងក្រោម (២ពិន្ទុ)

ក.



.....


ខ.



.....


៥. ចូរសរសេរលេខតាងចំនួនខាងក្រោម (២ពិន្ទុ)

ក.



.....

ខ.




.....



សាលាបឋមសិក្សា.....
 ឈ្មោះសិស្ស.....


កិច្ចការផ្ទះ
គណិតវិទ្យា ថ្នាក់ទី១
មេរៀនទី៣ "ចំនួន ១ ដល់ ៥"

១. ចូររង់លេខតាងចំនួនខាងក្រោម (២ពិន្ទុ)




២ ៤ ៥

២. ចូររង់លើរូបឱ្យបានចំនួន៥ (២ពិន្ទុ)



៣. ចូរសរសេរលេខតាងចំនួនខាងក្រោម (២ពិន្ទុ)



.....

៤. ចូរបំពេញចំនួនក្នុង តាមលំដាប់ខាងក្រោម (២ពិន្ទុ)

១	២		៤	
---	---	--	---	--

៥. ចូររៀបលំដាប់ចំនួនពីតូចទៅធំ (២ពិន្ទុ)

២ ៥ ៤ ១ ៣

លំដាប់ចំនួនពីតូចទៅធំ:



សាលាបឋមសិក្សា.....
 ឈ្មោះសិស្ស.....

កិច្ចការផ្ទះ

គណិតវិទ្យា ថ្នាក់ទី១

មេរៀនទី៣ “ចំនួន ១ ដល់ ៥” ដល់មេរៀនទី៤ “ចំនួន ០ ដល់ ១០”

១. ចូររង់លើលេខសូន្យ (១ពិន្ទុ)

៣ ១ ០

២. ចូរសរសេរលេខសូន្យ (១ពិន្ទុ)

.....

៣. ចូរបំពេញចំនួនក្នុង ០ តាមលំដាប់ខាងក្រោម (២ពិន្ទុ)



៥	៤		២	
---	---	--	---	--

៤. ចូររៀបលំដាប់ចំនួនពីធំទៅតូច (២ពិន្ទុ)

៣ ១ ៥ ៤ ២

លំដាប់ចំនួនពីតូចទៅធំ:

៥. ចូរសរសេរលេខតាងចំនួន រួចរៀបលំដាប់ចំនួនពីតូចទៅធំ (៤ពិន្ទុ)



.....

.....

.....

.....

.....

រៀបលំដាប់ចំនួនពីតូចទៅធំ :



សាលាបឋមសិក្សា.....
 ឈ្មោះសិស្ស.....

កិច្ចការផ្ទះ
គណិតវិទ្យា ថ្នាក់ទី១
មេរៀនទី៤ "ចំនួន ០ ដល់ ១០"


១. ចូររង់លេខតាងចំនួន (២ពិន្ទុ)

ក.



៥ ៦ ៧


ខ.




៤ ៦ ៧

២. ចូររង់លើរូបតាមចំនួនដែលគេចង់បាន (២ពិន្ទុ)

ក. ចំនួន៦

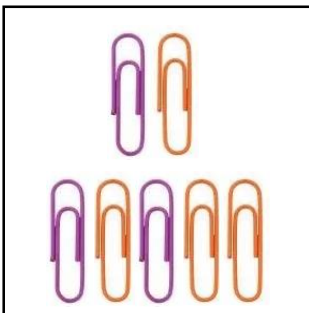


ខ. ចំនួន៧




៣. ចូរសរសេរលេខតាងចំនួន (២ពិន្ទុ)

ក.




.....

ខ.



.....

៤. ចូរផ្គូផ្គងចំនួនទៅនឹងលេខ (២ពិន្ទុ)




៧

៥

៦


៥. ចូរសរសេរលេខតាងចំនួន (២ពិន្ទុ)

ក.



.....

ខ.



.....




សាលាបឋមសិក្សា.....
 ឈ្មោះសិស្ស.....

កិច្ចការផ្ទះ
គណិតវិទ្យា ថ្នាក់ទី១
មេរៀនទី៤ "ចំនួន ០ ដល់ ១០"


១. ចូររង់លេខតាងចំនួន (២ពិន្ទុ)

ក.



៥ ៨ ៩


ខ.




៦ ៨ ៩

២. ចូររង់លើរូបតាមចំនួនដែលគេចង់បាន (២ពិន្ទុ)

ក. ចំនួន៨



ខ. ចំនួន៩




៣. ចូរសរសេរលេខតាងចំនួន (២ពិន្ទុ)

ក.





ខ.



.....

.....

៤. ចូរផ្គូផ្គងចំនួនទៅនឹងលេខ (២ពិន្ទុ)



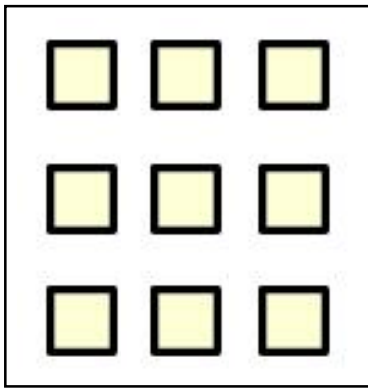
៧

៨

៩

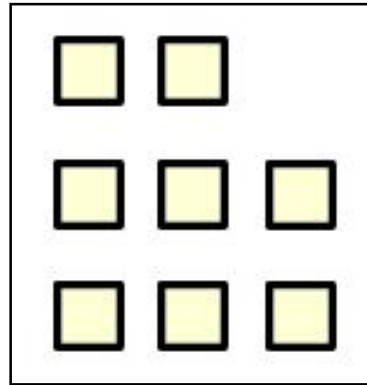
៥. ចូរសរសេរលេខតាងចំនួនការ (២ពិន្ទុ)

ក.



.....

ខ.



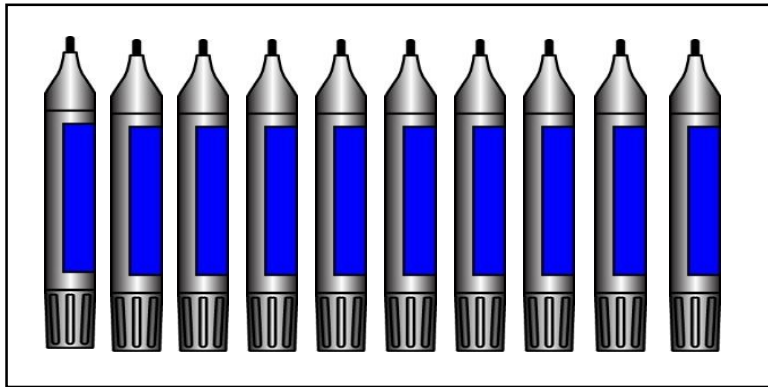
.....



សាលាបឋមសិក្សា.....
 ឈ្មោះសិស្ស.....


កិច្ចការផ្ទះ
គណិតវិទ្យា ថ្នាក់ទី១
មេរៀនទី៤ "ចំនួន ០ ដល់ ១០"

១. ចូររង់លេខតាងចំនួន (២ពិន្ទុ)




៨ ៩ ១០


២. ចូរគូស ក្នុង នៃរូបដែលមានចំនួន១០ (២ពិន្ទុ)



ក



ខ




គ

៣. ចូររង់លើរូបឱ្យបានចំនួន១០ (២ពិន្ទុ)



៤. ចូរសរសេរលេខតាងចំនួន (២ពិន្ទុ)



.....

៥. ចូរបំពេញចំនួនក្នុង □ តាមលំដាប់ (២ពិន្ទុ)

១	២		៤		៦	៧		៩	
---	---	--	---	--	---	---	--	---	--



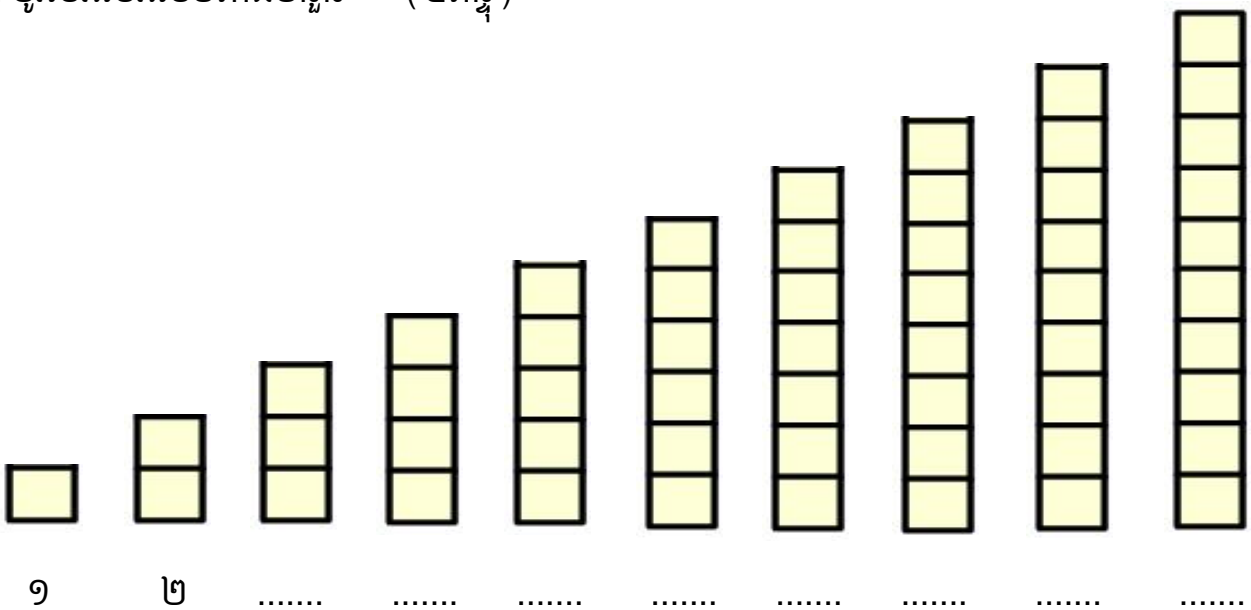
សាលាបឋមសិក្សា.....
 ឈ្មោះសិស្ស.....

កិច្ចការផ្ទះ

គណិតវិទ្យា ថ្នាក់ទី១

មេរៀនទី៤ “ចំនួន ០ ដល់ ១០” ដល់មេរៀនទី៥ “ការប្រៀបធៀបចំនួន”

១. ចូរសរសេរលេខតាងចំនួន (៤ពិន្ទុ)



២. ចូរប្រៀបធៀបចំនួនដោយប្រើសញ្ញា < > ឬ = ក្នុង □ (២ពិន្ទុ)

ក.

ខ.

៣

២

៤

៦

៣. ចូរប្រៀបធៀបចំនួនដោយប្រើសញ្ញា < > ឬ = ក្នុង (៤ពិន្ទុ)

ក. ៤ ៤

ខ. ៧ ៥

គ. ៨ ១០

ឃ. ៦ ៦



សាលាបឋមសិក្សា.....
 ឈ្មោះសិស្ស.....

កិច្ចការផ្ទះ
គណិតវិទ្យា ថ្នាក់ទី១
មេរៀនទី៥ “ការប្រៀបធៀបចំនួន”

១. ចូរប្រៀបធៀបចំនួនដោយប្រើសញ្ញា $<$ $>$ ឬ $=$ ក្នុង (៣ពិន្ទុ)

ក. ២ ៤

ខ. ៧ ៦

គ. ៥ ៥

ឃ. ៨ ៥

ង. ៩ ១០

ច. ៩ ៨

២. ចូរបំពេញចំនួនក្នុង តាមលំដាប់ (២ពិន្ទុ)

៣	៤		៦			៩	
---	---	--	---	--	--	---	--

៣. ចូរប្រៀបលំដាប់ចំនួនពីតូចទៅធំ (២,៥ពិន្ទុ)

៥ ៣ ៩ ៧ ៤

-លំដាប់ចំនួនពីតូចទៅធំ:

៤. ចូរប្រៀបលំដាប់ចំនួនពីធំទៅតូច (២,៥ពិន្ទុ)

៦ ១ ៨ ១០ ២

-លំដាប់ចំនួនពីធំទៅតូច:




សាលាបឋមសិក្សា.....
 ឈ្មោះសិស្ស.....

កិច្ចការផ្លូវ៖
គណិតវិទ្យា ថ្នាក់ទី១

មេរៀនទី៥ “ការប្រៀបធៀបចំនួន”

១. ចូរសង្កេតមើលរូប រួចបំពេញលំដាប់ទីក្នុងចន្លោះខាងក្រោម (២,៥ពិន្ទុ)



- រូប ច នៅលំដាប់ទី ១
- រូប ខ នៅលំដាប់ទី.....
- រូប គ នៅលំដាប់ទី.....
- រូប ក នៅលំដាប់ទី.....
- រូប ឃ នៅលំដាប់ទី.....
- រូប ឆ នៅលំដាប់ទី.....

២. ចូររៀបលំដាប់ចំនួនពីតូចទៅធំ (២,៥ពិន្ទុ)

៤ ៦ ៨ ១០ ៧

-លំដាប់ចំនួនពីតូចទៅធំ:

៣. ចូររៀបលំដាប់ចំនួនពីធំទៅតូច (២,៥ពិន្ទុ)

៤ ៥ ១០ ៩ ៣

-លំដាប់ចំនួនពីធំមកតូច:

៤. ចូរសរសេរលំដាប់ទីបន្តបន្ទាប់គ្នាក្នុង □ (២,៥ពិន្ទុ)

ទី

ថ្ងៃ

១០	៩			៦			៣		១
----	---	--	--	---	--	--	---	--	---

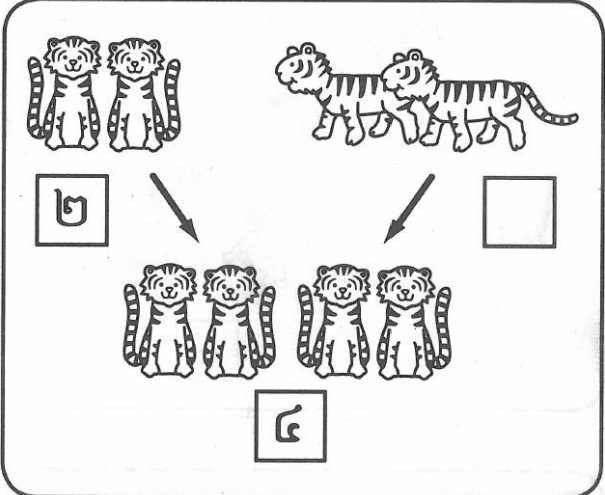


សាលាបឋមសិក្សា.....
 ឈ្មោះសិស្ស.....


កិច្ចការផ្ទះ
គណិតវិទ្យា ថ្នាក់ទី១
មេរៀនទី៦ "វិធីបូក និងវិធីដក"

១. ចូរបំពេញចំនួនក្នុង ខាងក្រោម (៦ពិន្ទុ)

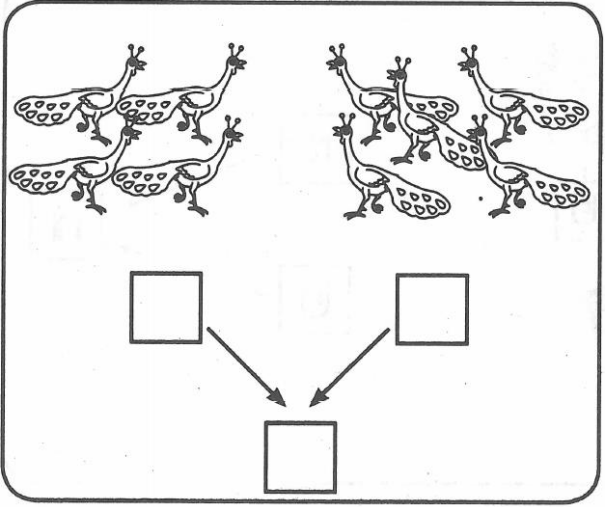
ក.




ខ.



គ.

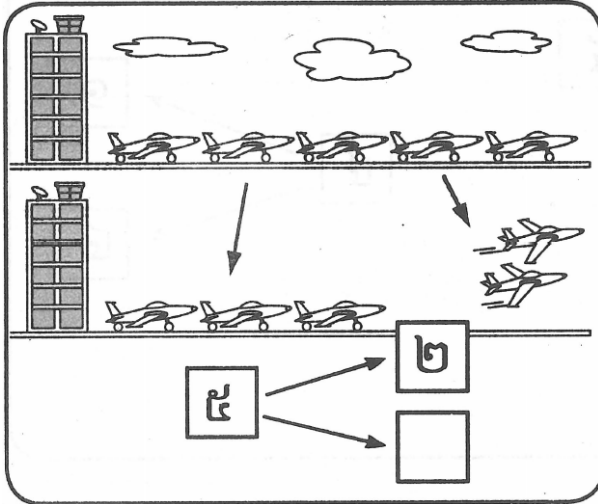


ឃ.

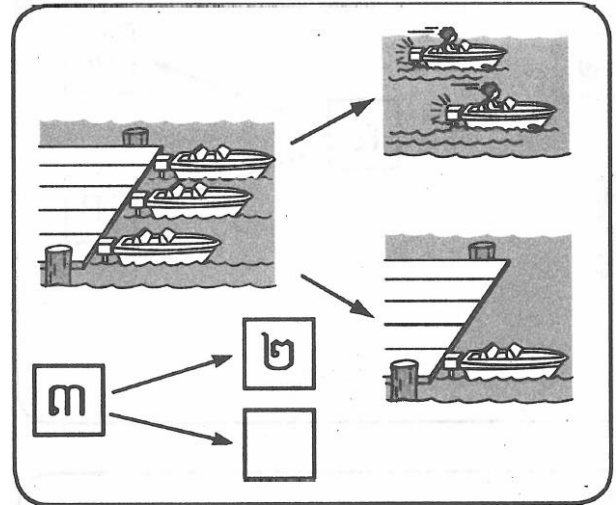


២. ចូរបំពេញចំនួនក្នុង □ ខាងក្រោម (៤ពិន្ទុ)

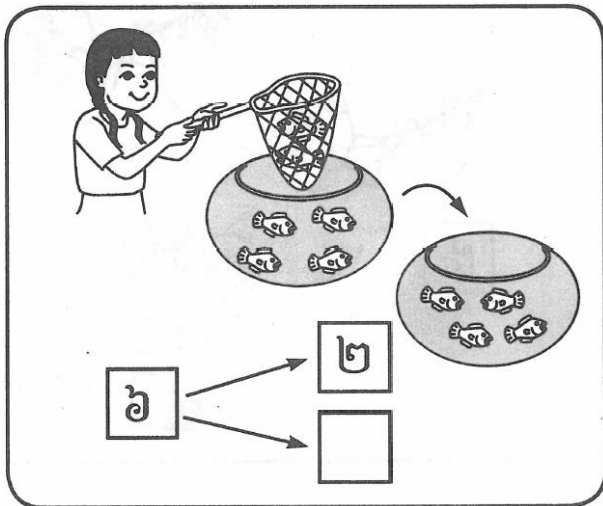
ក.



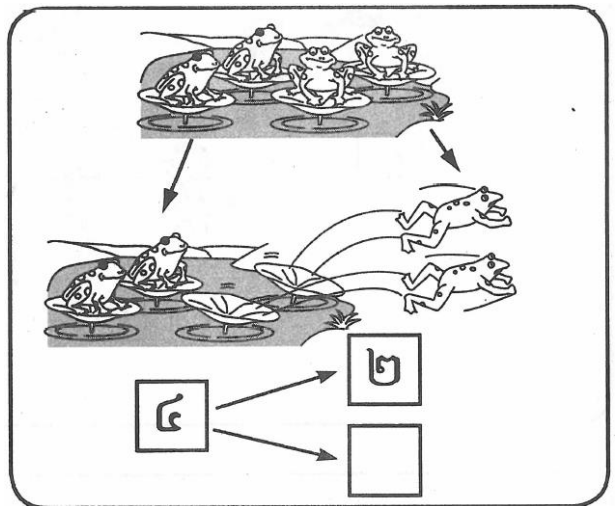
ខ.



គ.



ឃ.






សាលាបឋមសិក្សា.....
 ឈ្មោះសិស្ស.....

កិច្ចការផ្ទះ
គណិតវិទ្យា ថ្នាក់ទី១

មេរៀនទី៧ “វិធីបូក វិធីដកចំនួនដែលមានលេខ ១ខ្ទង់”

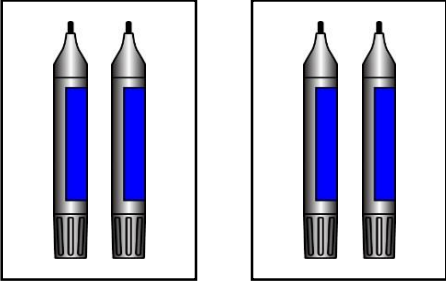
១. ចូររកផលបូកខាងក្រោម (៣ពិន្ទុ)

ក.




$២ + ១ =$

ខ.




$២ + ២ =$


គ.



$$\begin{array}{r}
 + \quad ៣ \\
 \quad ២ \\
 \hline
 \square
 \end{array}$$

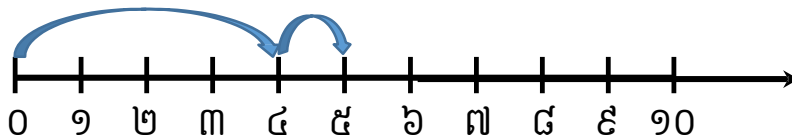
២. ចូរបំពេញចំនួនក្នុង តាមរូបខាងក្រោម (១ពិន្ទុ)





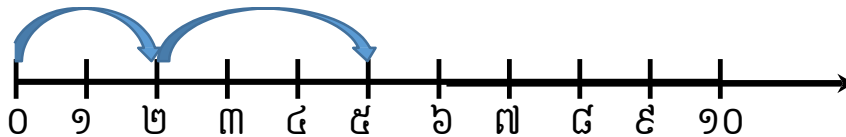
$3 + \square = \square$

៣. ចូរបំពេញចំនួនក្នុង តាមបន្ទាត់ចំនួន (១ពិន្ទុ)



$$4 + 9 = \square$$

៤. ចូរបំពេញចំនួនក្នុង តាមបន្ទាត់ចំនួន (១ពិន្ទុ)



$$\square + \square = \square$$

៥. ចូររកផលបូកខាងក្រោម (៤ពិន្ទុ)

ក. $9 + 3 = \dots\dots\dots$

ខ. $9 + 4 = \dots\dots\dots$

គ. $4 + 0 = \dots\dots\dots$

ឃ. $5 + 0 = \dots\dots\dots$




សាលាបឋមសិក្សា.....
 ឈ្មោះសិស្ស.....

កិច្ចការផ្ទះ
គណិតវិទ្យា ថ្នាក់ទី១

មេរៀនទី៧ “វិធីបូក វិធីដកចំនួនដែលមានលេខ ១ខ្ទង់”


១. ចូររកផលដកខាងក្រោម (២ពិន្ទុ)

ក.




$4 - 3 = \dots\dots$

ខ.



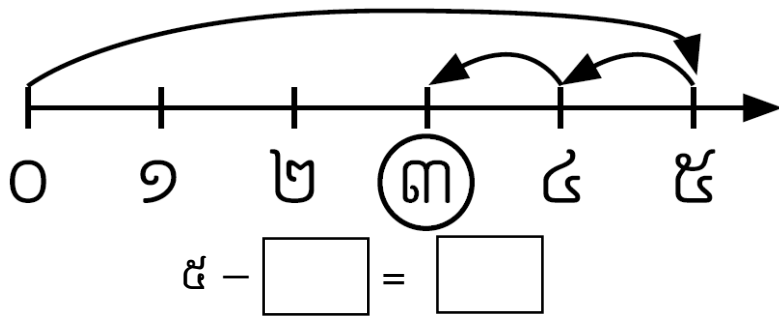
$3 - 1 = \dots\dots$

២. ចូរបំពេញចំនួនក្នុង តាមរូបខាងក្រោម (១ពិន្ទុ)

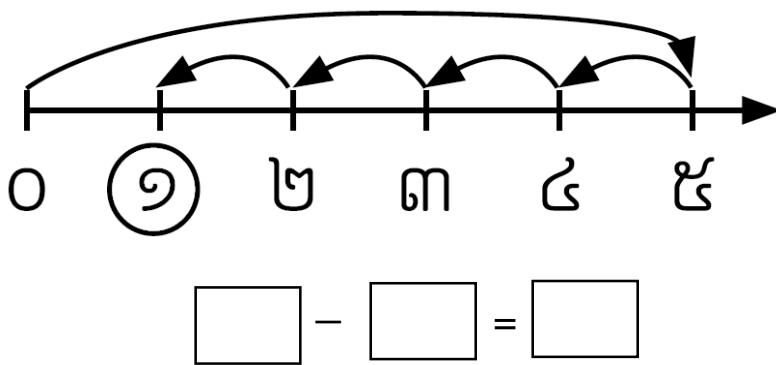


$4 - \square = \square$

៣. ចូរបំពេញចំនួនក្នុង តាមបន្ទាត់ចំនួន (១ពិន្ទុ)



៤. ចូរបំពេញចំនួនក្នុង តាមបន្ទាត់ចំនួន (២ពិន្ទុ)



៥. ចូររកផលដកខាងក្រោម (៤ពិន្ទុ)

ក. $5 - 3 = \dots\dots\dots$

ខ. $5 - 5 = \dots\dots\dots$

គ. $4 - 0 = \dots\dots\dots$

ឃ. $5 - 0 = \dots\dots\dots$



សាលាបឋមសិក្សា.....
 ឈ្មោះសិស្ស.....

កិច្ចការផ្ទះ
គណិតវិទ្យា ថ្នាក់ទី១

មេរៀនទី៧ “វិធីបូក វិធីដកចំនួនដែលមានលេខ ១ខ្ទង់”


១. ចូររកផលបូកខាងក្រោម (៣ពិន្ទុ)

ក.



$3 + 3 = \square$


ខ.



$4 + 2 = \square$

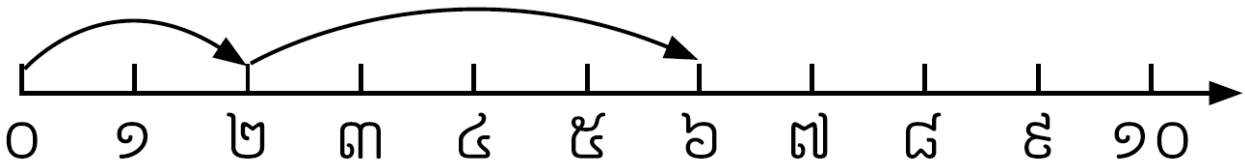
គ.

២. ចូរបំពេញចំនួនក្នុង តាមរូបខាងក្រោម (២ពិន្ទុ)



$$៤ + \boxed{} = \boxed{}$$

៣. ចូរបំពេញចំនួនក្នុង តាមបន្ទាត់ចំនួន (២ពិន្ទុ)



$$២ + \boxed{} = \boxed{}$$

៥. ចូរបំពេញចំនួនក្នុង ខាងក្រោម (៣ពិន្ទុ)

ក. $១ + ៥ = \boxed{}$

ខ. $២ + \boxed{} = ៦$

គ.

$$\begin{array}{r} ៣ \\ + \\ \boxed{} \\ \hline ៦ \end{array}$$




សាលាបឋមសិក្សា.....
 ឈ្មោះសិស្ស.....

កិច្ចការផ្ទះ
គណិតវិទ្យា ថ្នាក់ទី១

មេរៀនទី៧ “វិធីបូក វិធីដកចំនួនដែលមានលេខ ១ខ្ទង់”


១. ចូររកផលដកខាងក្រោម (២ពិន្ទុ)

ក.



$៦ - ១ = \dots\dots\dots$

ខ.



$៦ - ៤ = \dots\dots\dots$


២. ចូរបំពេញចំនួនក្នុង ខាងក្រោម (២ពិន្ទុ)

ក.



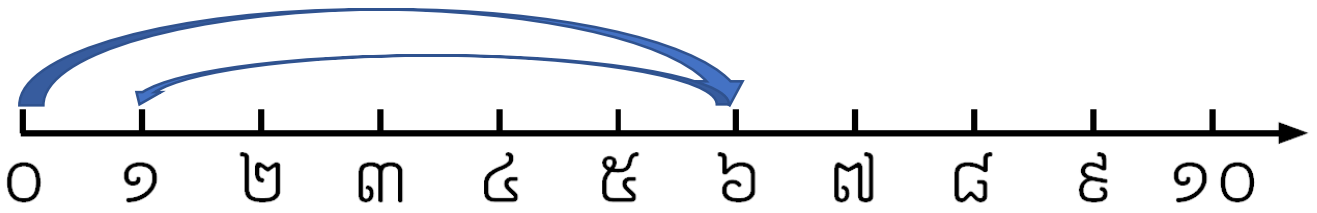
$៦ - \boxed{} = \boxed{}$

ខ.



$\boxed{} - \boxed{} = \boxed{}$

៣. ចូរបំពេញចំនួនក្នុង តាមបន្ទាត់ចំនួន (២ពិន្ទុ)



$$6 - \square = \square$$

៤. ចូររកផលដកខាងក្រោម (៤ពិន្ទុ)

ក. $6 - 0 = \dots\dots\dots$

ខ.

$$\begin{array}{r} 6 \\ - 6 \\ \hline \dots\dots\dots \end{array}$$




សាលាបឋមសិក្សា.....
 ឈ្មោះសិស្ស.....

កិច្ចការផ្ទះ
គណិតវិទ្យា ថ្នាក់ទី១

មេរៀនទី៧ “វិធីបូក វិធីដកចំនួនដែលមានលេខ ១ខ្ទង់”


១. ចូររកផលបូកខាងក្រោម (២ពិន្ទុ)


ក.



៦ + ១ =

ខ.





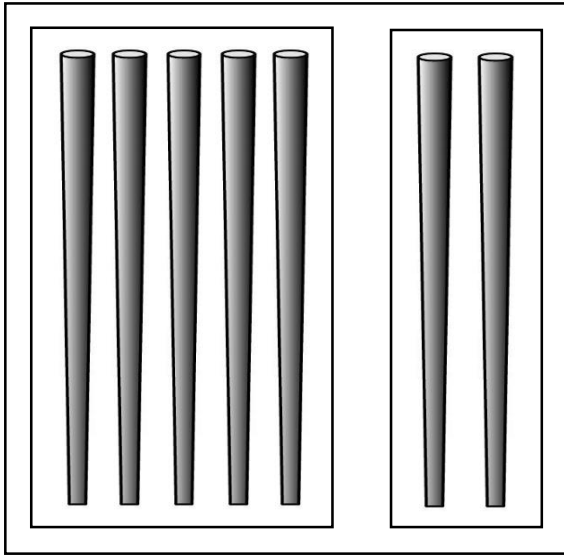
+

៣

៤

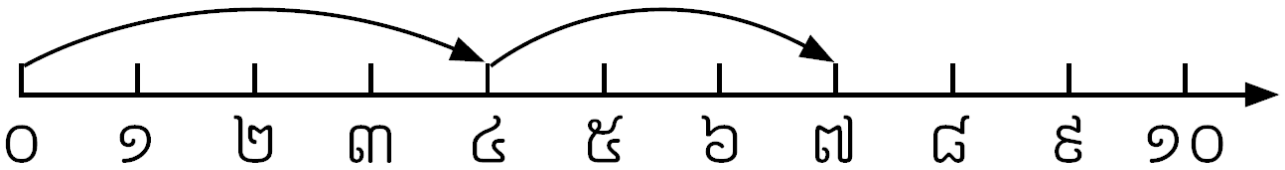
.....

២. ចូរបំពេញចំនួនក្នុង ខាងក្រោម (២ពិន្ទុ)



$$៥ + \boxed{} = \boxed{}$$

៣. ចូរបំពេញចំនួនក្នុង តាមបន្ទាត់ចំនួន (២ពិន្ទុ)



$$៤ + \boxed{} = \boxed{}$$

៤. ចូរបំពេញចំនួនក្នុង ខាងក្រោម (៤ពិន្ទុ)

ក. $៧ + ០ = \boxed{}$

ខ.

$$\begin{array}{r} 9 \\ + \\ \boxed{} \\ \hline 7 \end{array}$$




សាលាបឋមសិក្សា.....
 ឈ្មោះសិស្ស.....

កិច្ចការផ្ទះ
គណិតវិទ្យា ថ្នាក់ទី១

មេរៀនទី៧ "វិធីបូក វិធីដកចំនួនដែលមានលេខ ១ខ្ទង់"


១. ចូររកផលដកខាងក្រោម (២ពិន្ទុ)

ក.



៧ - ២ =

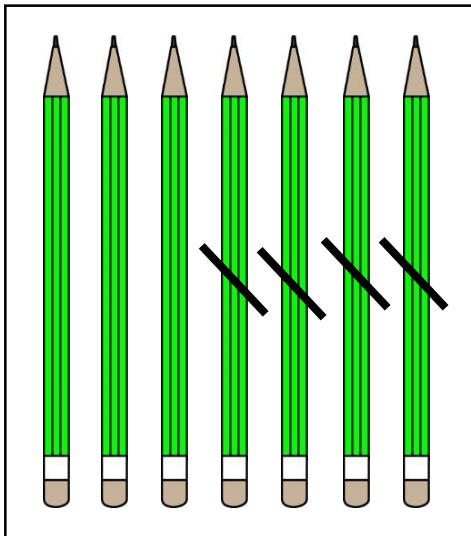
ខ.



៧ - ១ =


២. ចូរបំពេញចំនួនក្នុង ខាងក្រោម (២ពិន្ទុ)

ក.



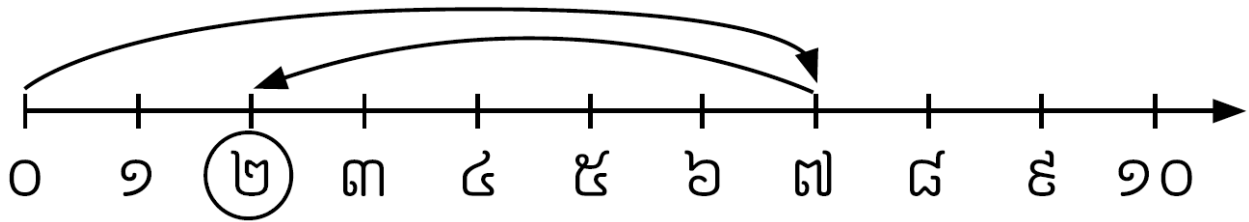
- ៤ =

ខ.



- =

៣. ចូរបំពេញចំនួនក្នុង តាមបន្ទាត់ចំនួន (២ពិន្ទុ)



$$៧ - \square = \square$$

៤. ចូររកផលដកខាងក្រោម (៤ពិន្ទុ)

ក. $៧ - ៦ = \dots\dots\dots$

ខ.

$$\begin{array}{r} ៧ \\ - ៧ \\ \hline \dots\dots\dots \end{array}$$




សាលាបឋមសិក្សា.....
 ឈ្មោះសិស្ស.....

កិច្ចការផ្ទះ
គណិតវិទ្យា ថ្នាក់ទី១

មេរៀនទី៧ “វិធីបូក វិធីដកចំនួនដែលមានលេខ ១ខ្ទង់”

១. ចូររកផលបូកខាងក្រោម (២ពិន្ទុ)

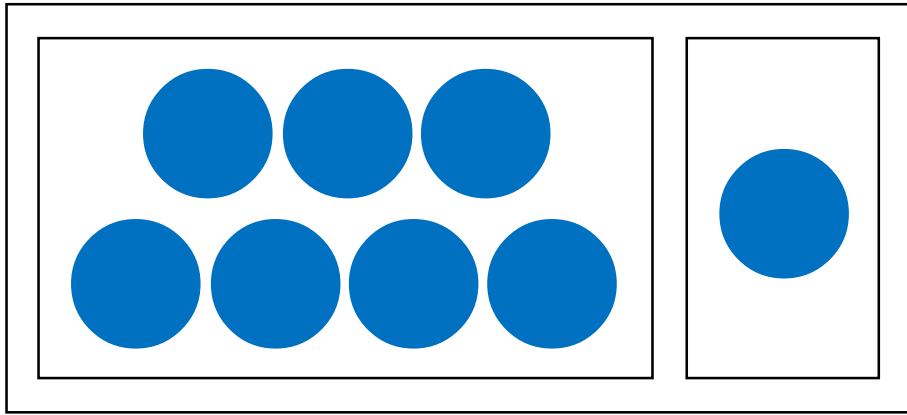
ក.



៦ + ២ =

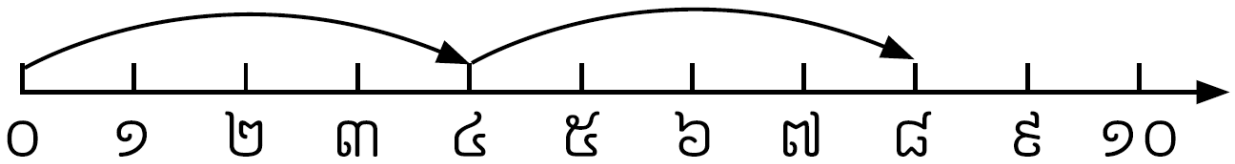
ខ.

២. ចូរបំពេញចំនួនក្នុង ខាងក្រោម (២ពិន្ទុ)



$$៧ + \boxed{} = \boxed{}$$

៣. ចូរបំពេញចំនួនក្នុង តាមបន្ទាត់ចំនួន (២ពិន្ទុ)



$$៤ + \boxed{} = \boxed{}$$

៤. ចូរបំពេញចំនួនក្នុង ខាងក្រោម (៤ពិន្ទុ)

ក. $៨ + ០ = \boxed{}$

ខ.

$$\begin{array}{r} ៣ \\ + \\ \hline ៨ \end{array}$$




សាលាបឋមសិក្សា.....
 ឈ្មោះសិស្ស.....

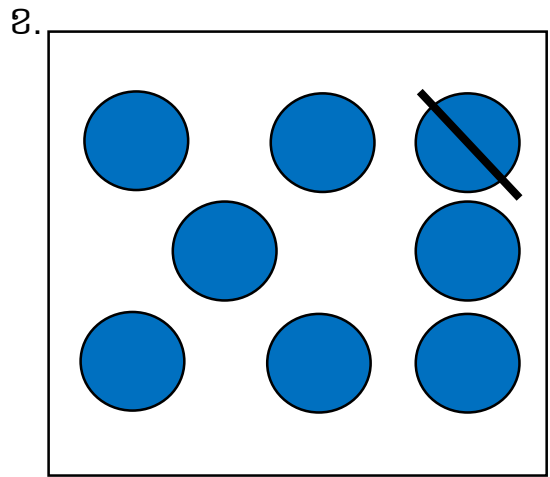
កិច្ចការផ្ទះ
គណិតវិទ្យា ថ្នាក់ទី១

មេរៀនទី៧ “វិធីបូក វិធីដកចំនួនដែលមានលេខ ១ខ្ទង់”

១. ចូររកផលដកខាងក្រោម (២ពិន្ទុ)




៨ - ២ =



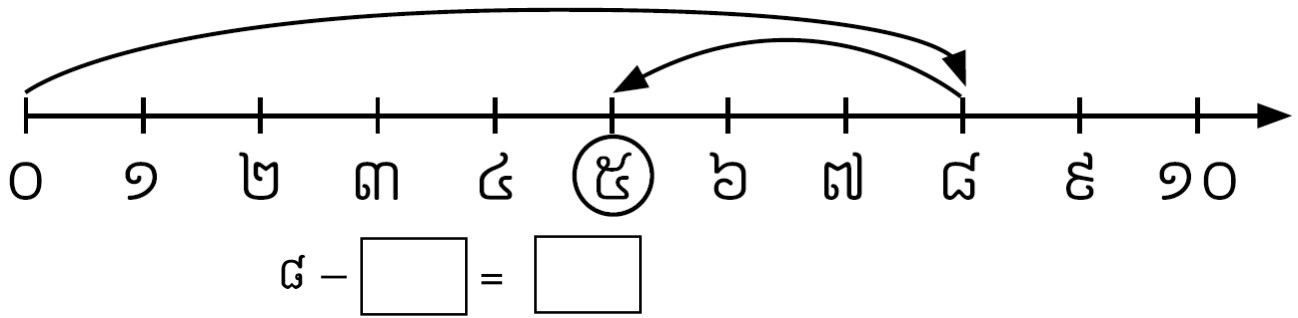
៨ - ១ =

២. ចូរបំពេញចំនួនក្នុង ខាងក្រោម (២ពិន្ទុ)



៨ - =

៣. ចូរបំពេញចំនួនក្នុង តាមបន្ទាត់ចំនួន (២ពិន្ទុ)



៤. ចូររកផលដកខាងក្រោម (៤ពិន្ទុ)

ក. $8 - 6 = \dots\dots\dots$

ខ. $8 - 0 = \dots\dots\dots$

គ.

$$\begin{array}{r} 8 \\ - 7 \\ \hline \dots\dots\dots \end{array}$$

ឃ.

$$\begin{array}{r} 8 \\ - 8 \\ \hline \dots\dots\dots \end{array}$$



សាលាបឋមសិក្សា.....
 ឈ្មោះសិស្ស.....

កិច្ចការផ្ទះ
គណិតវិទ្យា ថ្នាក់ទី១

មេរៀនទី៧ “វិធីបូក វិធីដកចំនួនដែលមានលេខ ១ខ្ទង់”

១. ចូររកផលបូកខាងក្រោម (២ពិន្ទុ)

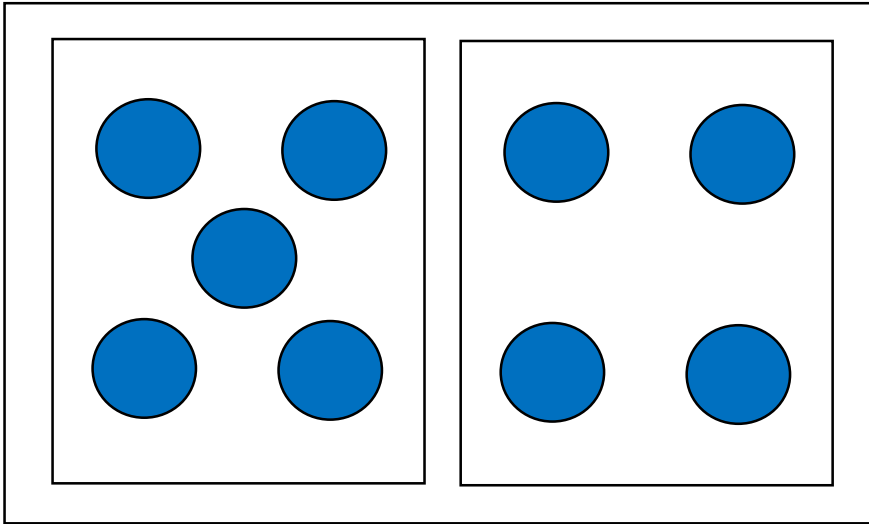
ក.



៨ + ១ =

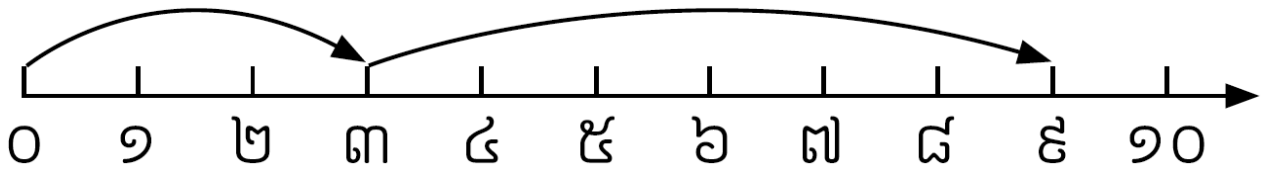
ខ.

២. ចូរបំពេញចំនួនក្នុង ខាងក្រោម (២ពិន្ទុ)



$$៥ + \boxed{} = \boxed{}$$

៣. ចូរបំពេញចំនួនក្នុង តាមបន្ទាត់ចំនួន (២ពិន្ទុ)



$$៣ + \boxed{} = \boxed{}$$

៤. ចូរបំពេញចំនួនក្នុង ខាងក្រោម (៤ពិន្ទុ)

ក. $៩ + ០ = \boxed{}$

ខ.

$$\begin{array}{r} ៤ \\ + \\ \boxed{} \\ \hline ៩ \end{array}$$




សាលាបឋមសិក្សា.....
 ឈ្មោះសិស្ស.....

កិច្ចការផ្ទះ
គណិតវិទ្យា ថ្នាក់ទី១

មេរៀនទី៧ “វិធីបូក វិធីដកចំនួនដែលមានលេខ ១ខ្ទង់”


១. ចូររកផលដកខាងក្រោម (២ពិន្ទុ)

ក.




៩ - ៣ =

ខ.



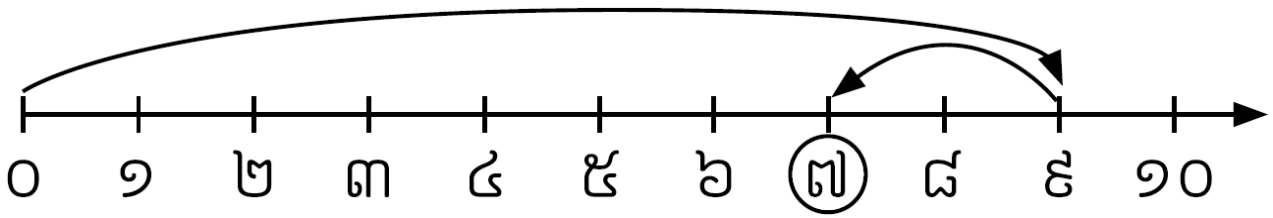
៩ - ៤ =

២. ចូរបំពេញចំនួនក្នុង ខាងក្រោម (២ពិន្ទុ)



៧ - =

៣. ចូរបំពេញចំនួនក្នុង តាមបន្ទាត់ចំនួន (២ពិន្ទុ)



$$9 - \boxed{} = \boxed{}$$

៤. ចូររកផលដកខាងក្រោម (៤ពិន្ទុ)

ក. $9 - 6 = \dots\dots\dots$

ខ. $9 - 8 = \dots\dots\dots$

គ.

$$\begin{array}{r} 9 \\ - 7 \\ \hline \dots\dots\dots \end{array}$$

ឃ.

$$\begin{array}{r} 9 \\ - 5 \\ \hline \dots\dots\dots \end{array}$$




សាលាបឋមសិក្សា.....
 ឈ្មោះសិស្ស.....

កិច្ចការផ្ទះ
គណិតវិទ្យា ថ្នាក់ទី១

មេរៀនទី៧ “វិធីបូក វិធីដកចំនួនដែលមានលេខ ១ខ្ទង់”

១. ចូររកផលបូកខាងក្រោម (២ពិន្ទុ)

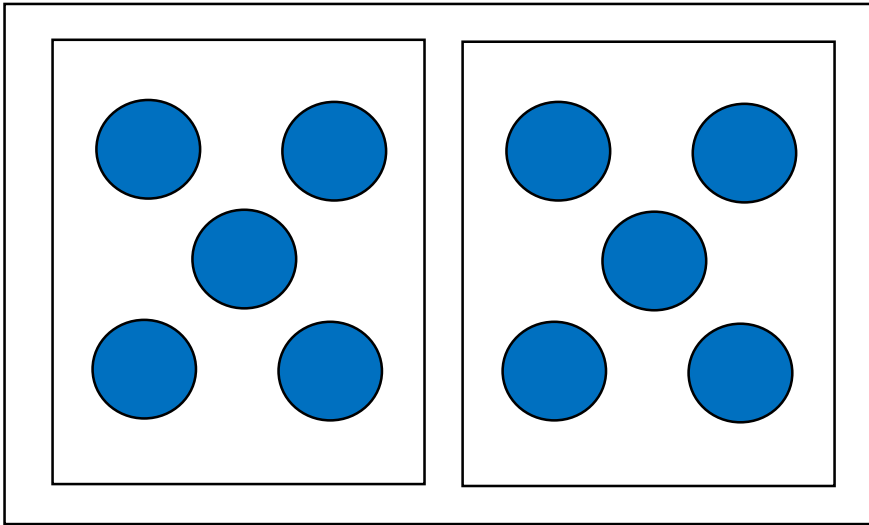
ក.



៨ + ២ =

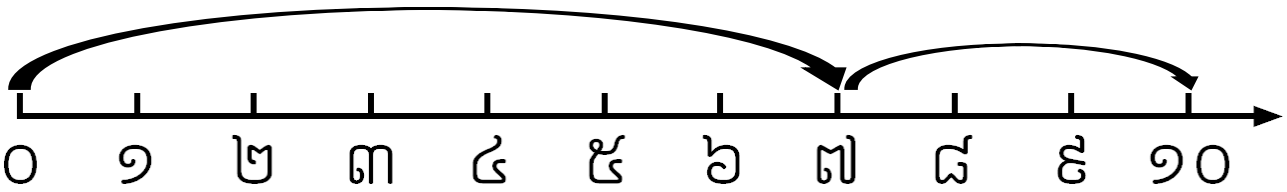
ខ.

២. ចូរបំពេញចំនួនក្នុង ខាងក្រោម (២ពិន្ទុ)



$$៥ + \boxed{} = \boxed{}$$

៣. ចូរបំពេញចំនួនក្នុង តាមបន្ទាត់ចំនួន (២ពិន្ទុ)



$$៧ + \boxed{} = \boxed{}$$

៤. ចូរបំពេញចំនួនក្នុង ខាងក្រោម (៤ពិន្ទុ)

ក. $៩ + ១ = \boxed{}$

ខ.

$$\begin{array}{r} ៤ \\ + \\ \boxed{} \\ \hline ១០ \end{array}$$




សាលាបឋមសិក្សា.....
 ឈ្មោះសិស្ស.....

កិច្ចការផ្ទះ
គណិតវិទ្យា ថ្នាក់ទី១

មេរៀនទី៧ “វិធីបូក វិធីដកចំនួនដែលមានលេខ ១ខ្ទង់”


១. ចូររកផលដកខាងក្រោម (២ពិន្ទុ)

ក.



$10 - 2 = \dots\dots\dots$

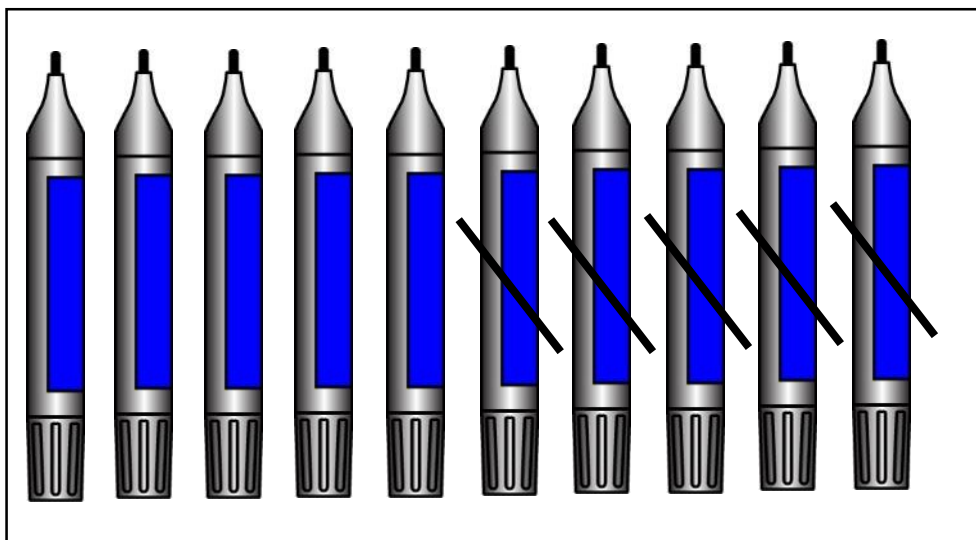
ខ.



$10 - 3 = \dots\dots\dots$

២. ចូរបំពេញចំនួនក្នុង ខាងក្រោម (៤ពិន្ទុ)

ក.

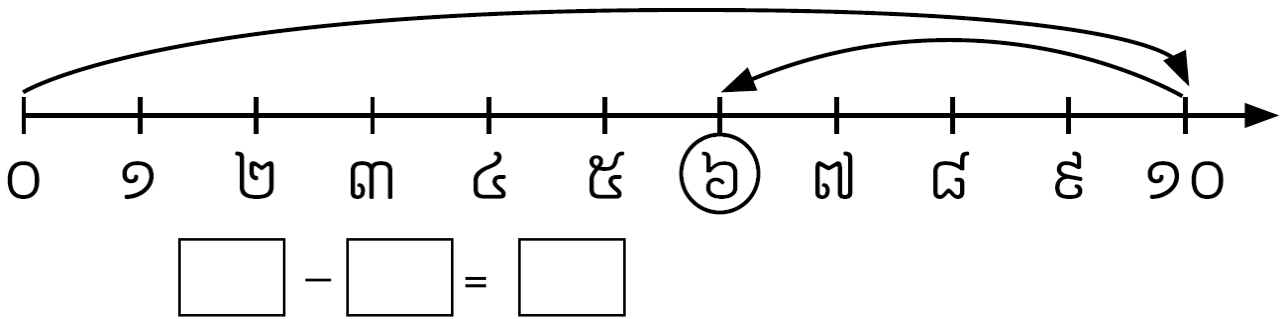


$10 - \square = \square$

ខ.

90

៣. ចូរបំពេញចំនួនក្នុង តាមបន្ទាត់ចំនួន (២ពិន្ទុ)



៤. ចូររកផលដកខាងក្រោម (២ពិន្ទុ)

ក. 90 - 7 =

ខ. 90 - 8 =

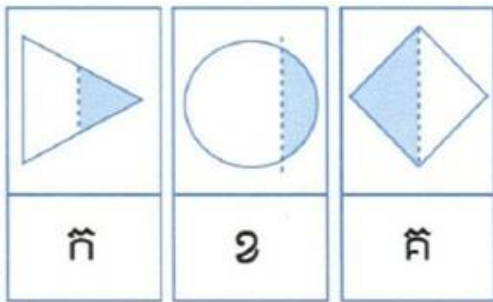


សាលាបឋមសិក្សា.....
 ឈ្មោះសិស្ស.....


កិច្ចការផ្ទះ
គណិតវិទ្យា ថ្នាក់ទី១

មេរៀនទី៨ “ចំណែក” ដល់ មេរៀនទី៩ “ចរណីមាត្រ”

១. ចូររង់អក្សរនៃរូបខាងក្រោមដែលបង្ហាញពីរចំណែកស្មើគ្នា (១ពិន្ទុ)









២. ចូររង់អក្សរនៃរូបខាងក្រោមដែលបង្ហាញពីរចំណែកមិនស្មើគ្នា (១ពិន្ទុ)



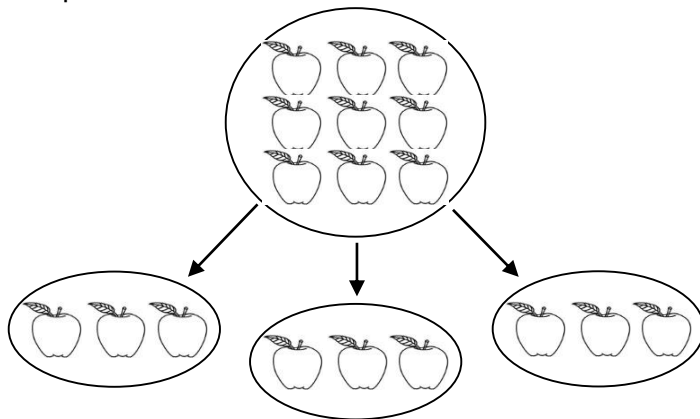
៣. ចូរគូស ក្នុង ដែលបង្ហាញពីរចំណែកស្មើគ្នា (១ពិន្ទុ)

ក. <input type="checkbox"/>		
ខ. <input type="checkbox"/>		
គ. <input type="checkbox"/>		

៤. ចូរគូស ✓ ក្នុង ដែលបង្ហាញពីរចំណែកមិនស្មើគ្នា (១ពិន្ទុ)

ក. <input type="checkbox"/>		
ខ. <input type="checkbox"/>		
គ. <input type="checkbox"/>		

៥. ចូរបំពេញចំនួនក្នុង តាមរូបភាពខាងក្រោមឱ្យបានត្រឹមត្រូវ (១ពិន្ទុ)

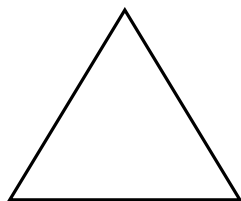


-ផ្លែប៉ោមទាំងអស់មាន

-ចែកជា ចំណែកស្មើគ្នា

-ហើយមួយចំណែកៗបានផ្លែប៉ោម

៦. តើរូបខាងក្រោមមានរាងដូចម្តេច? (១ពិន្ទុ)

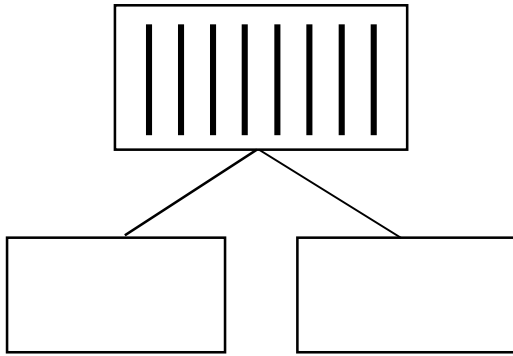


ក. រាងមូល

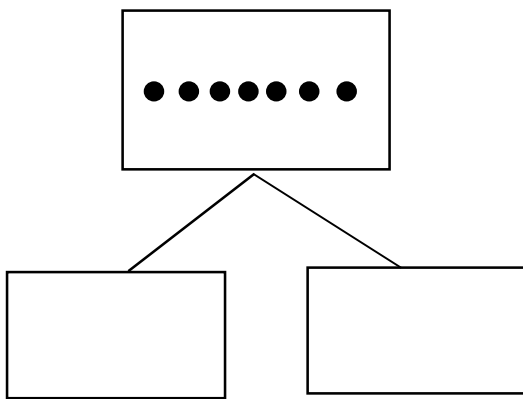
ខ. រាងបួនជ្រុង

គ. រាងបីជ្រុង

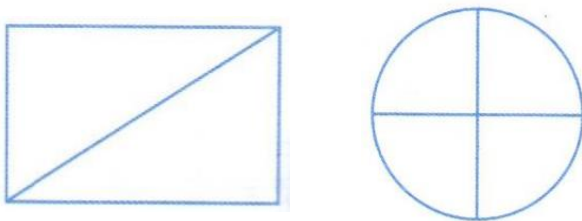
៧. ចូរមើលរូបខាងក្រោមរួចគូសគំនូសតាងជាពីរចំណែកស្មើគ្នា (១ពិន្ទុ)



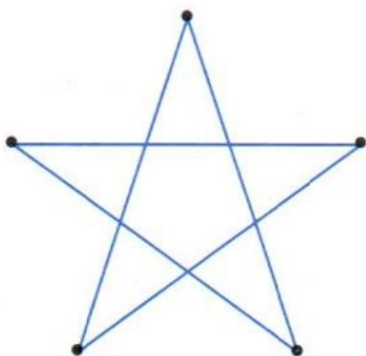
៨. ចូរមើលរូបខាងក្រោមរួចគូសគំនូសតាងជាពីរចំណែកមិនស្មើគ្នា (១ពិន្ទុ)



៩. ចូរផាត់ពណ៌រូបខាងក្រោមឱ្យបានជាពីរចំណែកស្មើគ្នា (១ពិន្ទុ)



១០. ចូរគូសភ្ជាប់ចំណុចតាមគំរូខាងក្រោម (១ពិន្ទុ)







សាលាបឋមសិក្សា.....
 ឈ្មោះសិស្ស.....

កិច្ចការផ្ទះ
គណិតវិទ្យា ថ្នាក់ទី១
មេរៀនទី៩ «ធរណីមាត្រ»

១. ចូររង់អក្សរនៃរូបខាងក្រោមដែលមានរាងកាត (១ពិន្ទុ)



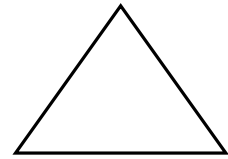
ក



ខ




គ




ឃ

២. ចូរគូស ✓ ក្នុង □ នៃរូបខាងក្រោមដែលមានរាងត្រីកោណ (១ពិន្ទុ)



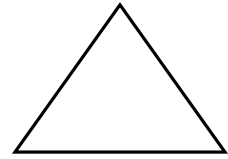
ក □



ខ □



គ □

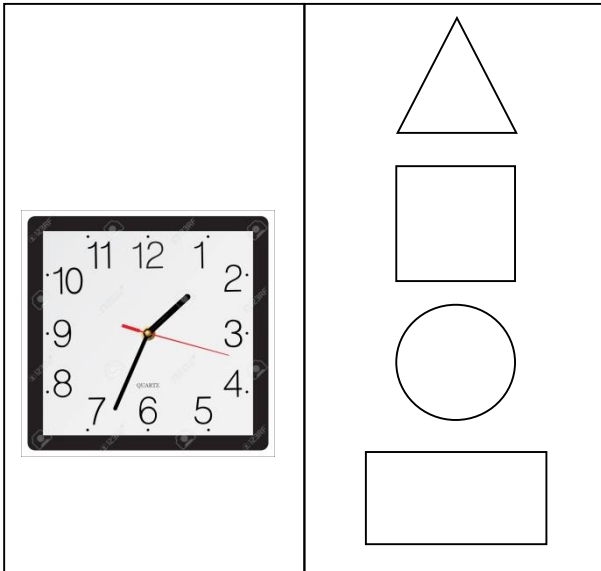


ឃ □


៣. ចូរគូសភ្ជាប់រាងវត្ថុជាមួយនឹងរាងធរណីមាត្រខាងក្រោម (១ពិន្ទុ)

--	--------------

៤. ចូរគូសភ្ជាប់រាងវត្ថុជាមួយនឹងរាងធរណីមាត្រខាងក្រោម (១ពិន្ទុ)



៥. តើកាត់មានរាងដូចម្តេច? (១ពិន្ទុ)

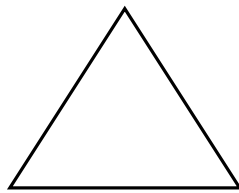


ក. រាងមូល

ខ. រាងបួនជ្រុងស្មើគ្នា

គ. រាងបួនជ្រុង

៦. តើត្រីកោណមានរាងដូចម្តេច? (១ពិន្ទុ)




ក. រាងមូល

ខ. រាងបួនជ្រុង


គ. រាងបីជ្រុង

៧. ចូរសរសេរឈ្មោះរាងធរណីមាត្រខាងក្រោម (១ពិន្ទុ)



.....

៨. ចូរសរសេរឈ្មោះរាងធរណីមាត្រខាងក្រោម (១ពិន្ទុ)



.....

៩. ចូរគូសភ្ជាប់ចំណុចឱ្យបានរាងកាត (១ពិន្ទុ)



១០. ចូរគូសភ្ជាប់ចំណុចឱ្យបានរាងត្រីកោណ (១ពិន្ទុ)







សាលាបឋមសិក្សា.....
 ឈ្មោះសិស្ស.....

កិច្ចការផ្ទះ
គណិតវិទ្យា ថ្នាក់ទី១
មេរៀនទី៩ «ធរណីមាត្រ»

១. ចូររង់អក្សរនៃរូបខាងក្រោមដែលមានរាងចតុកោណកែង (១ពិន្ទុ)



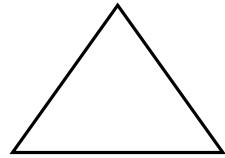
ក



ខ

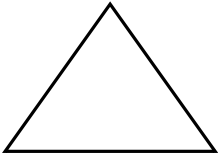


គ




ឃ

២. ចូរគូស ✓ ក្នុង នៃរូបខាងក្រោមដែលមានរាងរង្វង់ (១ពិន្ទុ)




ក



ខ




គ



ឃ

៣. ចូរគូសភ្ជាប់រាងវត្ថុជាមួយនឹងរាងធរណីមាត្រខាងក្រោម (១ពិន្ទុ)

៤. ចូរគូសភ្ជាប់រវាងវត្ថុជាមួយនឹងរាងធរណីមាត្រខាងក្រោម (១ពិន្ទុ)



៥. ចូរគូសរង្វង់ដែលមានទ្រង់ទ្រាយដូចគ្នា (១ពិន្ទុ)



ក



ខ




គ




ឃ

៦. ចូរគូសភ្ជាប់វត្ថុដែលមានទ្រង់ទ្រាយដូចគ្នា (១ពិន្ទុ)



៧. ចូរគូសភ្ជាប់វត្ថុដែលមានទ្រង់ទ្រាយដូចគ្នា (១ពិន្ទុ)




៨. ចូរគូសភ្ជាប់ចំណុចឱ្យបានរាងចតុកោណកែង (១ពិន្ទុ)



៩. ចូរសរសេរឈ្មោះរាងធរណីមាត្រខាងក្រោម (២ពិន្ទុ)



.....




.....



សាលាបឋមសិក្សា.....
 ឈ្មោះសិស្ស.....


កិច្ចការផ្ទះ
គណិតវិទ្យា ថ្នាក់ទី១
មេរៀនទី១០ “ចំនួន ១០ ដល់ ២០”

១. ចូររង់ចំនួនតាមរូបខាងក្រោម (១ពិន្ទុ)




១០ ១១ ១២ ១៣

២. ចូរគូស ក្នុង នៃចំនួនខាងក្រោម (១ពិន្ទុ)





ក. ១១ ខ. ១២ គ. ១៣ ឃ. ១៤

៣. ចូរគូស ក្នុង នៃចំនួនខាងក្រោម (១ពិន្ទុ)



ក. ១៣ ខ. ១៤ គ. ១៥ ឃ. ១៦

៤. ចូរសរសេរលេខតាងចំនួនក្នុងចន្លោះខាងក្រោម (១ពិន្ទុ)

៥. ចូរគូសភ្ជាប់ចំនួនទៅនឹងពាក្យខាងក្រោម (១ពិន្ទុ)

១០	ដប់បួន
១៤	ម្ភៃ
១៨	ដប់
២០	ដប់ប្រាំបី

៦. ចូរសរសេរពាក្យតាងចំនួនខាងក្រោម (១ពិន្ទុ)

១១	១៥
.....

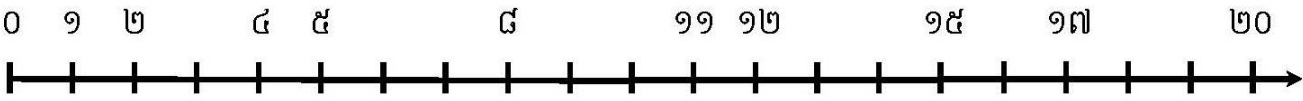
៧. ចូរប្រៀបធៀបចំនួនដោយប្រើសញ្ញា < > = ក្នុង (១ពិន្ទុ)

- ក. ១៥ ១៩
- ខ. ១៨ ១៧
- គ. ២០ ២០
- ឃ. ១៣ ១៦

៨. ចូរបំពេញចំនួនក្នុងចន្លោះតាមលំដាប់ចំនួនខាងក្រោម (១ពិន្ទុ)

១០	១១	១៣	១៦	១៨
----	----	-------	----	-------	-------	----	-------	----

៩. ចូរបំពេញចំនួនលើបន្ទាត់ចំនួនខាងក្រោម (២ពិន្ទុ)





សាលាបឋមសិក្សា.....
 ឈ្មោះសិស្ស.....

កិច្ចការផ្ទះ
គណិតវិទ្យា ថ្នាក់ទី១
មេរៀនទី១០ “ចំនួន១០ ដល់២០”
ដល់មេរៀនទី១១ “វិធីបូក វិធីដកចំនួនដល់២០”

១. ចូររកផលបូកតាមរូបខាងក្រោម (១ពិន្ទុ)

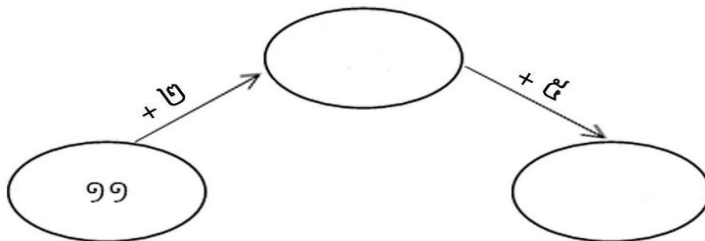
$11 + 6 = \square$

២. ចូរបំពេញចំនួនក្នុង តាមរូបខាងក្រោម (១ពិន្ទុ)

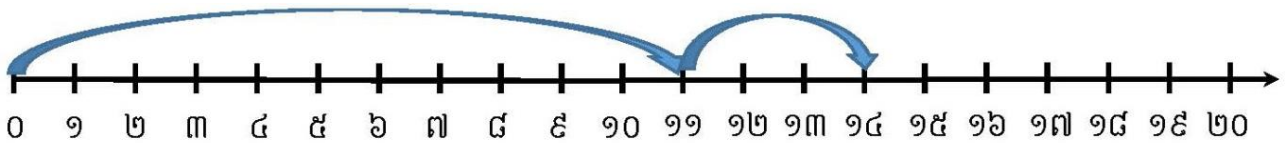
$\square + 8 = \square$

៣. ចូរបំពេញចំនួនក្នុង តាមរូបខាងក្រោម (១ពិន្ទុ)

៤. ចូរបំពេញផលបូកក្នុង (១ពិន្ទុ)




៥. ចូរបំពេញចំនួនក្នុង តាមបន្ទាត់ចំនួន (១ពិន្ទុ)



$$99 + \boxed{} = \boxed{}$$

៦. ចូរបំពេញចំនួនក្នុង តាមបន្ទាត់ចំនួន (១ពិន្ទុ)



$$\boxed{} + \boxed{} = \boxed{}$$

៧. ចូររៀបលំដាប់ចំនួនពីតូចទៅធំ (១ពិន្ទុ)

១៣ ១៨ ១៧ ១៥ ១១

លំដាប់ចំនួនពីតូចទៅធំ

៨. ចូររៀបលំដាប់ចំនួនពីធំទៅតូច (១ពិន្ទុ)

១២ ១៩ ២០ ១០ ១៤

លំដាប់ចំនួនពីធំទៅតូច

៩. ចូរគូសភ្ជាប់ចម្លើយឱ្យបានត្រឹមត្រូវ (២ពិន្ទុ)

១២ + ៥ =	២០
១៤ + ៦ =	១៤
១២ + ២ =	១៧
១៧ + ១ =	១៥
១២ + ៣ =	១៨

សមាសធាតុ




សាលាបឋមសិក្សា.....
 ឈ្មោះសិស្ស.....

កិច្ចការផ្ទះ
គណិតវិទ្យា ថ្នាក់ទី១

មេរៀនទី១១ "វិធីបូក វិធីដកចំនួនជល់២០" ជល់ មេរៀនទី១២ "ប្រវែង"

១. ចូរគូស ក្នុង ដែលមានរូបខ្លីជាង (០.៥ពិន្ទុ)

ក.



ខ.



២. ចូរគូសសញ្ញា ក្នុង ដែលមានរូបវែងជាង (០.៥ពិន្ទុ)

ក.



ខ.



៣. ចូរកផលដកតាមរូបខាងក្រោម (១ពិន្ទុ)

$16 - 5 = \square$

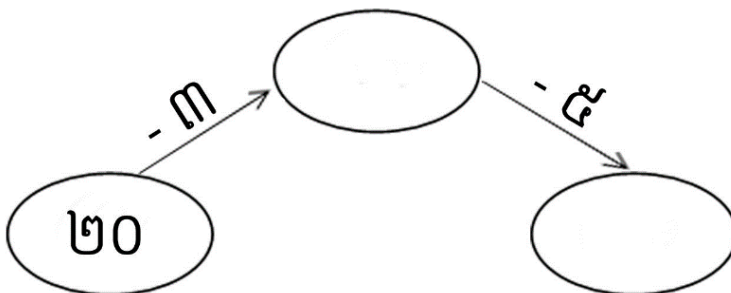
៤. ចូរបំពេញចំនួនក្នុង តាមរូបខាងក្រោម (១ពិន្ទុ)

$17 - \boxed{} = \boxed{}$

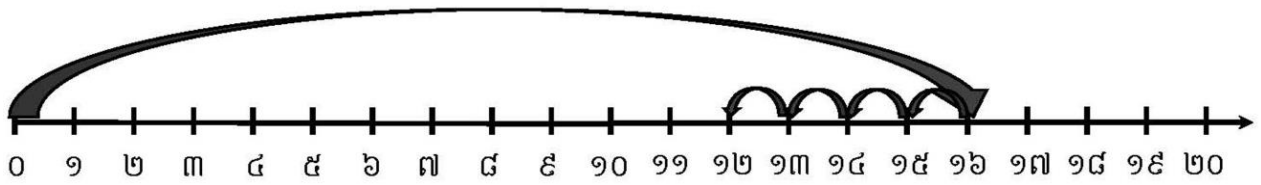
៥. ចូរបំពេញចំនួនក្នុង តាមរូបខាងក្រោម (១ពិន្ទុ)

$\boxed{} - \boxed{} = \boxed{}$

៦. ចូរបំពេញផលដកក្នុងប្រអប់ (១ពិន្ទុ)

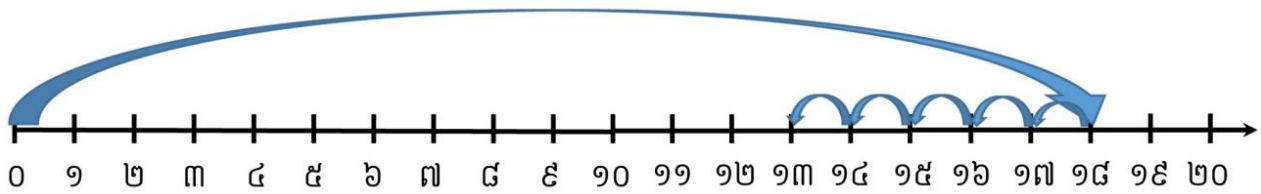


៧. ចូរបំពេញចំនួនក្នុង តាមបន្ទាត់ចំនួន (១ពិន្ទុ)



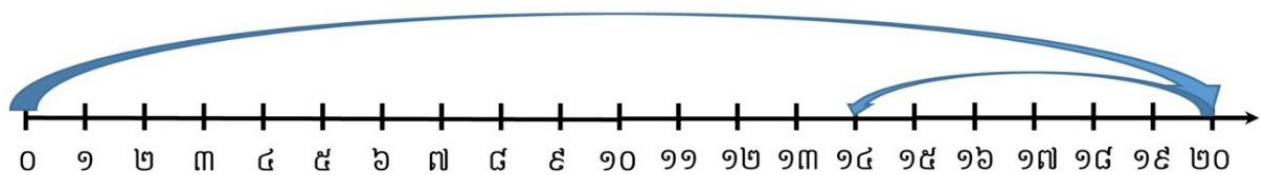
$$16 - 4 = \boxed{}$$

៨. ចូរបំពេញចំនួនក្នុង តាមបន្ទាត់ចំនួន (១ពិន្ទុ)



$$18 - \boxed{} = \boxed{}$$

៩. ចូរបំពេញចំនួនក្នុង តាមបន្ទាត់ចំនួន (១ពិន្ទុ)



$$\boxed{} - \boxed{} = \boxed{}$$

១០. ចូរគូសភ្ជាប់ចម្លើយឱ្យបានត្រឹមត្រូវ (២ពិន្ទុ)

១៤ - ៣ =	១៣
១៩ - ៦ =	១៤
១៧ - ២ =	១១
១៥ - ១ =	១៥
២០ - ៣ =	១៧



សាលាបឋមសិក្សា.....
 ឈ្មោះសិស្ស.....

កិច្ចការផ្ទះ
គណិតវិទ្យា ថ្នាក់ទី១
មេរៀនទី១២ “ប្រព័ន្ធ”

១. ចូរគូស ✓ ក្នុង រូបដែលខ្ពស់ជាង (១ពិន្ទុ)



ក.



ខ.

២. ចូរគូស ✓ ក្នុង រូបដែលទាបជាង (១ពិន្ទុ)



ក.



ខ.

៣. ចូរគូស ✓ ក្នុង រូបដែលទាបជាងគេបំផុត (១ពិន្ទុ)



ក.







ខ.



គ.

៤. ចូរគូស ✓ ក្នុង រូបដែលខ្លីជាងគេបំផុត (១ពិន្ទុ)

- ក. 
- ខ. 
- គ. 
- ឃ. 

៥. ចូរគូស ✓ ក្នុង រូបដែលខ្ពស់ជាងគេបំផុត (១ពិន្ទុ)



ក.



ខ.







គ.




ឃ.

៦. ចូរគូស ✓ ក្នុង រូបព្រួញដែលវែងជាងគេបំផុត (១ពិន្ទុ)

- ក. 
- ខ. 
- គ. 
- ឃ. 

៧. ចូរសរសេរឈ្មោះខ្នាតដែលវាស់ប្រវែងតាមរូបខាងក្រោម (១ពិន្ទុ)




វាស់ដោយប្រើ.....

៨. ចូរសរសេរឈ្មោះខ្នាតដែលវាស់ប្រវែងតាមរូបខាងក្រោម (១ពិន្ទុ)




វាស់ដោយប្រើ.....

៩. ចូរសរសេរឈ្មោះខ្នាតដែលវាស់ប្រវែងតាមរូបខាងក្រោម (១ពិន្ទុ)



វាស់ដោយប្រើ.....។

១០. ចូរបំពេញចំនួនក្នុង តាមរូបខាងក្រោម (១ពិន្ទុ)



តុមានប្រវែង ចំអាម។



សាលាបឋមសិក្សា.....
 ឈ្មោះសិស្ស.....

កិច្ចការផ្ទះ
គណិតវិទ្យា ថ្នាក់ទី១

មេរៀនទី១២ “ប្រវែង” ដល់មេរៀនទី១៣ “ទម្ងន់”

១. ចូរគូស ✓ ក្នុង រូបដែលស្រាលជាង (១ពិន្ទុ)



ក.



ខ.

២. ចូរគូស ✓ ក្នុង រូបដែលធ្ងន់ជាង (១ពិន្ទុ)



ក.



ខ.

៣. ចូរគូស ✓ ក្នុង រូបដែលស្រាលជាងគេ (១ពិន្ទុ)



ក.



ខ.



គ.

៤. ចូរគូស ✓ ក្នុង រូបដែលធ្ងន់ជាងគេ (១ពិន្ទុ)



ក.



ខ.




គ.



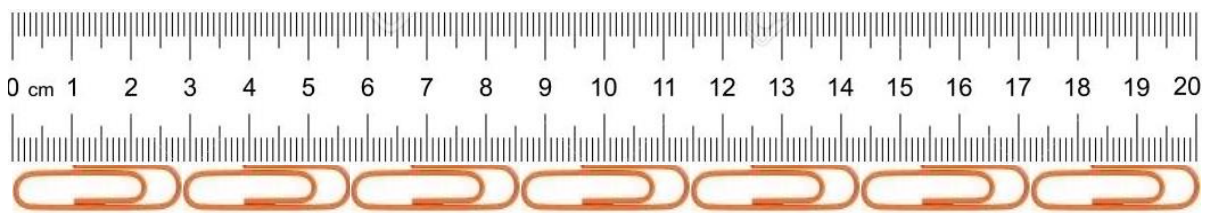
ឃ.

៥. ចូរប្រៀបធៀបទម្ងន់ដោយប្រើពាក្យ “ធ្ងន់ជាង ស្រាលជាង” (១,៥ពិន្ទុ)



កុមារាកុមារី

៦. ចូរបំពេញចំនួនក្នុង តាមរូបខាងក្រោម (១,៥ពិន្ទុ)



បន្ទាត់មានប្រវែង ម្ភាប

៧. ចូរបំពេញចំនួនក្នុង តាមរូបខាងក្រោម (៣ពិន្ទុ)



• ហ្វឺតមានប្រវែង ម្ភាប



• ខ្មៅដៃមានប្រវែង ម្ភាប

• ខ្មៅដៃវែងជាងហ្វឺត ម្ភាប



សាលាបឋមសិក្សា.....
 ឈ្មោះសិស្ស.....

កិច្ចការផ្ទះ
គណិតវិទ្យា ថ្នាក់ទី១

មេរៀនទី១៣ “ទម្ងន់” ដល់មេរៀនទី១៤ “ចំណុះ”

១. ចូរគូស ✓ ក្នុង នៃរូបដែលមានចំណុះច្រើនជាង (១ពិន្ទុ)



ក.



ខ.

២. ចូរគូស ✓ ក្នុង នៃរូបដែលមានចំណុះតិចជាង (១ពិន្ទុ)



ក.



ខ.

៣. ចូរប្រៀបធៀបចំណុះដោយប្រើពាក្យ “ច្រើនជាង ឬ តិចជាង” (១,៥ពិន្ទុ)



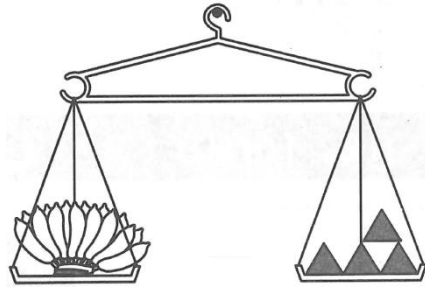
ដបមានចំណុះកែវ។

៤. ចូរប្រៀបធៀបចំណុះដោយប្រើពាក្យ “ច្រើនជាង ឬ តិចជាង” (១,៥ពិន្ទុ)



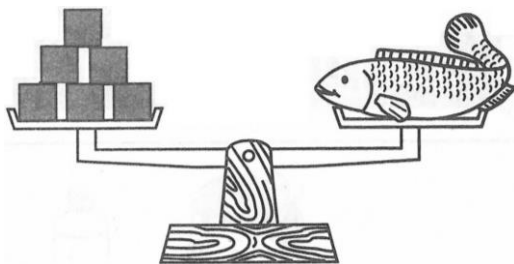
កំសៀវមានចំណុះ.....ផង។

៥. ចូរបំពេញចំនួនក្នុង តាមរូបខាងក្រោម (១ពិន្ទុ)



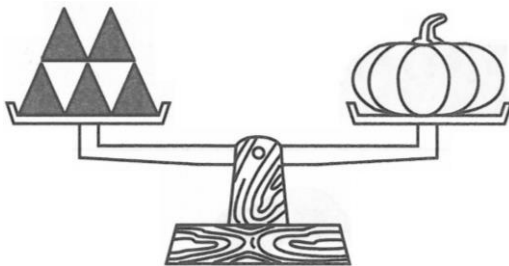
ចេកមានទម្ងន់ស្មើនឹង ខ្នាត

៦. ចូរបំពេញចំនួនក្នុង តាមរូបខាងក្រោម (១ពិន្ទុ)



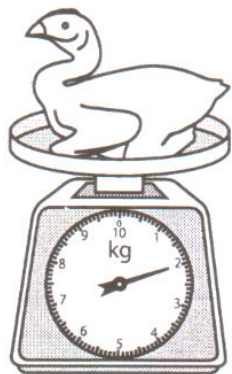
ត្រីមានទម្ងន់ស្មើនឹង ខ្នាត

៦. ចូរបំពេញចំនួនក្នុង តាមរូបខាងក្រោម (១ពិន្ទុ)

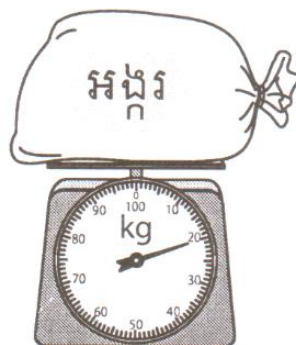


ផ្លែល្ពៅមានទម្ងន់ស្មើនឹង ខ្នាត

៨. ចូរពិនិត្យមើលជញ្ជីងរួចប្រាប់ទម្ងន់ (២ពិន្ទុ)



មានទម្ងន់.....គីឡូក្រាម




អង្ករមានទម្ងន់.....គីឡូក្រាម



សាលាបឋមសិក្សា.....
 ឈ្មោះសិស្ស.....

កិច្ចការផ្ទះ
គណិតវិទ្យា ថ្នាក់ទី១
មេរៀនទី១៤ "ចំណុះ"

១. ចូរគូស ✓ ក្នុង □ នៃចំណុះវត្ថុខាងក្រោម (១ពិន្ទុ)



- ក. កែវតិចជាងដប ខ. កែវច្រើនជាងដប គ. ស្មើគ្នា

២. ចូរគូស ✓ ក្នុង □ នៃចំណុះវត្ថុខាងក្រោម (១ពិន្ទុ)



- ក. ស្មើគ្នា ខ. កែវតិចជាងដប គ. កែវច្រើនជាងដប

៣. តើកំសៀវមានចំណុះស្មើនឹងប៉ុន្មានកែវ? (១ពិន្ទុ)



- ក. ១ កែវ ខ. ២ កែវ គ. ៣ កែវ ឃ. ៤ កែវ

៤. ចូរបំពេញចំនួនចំណុះតាមរូបភាពខាងក្រោម (២ពិន្ទុ)

កំសៀវមានចំណុះស្មើនឹង.....កែវខ្នាត

កំសៀវមានចំណុះស្មើនឹង.....កែវខ្នាត

៥. ចូរបំពេញចំនួនចំណុះតាមរូបភាពខាងក្រោម (២ពិន្ទុ)



បានជំរានចំណុះស្មើនឹង.....កាខ្នាត



ដបមានចំណុះស្មើនឹង.....កែវខ្នាត

៦. ចូរគូសវង់លើអក្សរនៃរូបដែលមានចំណុះច្រើនជាងគេ (១ពិន្ទុ)



ក



ខ



គ



ឃ

៧. ចូរគូសវង់លើអក្សរនៃរូបដែលមានចំណុះតិចជាងគេ (១ពិន្ទុ)



ក



ខ



គ



ឃ

៨. ចូររៀបលំដាប់ចំណុះពី តិច ទៅ ច្រើន (១ពិន្ទុ)



១



២



៣



៤

លំដាប់ចំណុះពីតិចទៅច្រើន២.....



សាលាបឋមសិក្សា.....
ឈ្មោះសិស្ស.....

កិច្ចការផ្ទះ
គណិតវិទ្យា ថ្នាក់ទី១
មេរៀនទី១៥ “ពេលវេលា”

១. ចូរគូស ✓ ក្នុង រូបសម្គាល់ពេលព្រឹក (១ពិន្ទុ)



ក.



ខ.

២. ចូរគូស ✓ ក្នុង រូបសម្គាល់ពេលយប់ (១ពិន្ទុ)



ក.



ខ.

៣. ចូររង់លើអក្សរនៃរូបដែលបង្ហាញពីសកម្មភាពពេលព្រឹក (១ពិន្ទុ)



ក



ខ

៤. ចូររង់លើអក្សរនៃរូបដែលបង្ហាញពីសកម្មភាពពេលថ្ងៃត្រង់ (១ពិន្ទុ)



ក



ខ

៥. ចូររង់លើអក្សរនៃរូបដែលបង្ហាញពីសកម្មភាពពេលល្ងាច (១ពិន្ទុ)



ក



ខ

៦. ចូររង់លើអក្សរនៃរូបដែលបង្ហាញពីសកម្មភាពពេលយប់ (១ពិន្ទុ)



ក



ខ

៧. ចូររៀបលំដាប់សកម្មភាពប្រចាំថ្ងៃចាប់ពីពេលព្រឹក ដល់យប់តាមរូបភាពខាងក្រោម (២ពិន្ទុ)

(ក)

(ខ)

(គ)



លំដាប់សកម្មភាពប្រចាំថ្ងៃ(គ).....

៨. ចូរជ្រើសរើសពាក្យ (ពេលព្រឹក ពេលល្ងាច ពេលយប់) ទៅសរសេរឱ្យត្រូវនឹងរូបភាព (២ពិន្ទុ)



.....



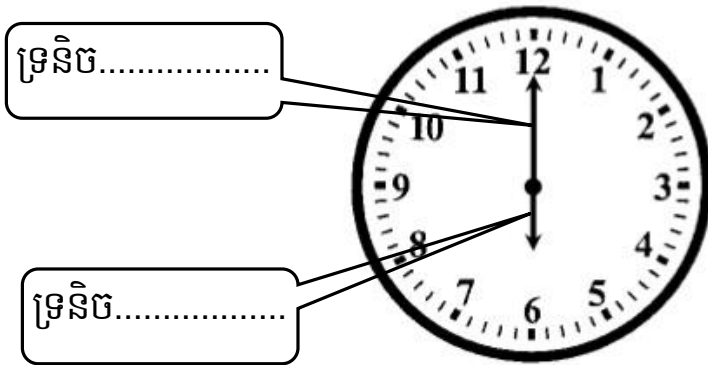
.....



សាលាបឋមសិក្សា.....
 ឈ្មោះសិស្ស.....

កិច្ចការផ្ទះ
គណិតវិទ្យា ថ្នាក់ទី១
មេរៀនទី១៥ “ពេលវេលា”

១. ចូរសរសេរឈ្មោះទ្រនិចនាឡិកា (១ពិន្ទុ)



២. ចូរពិនិត្យមើលរូបនាឡិកា រួចឆ្លើយនឹងសំណួរ (១ពិន្ទុ)




-ទ្រនិចម៉ោងចង្កូលចំលេខ.....
 -ទ្រនិចនាទីចង្កូលចំលេខ.....

៣. ចូរអានម៉ោងខាងក្រោម (២ពិន្ទុ)




អានថាម៉ោង.....

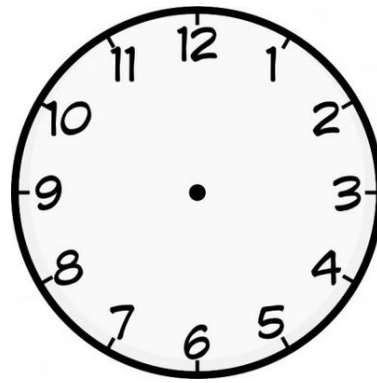


អានថាម៉ោង.....

៤. ចូរគូសទ្រនិចនាឡិកាបង្ហាញម៉ោងខាងក្រោម (២ពិន្ទុ)



ម៉ោង៩គត់



ម៉ោង១១គត់

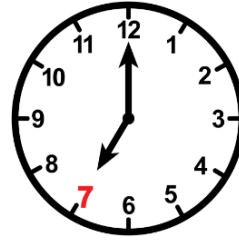
៥. ចូរគូសភ្ជាប់ការអានម៉ោងទៅនឹងរូបនាឡិកា (២ពិន្ទុ)



ម៉ោង៨គត់



ម៉ោង៦គត់




ម៉ោង២គត់



ម៉ោង៧គត់

៦. ចូរប្រាប់ពីពេលវេលាតាមសកម្មភាពក្នុងរូបខាងក្រោម (១ពិន្ទុ)



ពេលព្រឹក ខ្ញុំចូលរៀននៅម៉ោង.....

៧. ចូរប្រាប់ពីពេលវេលាតាមសកម្មភាពក្នុងរូបខាងក្រោម (១ពិន្ទុ)



ពេលល្ងាច ខ្ញុំចេញពីរៀននៅម៉ោង.....



សាលាបឋមសិក្សា.....
 ឈ្មោះសិស្ស.....

កិច្ចការផ្ទះ
គណិតវិទ្យា ថ្នាក់ទី១

មេរៀនទី១៥ “ពេលវេលា” ដល់ មេរៀនទី១៦ “ក្រាបរូបតារ”

១. ចូរគូស ✓ ក្នុង ចំនួនថ្ងៃក្នុងមួយសប្តាហ៍ (១ពិន្ទុ)

- ក. ៥ថ្ងៃ ខ. ៦ថ្ងៃ គ. ៧ថ្ងៃ ឃ. ៨ថ្ងៃ

២. ចូរគូស ✓ ក្នុង ថ្ងៃទី១នៃសប្តាហ៍ (១ពិន្ទុ)

- ក. ថ្ងៃចន្ទ ខ. ថ្ងៃពុធ គ. ថ្ងៃសៅរ៍ ឃ. ថ្ងៃអាទិត្យ

៣. ចូរគូស ✓ ក្នុង ថ្ងៃទី៧នៃសប្តាហ៍ (១ពិន្ទុ)

- ក. ថ្ងៃអាទិត្យ ខ. ថ្ងៃចន្ទ គ. ថ្ងៃសុក្រ ឃ. ថ្ងៃសៅរ៍

៤. ចូរគូស ✓ ក្នុង ចំនួនខែក្នុងមួយឆ្នាំ (១ពិន្ទុ)

- ក. ៧ខែ ខ. ៩ខែ គ. ១២ខែ ឃ. ១៣ខែ

៥. ចូរគូស ✓ ក្នុង ខែទី១នៃឆ្នាំ (១ពិន្ទុ)

- ក. ខែកុម្ភៈ ខ. ខែធ្នូ គ. ខែមករា ឃ. មីនា

៦. ចូរគូស ✓ ក្នុង ខែទី១២ នៃឆ្នាំ (១ពិន្ទុ)

- ក. ខែមិថុនា ខ. ខែសីហា គ. ខែធ្នូ ឃ. ខែតុលា


៧. ចូរសរសេរឈ្មោះខែទី៤នៃឆ្នាំ (១ពិន្ទុ)

ខែ.....

៨. ចូរបំពេញចន្លោះក្នុង □ តាមលំដាប់ថ្ងៃនៃសប្តាហ៍ (១.៥ពិន្ទុ)

អាទិត្យ	ចន្ទ	ព្រហស្បតិ៍	សៅរ៍
---------	------	-------	-------	------------	-------	------

៩. ចូរពិនិត្យរូបភាពរួចឆ្លើយនឹងសំណួរខាងក្រោម (១.៥ពិន្ទុ)



-មាន់មានចំនួន.....ក្បាល

-ស្វាមានចំនួន.....ក្បាល





-ទន្សាយមានចំនួន.....ក្បាល



សាលាបឋមសិក្សា.....
 ឈ្មោះសិស្ស.....


កិច្ចការផ្ទះ
គណិតវិទ្យា ថ្នាក់ទី១
មេរៀនទី១៦ “ក្រាបរូបភាព”

១. ចូរពិនិត្យមើលក្រាបរូបភាព រួចឆ្លើយនឹងសំណួរ (៤ពិន្ទុ)
 ក្រាបរូបភាពបង្ហាញពីចំនួនផ្លែឈើដែល លីណា សុខា ធារី និងដាណែត បានញ៉ាំក្នុងមួយថ្ងៃ។





			
លីណា	សុខា	ធារី	ដាណែត

- លីណាញ៉ាំប៉ោមចំនួនផ្លែ
- សុខាញ៉ាំត្របែកចំនួនផ្លែ
- ធារីញ៉ាំមង្កុតចំនួនផ្លែ
- ដាណែតញ៉ាំក្រូចចំនួនផ្លែ

២.ខាងក្រោមនេះជាចំនួនសត្វដែលគេចិញ្ចឹម (៦ពិន្ទុ)



ក្រាបបង្ហាញចំនួនសត្វដែលគេចិញ្ចឹម

៧				
៦				
៥				
៤				
៣				
២				
១				

ក. ចូរដាត់ពណ៌ក្នុងកូឡោនតាងឱ្យចំនួនសត្វនីមួយៗ

ខ. សត្វឆ្កែមានចំនួន.....ក្បាល

គ. សត្វមាន់មានចំនួន.....ក្បាល

ឃ. សត្វជ្រូកមានចំនួន.....ក្បាល

ង. សត្វទាមានចំនួន.....ក្បាល

ច. សត្វមាន់ច្រើនជាងសត្វទាចំនួន.....ក្បាល

ឆ. សត្វទាំងអស់មានចំនួន.....ក្បាល



សាលាបឋមសិក្សា.....


ឈ្មោះសិស្ស.....

កិច្ចការផ្ទះ

គណិតវិទ្យា ថ្នាក់ទី១

មេរៀនទី១៧ “ចំនួន និងតម្លៃលេខតាមខ្ទង់”

១. ចូរគូសវង់ចំនួនតាមរូបខាងក្រោមឱ្យបានត្រឹមត្រូវ (១ពិន្ទុ)



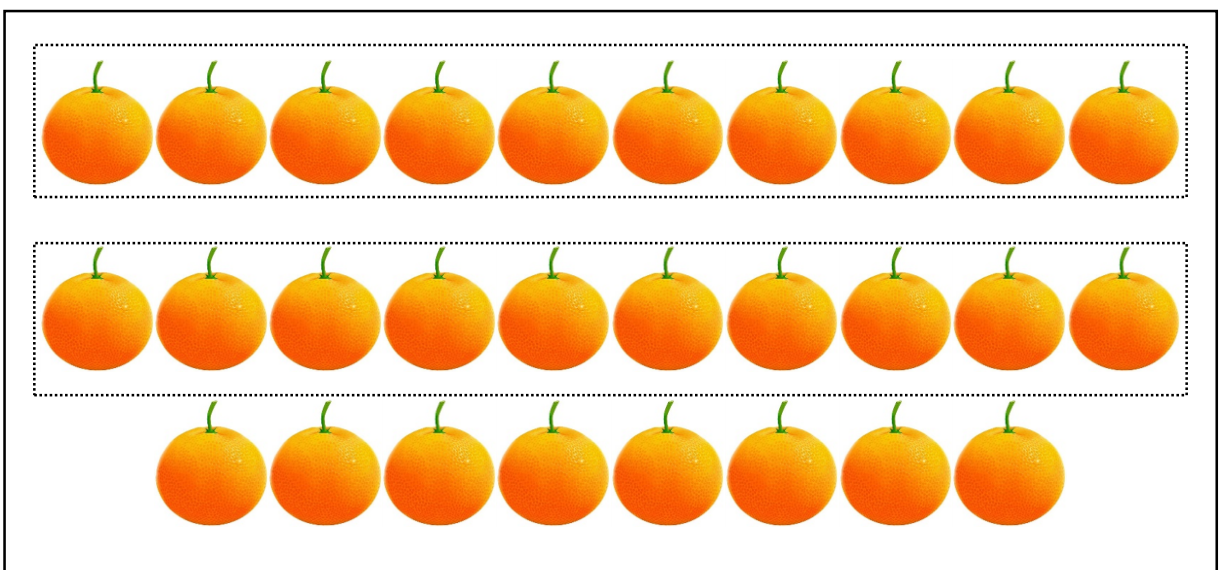
២១

២២

២៣

៣២

២. ចូរគូស ក្នុង ចំនួនតាមរូបខាងក្រោម (១ពិន្ទុ)




ក. ២៦

ខ. ២៧

គ. ២៨

ឃ. ៣៨

៣. ចូរគូស ✓ ក្នុង □ ចំនួនតាមរូបខាងក្រោម (១ពិន្ទុ)




ក. □ ២៤

ខ. □ ២៥


គ. □ ២៦

ឃ. □ ៣៥


៤. ចូរសរសេរលេខតាងចំនួនខាងក្រោម (១ពិន្ទុ)



៥. ចូរសរសេរលេខតាងចំនួនខាងក្រោម (១ពិន្ទុ)



៦. ចូរសរសេរលេខតាងចំនួនខាងក្រោម (១ពិន្ទុ)



៧. ចូរសរសេរពាក្យអាននៃចំនួនខាងក្រោម (២ពិន្ទុ)

២១ អានថា

៣៣ អានថា

៨. ចូរគូសភ្ជាប់ចំនួនទៅនឹងពាក្យអាន (២ពិន្ទុ)

២៣

សាមសិបពីរ

៣៧

ម្ភៃបី

៣២

ម្ភៃប្រាំមួយ

២៦


សាមសិបប្រាំពីរ



សាលាបឋមសិក្សា.....
 ឈ្មោះសិស្ស.....

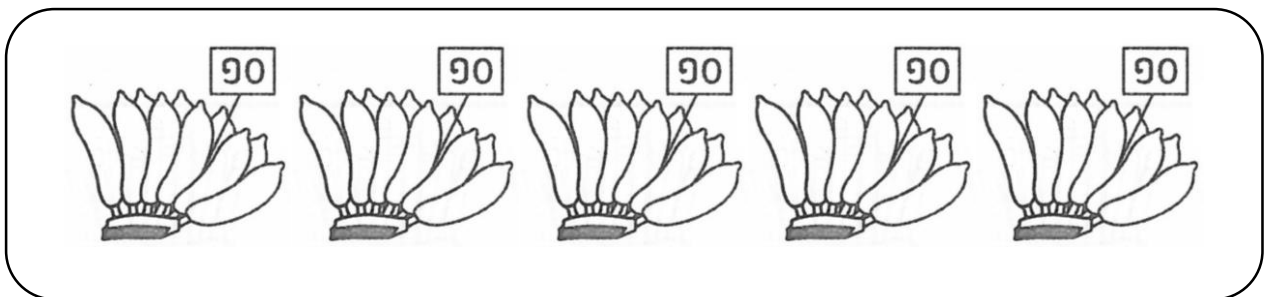
កិច្ចការផ្ទះ
គណិតវិទ្យា ថ្នាក់ទី១
មេរៀនទី១៧ “ចំនួន និងតម្លៃលេខតាមខ្ទង់”

១. ចូរគូសវង់ចំនួនតាមរូបខាងក្រោម (១ពិន្ទុ)



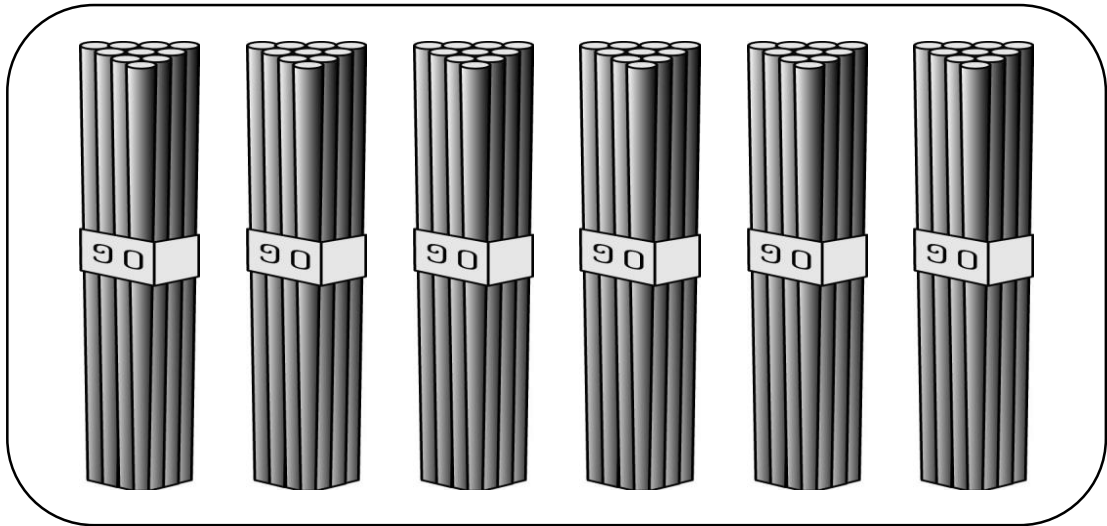
២០ ៣០ ៤០ ៥០

២. ចូរគូសវង់ចំនួនតាមរូបខាងក្រោម (១ពិន្ទុ)



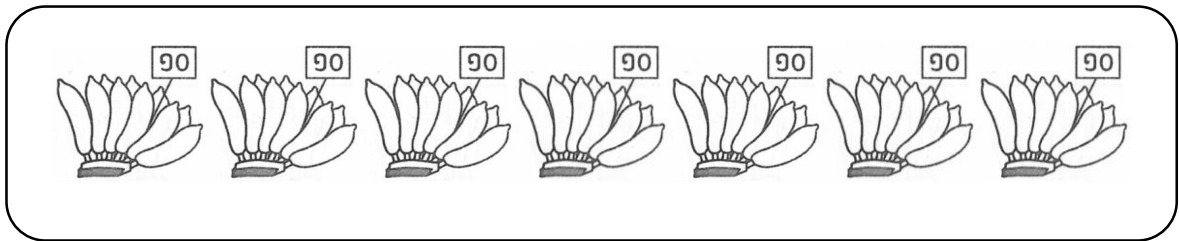
៤០ ៥០ ៦០ ៧០

៣. ចូរគូស ✓ ក្នុង □ តាងចំនួនខាងក្រោម (១ពិន្ទុ)




- ក. ៤០ ខ. ៥០ គ. ៦០ ឃ. ៧០

៤. ចូរគូស ✓ ក្នុង □ តាងចំនួនខាងក្រោម (១ពិន្ទុ)




- ក. ៦០ ខ. ៧០ គ. ៨០ ឃ. ៩០

៥. ចូរសរសេរលេខតាងចំនួនខាងក្រោម (១ពិន្ទុ)



៦. ចូរសរសេរលេខតាងចំនួនខាងក្រោម (១ពិន្ទុ)



.....

៧. ចូរសរសេរពាក្យអាននៃចំនួនខាងក្រោម (២ពិន្ទុ)

៤១ អានថា

៥៧ អានថា

៨. ចូរគូសភ្ជាប់ចំនួនទៅនឹងពាក្យអាន (២ពិន្ទុ)

៧០

មួយរយ

៨០

ចិតសិប

១០០

ប៉ែតសិប

៩០

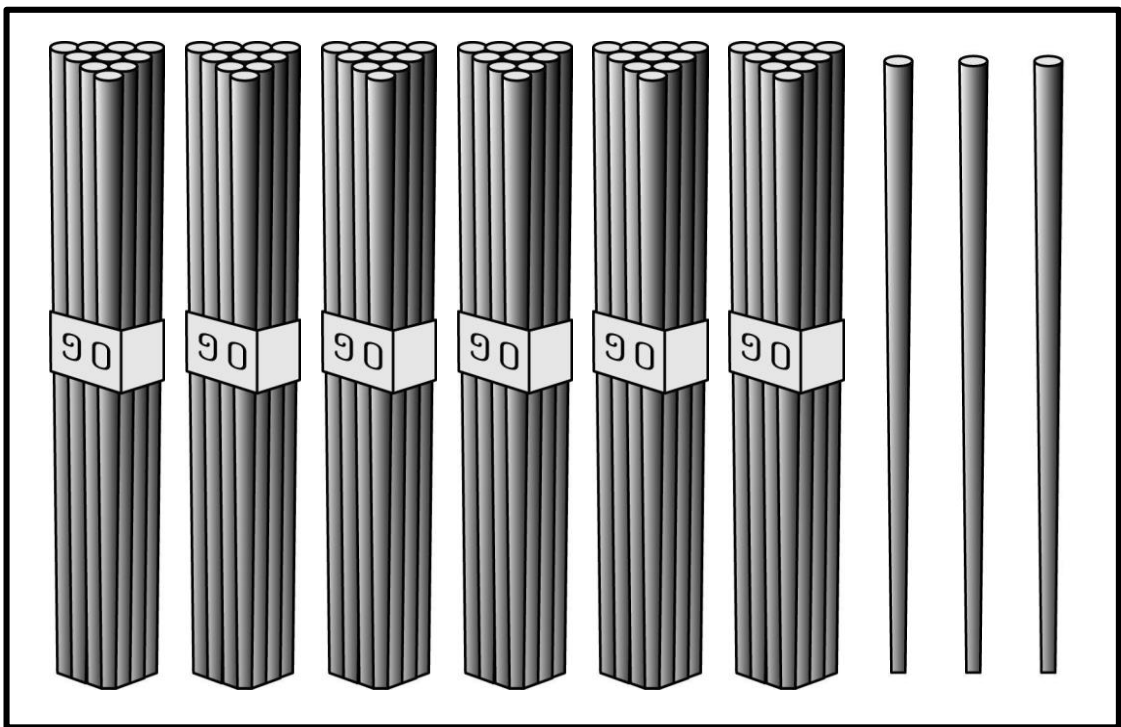
កៅសិប



សាលាបឋមសិក្សា.....
 ឈ្មោះសិស្ស.....

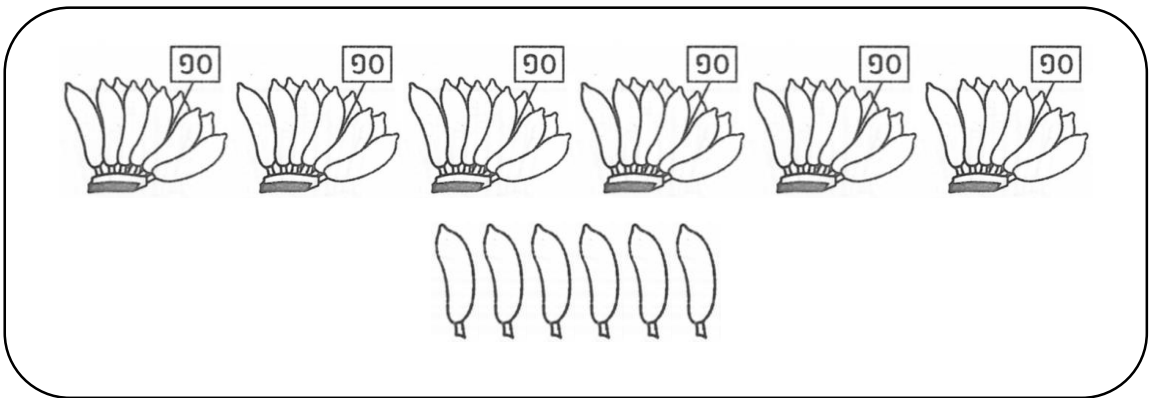
កិច្ចការផ្ទះ
គណិតវិទ្យា ថ្នាក់ទី១
មេរៀនទី១៧ “ចំនួន និងតម្លៃលេខតាមខ្ទង់”

១. ចូររង់ចំនួនតាមរូបខាងក្រោម (១ពិន្ទុ)



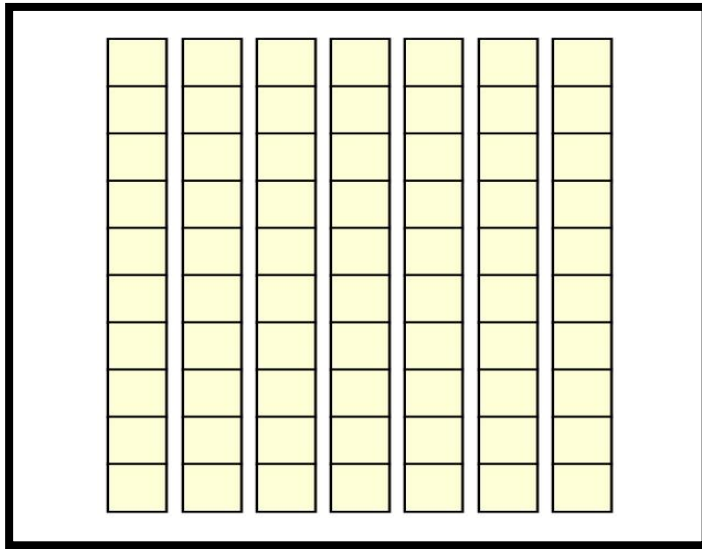
៣៦ ៦១ ៦២ ៦៣

២. ចូរគូស ក្នុង តាងចំនួនខាងក្រោម (១ពិន្ទុ)



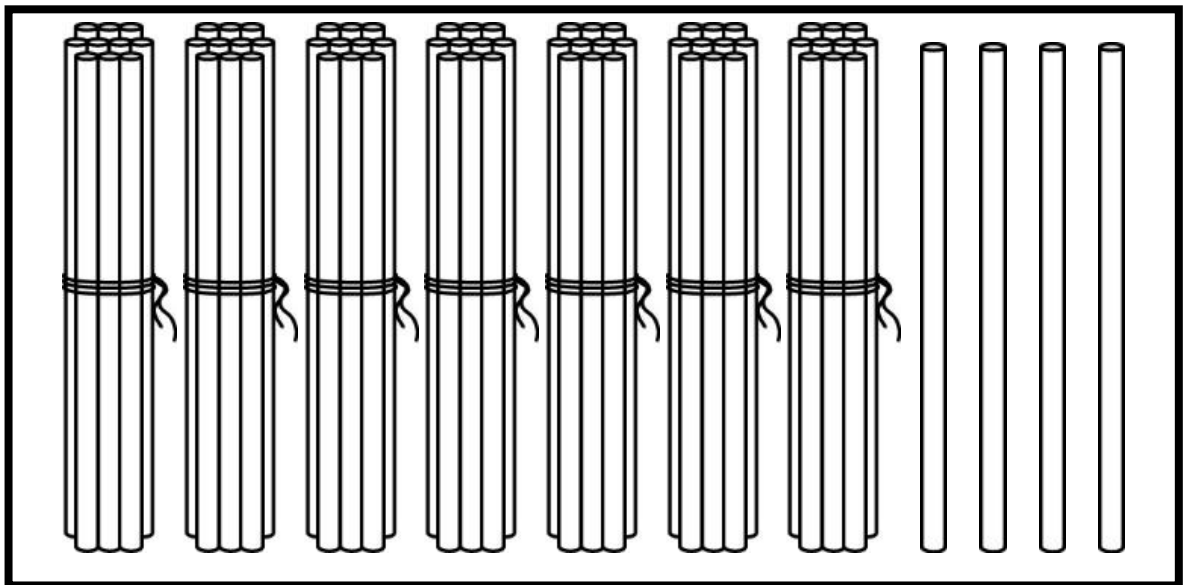
ក. ៤៦ ខ. ៦៥ គ. ៦៦ ឃ. ៦៧

៣. ចូរសរសេរលេខក្នុងចន្លោះតាងចំនួនខាងក្រោម (១ពិន្ទុ)



.....

៤. ចូរសរសេរលេខក្នុងចន្លោះតាងចំនួនខាងក្រោម (១ពិន្ទុ)



.....

៥. ចូរសរសេរលេខក្នុងចន្លោះតាមពាក្យអានខាងក្រោម (២ពិន្ទុ)

ហុកសិបមួយ

ហុកសិបប្រាំបួន

ចិតសិបបី

ចិតសិបប្រាំពីរ

.....

.....

.....

.....

៦. ចូរសរសេរពាក្យអាននៃចំនួនខាងក្រោម (២ពិន្ទុ)

៦៤ អានថា

៨០ អានថា

៧. ចូរគូសភ្ជាប់ចំនួនទៅនឹងពាក្យអាន (២ពិន្ទុ)

៦២

ចិតសិបប្រាំបួន

៧៩

ហុកសិបប្រាំមួយ

៧៦

ហុកសិបពីរ

៦៦

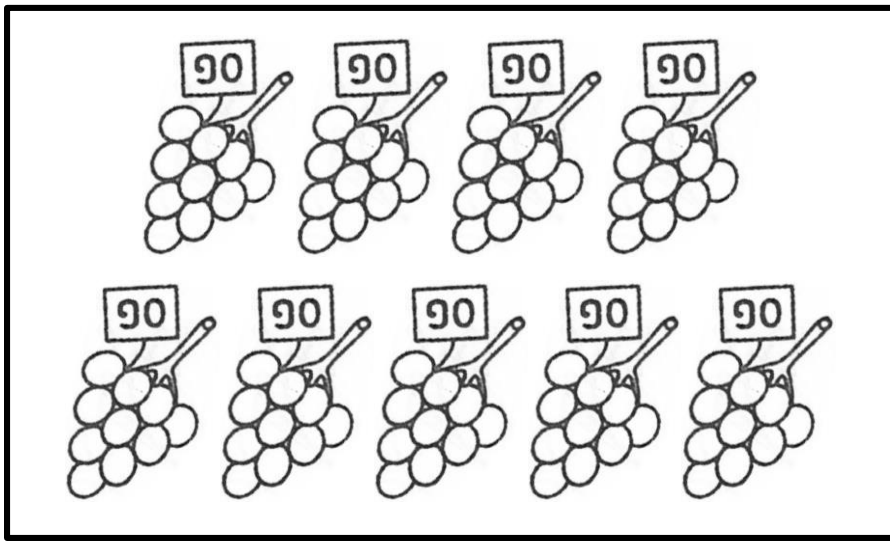
ចិតសិបប្រាំមួយ



សាលាបឋមសិក្សា.....
 ឈ្មោះសិស្ស.....


កិច្ចការផ្ទះ
គណិតវិទ្យា ថ្នាក់ទី១
មេរៀនទី១៧ “ចំនួន និងតម្លៃលេខតាមខ្ទង់”

១. ចូររង់ចំនួនតាមរូបខាងក្រោម (១ពិន្ទុ)




៧០ ៨០ ៩០ ១០០

២. ចូរគូស ក្នុង តាងចំនួនខាងក្រោម (១ពិន្ទុ)




ក. ៤៨ ខ. ៨៣ គ. ៨៤ ឃ. ៨៥

៣. ចូរសរសេរលេខក្នុងចន្លោះតាងចំនួនខាងក្រោម (១ពិន្ទុ)



.....

៤. ចូរសរសេរលេខក្នុងចន្លោះតាងចំនួនខាងក្រោម (១ពិន្ទុ)



.....

៥. ចូរសរសេរលេខក្នុងចន្លោះតាមពាក្យអានខាងក្រោម (២ពិន្ទុ)

ប៉ែតសិបបី

កៅសិបប្រាំបួន

ប៉ែតសិបប្រាំបី

កៅសិបមួយ

.....

.....

.....

.....

៦. ចូរសរសេរពាក្យអាននៃចំនួនខាងក្រោម (២ពិន្ទុ)

៨៥ អានថា

៩២ អានថា

៧. ចូរគូសភ្ជាប់ចំនួនទៅនឹងពាក្យអាន (២ពិន្ទុ)

៩៣

កៅសិបប្រាំមួយ

៨៧

ប៉ែតសិបប្រាំបួន

៨៩

ប៉ែតសិបប្រាំពីរ

៩៦

កៅសិបបី



សាលាបឋមសិក្សា.....
 ឈ្មោះសិស្ស.....

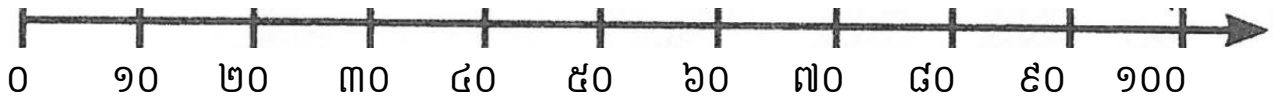
កិច្ចការផ្ទះ
គណិតវិទ្យា ថ្នាក់ទី១
មេរៀនទី១៧ “ចំនួន និងតម្លៃលេខតាមខ្ទង់”

១. ចូរមើលផ្ទាំងកាត១០០ រួចឆ្លើយសំណួរខាងក្រោម (៣,៥ពិន្ទុ)

១	២	៣	៤	៥	៦	៧	៨	៩	១០
១១	១២	១៣	១៤	១៥	១៦	១៧	១៨	១៩	២០
២១	២២	២៣	២៤	២៥	២៦	២៧	២៨	២៩	៣០
៣១	៣២	៣៣	៣៤	៣៥	៣៦	៣៧	៣៨	៣៩	៤០
៤១	៤២	៤៣	៤៤	៤៥	៤៦	៤៧	៤៨	៤៩	៥០
៥១	៥២	៥៣	៥៤	៥៥	៥៦	៥៧	៥៨	៥៩	៦០
៦១	៦២	៦៣	៦៤	៦៥	៦៦	៦៧	៦៨	៦៩	៧០
៧១	៧២	៧៣	៧៤	៧៥	៧៦	៧៧	៧៨	៧៩	៨០
៨១	៨២	៨៣	៨៤	៨៥	៨៦	៨៧	៨៨	៨៩	៩០
៩១	៩២	៩៣	៩៤	៩៥	៩៦	៩៧	៩៨	៩៩	១០០

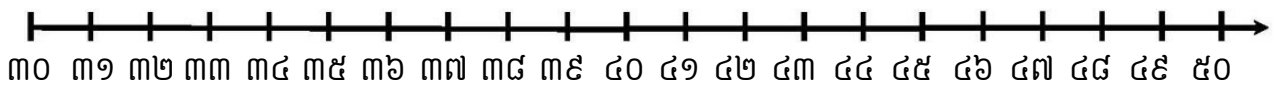
- ក. ចំនួនច្រើនជាង ២៨ ចំនួន២ គឺចំនួន.....
- ខ. ចំនួនច្រើនជាង ៣៤ ចំនួន៥ គឺចំនួន.....
- គ. ចំនួនច្រើនជាង ៤០ ចំនួន១០ គឺចំនួន.....
- ឃ. ចំនួនច្រើនជាង ៦៣ ចំនួន១០ គឺចំនួន.....
- ង. ចំនួនតិចជាង ៧០ ចំនួន៥ គឺចំនួន.....
- ច. ចំនួនតិចជាង ៩០ ចំនួន១០ គឺចំនួន.....
- ឆ. ចំនួនតិចជាង ៩៩ ចំនួន១០ គឺចំនួន.....

២. ចូរមើលបន្ទាត់ចំនួន រួចបំពេញចំនួនក្នុង ខាងក្រោម (២,៥ពិន្ទុ)



១០	២០	៤០	៧០	១០០
----	----	-------	----	-------	-------	----	-------	-------	-----

៣. ចូរមើលបន្ទាត់ចំនួនរួចឆ្លើយនឹងសំណួរខាងក្រោម (៤ពិន្ទុ)



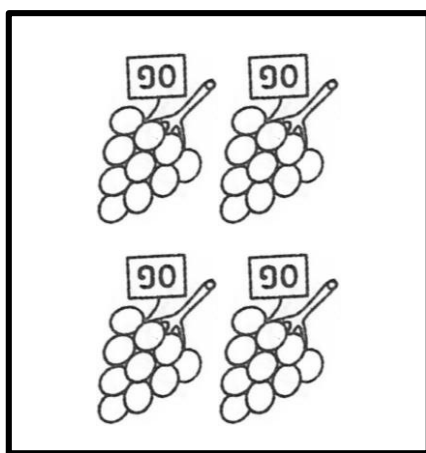
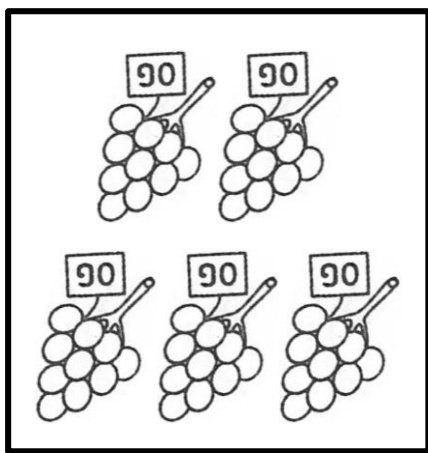
- ក. ចំនួនច្រើនជាង ៣១ ចំនួន២ គឺចំនួន.....
- ខ. ចំនួនច្រើនជាង ៣៤ ចំនួន៣ គឺចំនួន.....
- គ. ចំនួនច្រើនជាង ៤០ ចំនួន៤ គឺចំនួន.....
- ឃ. ចំនួនច្រើនជាង ៤៥ ចំនួន៥ គឺចំនួន.....
- ង. ចំនួនតិចជាង ៣៨ ចំនួន៣ គឺចំនួន.....
- ច. ចំនួនតិចជាង ៤០ ចំនួន៤ គឺចំនួន.....
- ឆ. ចំនួនតិចជាង ៤៦ ចំនួន៥ គឺចំនួន.....
- ជ. ចំនួនតិចជាង ៤៩ ចំនួន៦ គឺចំនួន.....



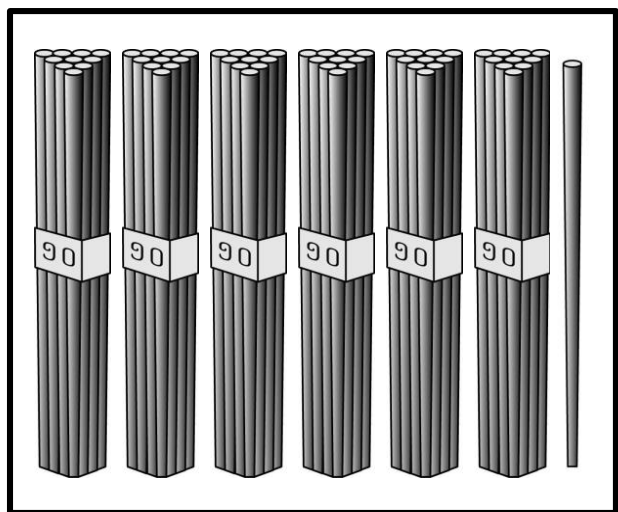
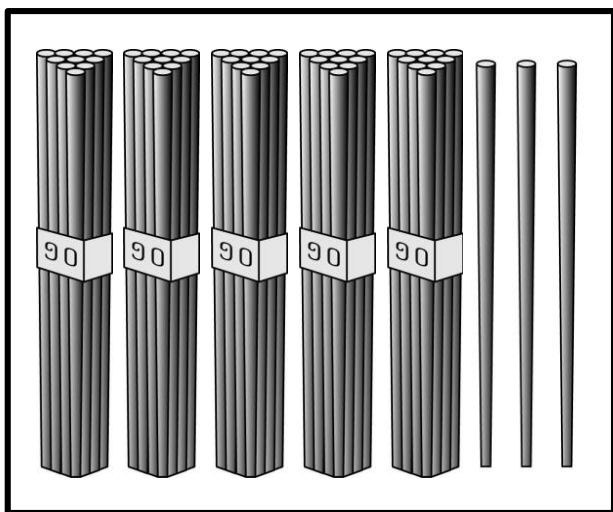
សាលាបឋមសិក្សា.....
 ឈ្មោះសិស្ស.....

កិច្ចការផ្ទះ
គណិតវិទ្យា ថ្នាក់ទី១
មេរៀនទី១៧ “ចំនួន និងតម្លៃលេខតាមខ្ទង់”

១. ចូរប្រៀបធៀបចំនួនដោយប្រើសញ្ញា $< > =$ ក្នុង (១ពិន្ទុ)



២. ចូរបំពេញចំនួន និងប្រៀបធៀបដោយប្រើសញ្ញា $< > =$ ក្នុង (២ពិន្ទុ)



៣. ចូរប្រៀបធៀបចំនួនដោយប្រើសញ្ញា < > = ក្នុង (៣ពិន្ទុ)

ក. ៧៤ ៦៦

ខ. ៨៨ ៩១

គ. ៥៧ ៥៧

៤. ចូររៀបលំដាប់ចំនួនពីតូចទៅធំតាមចំនួនខាងក្រោម (២ពិន្ទុ)

៤៨ ៦៣ ៥៦ ៧១ ៣៩

-លំដាប់ចំនួនពីតូចទៅធំ

៥. ចូររៀបលំដាប់ចំនួនពីធំទៅតូចតាមចំនួនខាងក្រោម (២ពិន្ទុ)

៦៦ ៤៤ ៥៩ ៩២ ៨៣

-លំដាប់ចំនួនពីធំទៅតូច



សាលាបឋមសិក្សា.....
 ឈ្មោះសិស្ស.....

កិច្ចការផ្ទះ
គណិតវិទ្យា ថ្នាក់ទី១
មេរៀនទី១៧ “ចំនួន និងតម្លៃលេខតាមខ្ទង់”

១. ចូររៀបលំដាប់ចំនួនពីតូចទៅធំតាមចំនួនខាងក្រោម (២ពិន្ទុ)

២៧ ៥៤ ២៣ ៦១ ៣៦



- លំដាប់ចំនួនពីតូចទៅធំ

២. ចូររៀបលំដាប់ចំនួនពីធំទៅតូចតាមចំនួនខាងក្រោម (២ពិន្ទុ)

៥៥ ៦៣ ៤៩ ៨១ ៧២

- លំដាប់ចំនួនពីធំទៅតូច

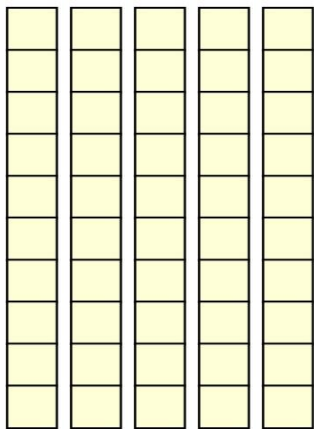

៣. ចូរប្រាប់ខ្ទង់នៃចំនួនក្នុងតារាងខាងក្រោម (១ពិន្ទុ)

ខ្ទង់ដប់	ខ្ទង់រាយ
	
៣	៥

- លេខ ៣ នៅខ្ទង់.....

- លេខ ៥ នៅខ្ទង់.....

៤. ចូរបំពេញចំនួនក្នុងតារាង រួចប្រាប់ខ្ទង់នៃចំនួនខាងក្រោម (២ពិន្ទុ)

ខ្ទង់ដប់	ខ្ទង់រាយ
	
<p>.....</p>	<p>.....</p>

-លេខ ៥ នៅខ្ទង់.....

-លេខ ៦ នៅខ្ទង់.....

៥. ចូរប្រាប់ខ្ទង់នៃចំនួនខាងក្រោម (៣ពិន្ទុ)

ក. ៦៧

-លេខ ៦ នៅខ្ទង់.....

-លេខ ៧ នៅខ្ទង់.....

ខ. ៨៩

-លេខ ៨ នៅខ្ទង់.....

-លេខ ៩ នៅខ្ទង់.....

គ. ៩២

-លេខ ៩ នៅខ្ទង់.....

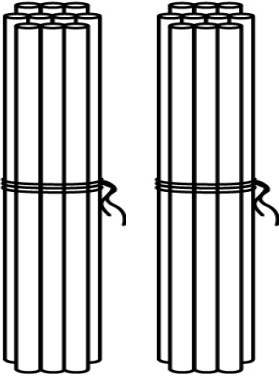

-លេខ ២ នៅខ្ទង់.....



សាលាបឋមសិក្សា.....
 ឈ្មោះសិស្ស.....

កិច្ចការផ្ទះ
គណិតវិទ្យា ថ្នាក់ទី១
មេរៀនទី១៧ “ចំនួន និងតម្លៃលេខតាមខ្ទង់”

១. ចូរប្រាប់តម្លៃលេខតាមខ្ទង់ខាងក្រោម (១ពិន្ទុ)

ខ្ទង់ដប់	ខ្ទង់រាយ
	
២	៦

-លេខ ២ នៅខ្ទង់ដប់ មានតម្លៃ

-លេខ ៦ នៅខ្ទង់រាយ មានតម្លៃ

២. ចូរសរសេរចំនួនក្នុងតារាង រួចប្រាប់តម្លៃលេខតាមខ្ទង់ (២ពិន្ទុ)

ក. ៤៦

ខ. ៥៨

ខ្ទង់ដប់	ខ្ទង់រាយ
.....

ខ្ទង់ដប់	ខ្ទង់រាយ
.....

-លេខ ៤ នៅខ្ទង់ដប់ មានតម្លៃ.....

-លេខ ៦ នៅខ្ទង់រាយ មានតម្លៃ.....

-លេខ ៥ នៅខ្ទង់ដប់ មានតម្លៃ.....

-លេខ ៨ នៅខ្ទង់រាយ មានតម្លៃ.....



សាលាបឋមសិក្សា.....
 ឈ្មោះសិស្ស.....

កិច្ចការផ្ទះ
គណិតវិទ្យា ថ្នាក់ទី១
មេរៀនទី១៨ “រូបិយវត្ថុ”

១. ចូររង់លើអក្សរដែលបង្ហាញប្រភេទក្រដាសប្រាក់ហាសិបរៀល (១ពិន្ទុ)



ក



ខ



គ

២. ចូររង់លើអក្សរដែលបង្ហាញផ្ទៃខាងមុខនៃក្រដាសប្រាក់ហាសិបរៀល (១ពិន្ទុ)



ក



ខ.



គ

៣. ចូររង់លើអក្សរដែលបង្ហាញផ្ទៃខាងខ្នងនៃក្រដាសប្រាក់ហាសិបរៀល (១ពិន្ទុ)



ក



ខ.



គ

៤. ចូរគូស ក្នុង ប្រភេទក្រដាសប្រាក់មួយរយរៀល (១ពិន្ទុ)



ក.



ខ.



គ.

៥. ចូរគូស ✓ ក្នុង ផ្ទៃខាងខ្នងនៃក្រដាសប្រាក់មួយរយរៀល (១ពិន្ទុ)



ក.

ខ.

គ.

៦. ចូរគូស ✓ ក្នុង ផ្ទៃខាងមុខនៃក្រដាសប្រាក់មួយរយរៀល (១ពិន្ទុ)





ក.

ខ.

គ.

៧. ចូររង់លើអក្សរនៃវត្ថុដែលកុមារអាចទិញបាន (២ពិន្ទុ)



៨. ចូរជ្រើសរើសពាក្យ (ហាសិបរៀល មួយរយរៀល) ទៅសរសេរឱ្យត្រូវនឹងប្រភេទក្រដាសប្រាក់ (២ពិន្ទុ)



.....




.....









សាលាបឋមសិក្សា.....
 ឈ្មោះសិស្ស.....

កិច្ចការផ្ទះ
គណិតវិទ្យា ថ្នាក់ទី១
មេរៀនទី១៩ “លំនាំគំរូ”




១. ចូររង់លើអក្សរនៃលំនាំគំរូតាមទំហំដែលត្រឹមត្រូវ (១ពិន្ទុ)



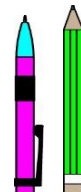
ក.  ,  , 




ខ.  ,  , 

គ.  ,  , 

២. ចូរគូស ក្នុង លំនាំគំរូតាមរូបដែលត្រឹមត្រូវ (២ពិន្ទុ)

ក.  ,  , 

ខ.  ,  , 

គ.  ,  , 

៣. ចូរគូស ✓ ក្នុង □ លំនាំគំរូតាមលេខដែលត្រឹមត្រូវ (២ពិន្ទុ)

ក. □ ៣ ៥ ៧ , ៣ ៧ ៥ , ៧ ៥ ៣ , ៥ ៥ ៧

ខ. □ ២ ៤ ៦ , ៦ ២ ៤ , ៤ ៦ ២ , ៦ ២ ៤

គ. □ ៨ ៩ ១០ , ៨ ៩ ១០ , ៨ ៩ ១០ , ៨ ៩ ១០

៤. ចូរបំពេញលំនាំគំរូតាមលេខខាងក្រោម (២ពិន្ទុ)

៧ ៨ ៩ , ៧ ៨ ៩ , ៧ □ □ ; □ □ □

៥. ចូរបំពេញលំនាំគំរូតាមរូបខាងក្រោម (៣ពិន្ទុ)


○ △ □ , ○ △ □ , ○ □ , △





សាលាបឋមសិក្សា.....
 ឈ្មោះសិស្ស.....

កិច្ចការផ្ទះ
គណិតវិទ្យា ថ្នាក់ទី១
មេរៀនទី១៩ “លំនាំគំរូ”

១. ចូររង់លើអក្សរនៃលំនាំគំរូស្នូនដែលត្រឹមត្រូវ (១ពិន្ទុ)

ក.  ;

ខ.  ;

គ.  ;

២. ចូររង់លើអក្សរនៃលំនាំគំរូស្នូនដែលត្រឹមត្រូវ (១ពិន្ទុ)

- ក. ២ ៣ ៤ ៥ ; ២ ៣ ៤ ៥ ; ២ ៣ ៤ ៥
- ខ. ១ ២ ៣ ៣ ; ១ ២ ៣ ៣ ; ១ ២ ៣ ៣
- គ. ៦ ៧ ៨ ៨ ; ៨ ៨ ៧ ៦ ; ៧ ៦ ៨ ៨

៣. ចូរគូស ក្នុង លំនាំគំរូស្នូនដែលត្រឹមត្រូវ (១ពិន្ទុ)

- ក. ១ ៣ ៥ ; ១ ៣ ៥ ; ១ ៣ ៥
- ខ. ៤ ៦ ៨ ; ៤ ៦ ៨ ; ៤ ៦ ៨
- គ. ៤ ៤ ៤ ៥ ; ៤ ៤ ៤ ៥ ; ៤ ៤ ៤ ៥

៤. ចូរបំពេញលំនាំគំរូស្ទួនខាងក្រោម (៣ពិន្ទុ)

៧ ៨ ៩ ៩ ; ៧ ៨ ៩ ៩ ; ៧ ៨ ;

៥. ចូរផ្គត់ផ្គង់លើរូបដើម្បីបង្កើតលំនាំគំរូតាមពណ៌ (៤ពិន្ទុ)

; ;